

## المكونات الكيميائية و الفيزيائية للكائن الحي

### المكونات المعدنيّة

#### أهداف الدرس :

- الكشف التجريبي عن وجود الماء في المادة الحية.
- تحضير محلول معدني من أعضاء حية نباتية و حيوانية.
- الكشف عن بعض المكونات المعدنية  $Fe^{+2}$ ،  $Cl^-$ ،  $SO_4^{-}$ ،  $I^-$ ،  $PO_4^{-}$ ،  $Ca^{+}$ ،  $K^{+}$  )
- إستخراج نسبها و أشكال تواجدها و أهميتها في المادة.

المدة اللازمة للدرس : ٥٠ ساعات.

**الوسائل اللازمة للدرس :** أنابيب اختبار، موقد، ماسك، علبه كبريت، رشاحة الرماد النباتي، رشاحة العدس، رشاحة السمك، بول، مصل الحليب، أوراق خضراء، عضلة طازجة، بذور، عظم، حمض كلور الماء ( HCL ) حمض الآزوت ( $HN_3$ ) نترات الفضة ( $AgNO_3$ )، كلور الباريوم ( $BaCl_2$ )، كاشف الموليبيدات، أكزالات الأمونيوم، حمض البكريك.

**المراجع الخاصة بالدرس :** كتاب العلوم الطبيعية. السنة الثالثة ثانوي.

#### تصميم الدرس : - تمهيد

- الكشف عن وجود الماء في أعضاء نباتية وحيوانية.
- تحضير محلول معدني من أعضاء حية نباتية وحيوانية.
- الكشف عن بعض الشوارد المعدنية في عينات مختلفة.
- نسبة الماء و الأملاح المعدنية و أهميتها في المادة.
- أسئلة التصحيح الذاتي. - أجوبة التصحيح الذاتي.

## تمهيد

ترتبط الحياة بوجود الماء على صورته السائلة، و لا حياة بدون ماء، لذلك فهو يتواجد في كل الكائنات الحية.

و السؤال المطروح : كيف نكشف عن وجوده ؟ و ما هي أهميته ؟

## ١ - الكشف عن وجود الماء :

- تجربة : نضع في أربعة أنابيب اختبار جافة على التوالي :

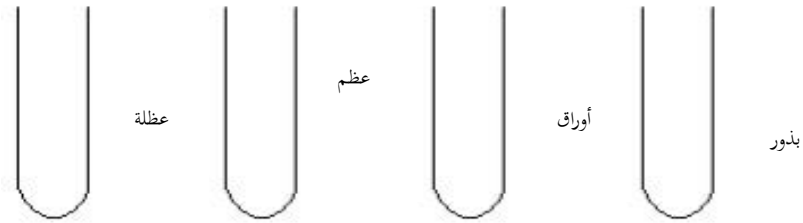
أ - الأنبوب الأول : بذور قمح أو فاصوليا.

ب - الأنبوب الثاني : أوراق خضراء.

ج - الأنبوب الثالث : قطعه من عظم.

د - الأنبوب الرابع : عضلة طازجة.

- نسخن الأنابيب الأربعة على نار هادئة. أنظر الشكل - ١ -



**الملاحظة:** أنطلاق بخار الماء في الأنابيب الأربعة و تكاثفه بشكل قطيرات مائية على الجدران الداخلية للأنابيب.

**النتيجة :** تحتوي أعضاء الكائنات الحية الحيوانية و النباتية على الماء

**٢- تحضير محلول معدني :****أ - أعضاء نباتية**

رشاحة الرماد النباتي : نحرق أوراق وسيقان نباتية حرقاً كاملاً ( تعرف هذه العملية بالترميد ) فنحصل على الرماد النباتي، ثم نقوم بغلي ٢٠٠ غ من هذا الرماد النباتي في ( ١ ) لتر من الماء المقطر لمدة ( ١٥ ) دقيقة ثم نرشح الخليط، فنحصل على سائل شفاف نسبياً يعرف برشاحة الرماد النباتي.

**رشاحة العدس :**

نقوم بغلي ١٠٠ غ من العدس في ١ لتر من الماء المقطر لمدة ١٥ دقيقة إلى ٢٠ دقيقة ثم نسحقه جيداً، و نرشح الخليط فنحصل على رشاحة العدس.

**رشاحة السمك :**

نغلي ١٠٠ غ من السمك في ١ لتر من الماء المقطر لمدة من ١٥ إلى ٢٠ دقيقة مع السحق و الخلط الجيد، ثم نرشح فنحصل على رشاحة السمك.

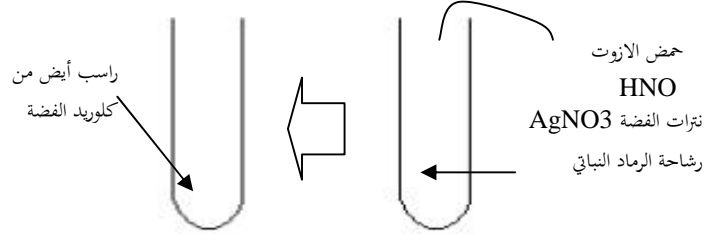
**الكشف عن بعض الشوارد المعدنية :**

يتم الكشف عن الأملاح المعدنية في الرشاحات ( رشاحة الرماد النباتي، رشاحة العدس، رشاحة السمك ) و في السوائل الحيوية ( مصلى الحليب، مصلى الدم، البول، العرق ).

**الكشف عن الكلورات  $Cl^-$  :**

تجربة : نضع في أنبوب إختبار ٥ سم<sup>٣</sup> من رشاحة الرماد النباتي و نضيف لها قطرات من حمض الآزوت (  $HNO_3$  ) لجعل الوسط حامضي ثم نضيف قطرات من

نترات الفضة (  $AgNO_3$  ) كاشف. أنظر الشكل - ٢ - نرجّ الأنبوب جيداً ثم نتركه يهدأ.



## الشكل (٢)

**الملاحظة:** يتشكل راسب أبيض من كلوريد الفضة ( $AgCl_2$ ) من خواصه أنه إذا عرض للضوء يأخذ اللون الأسمر.

**النتيجة:** تحتوي رشاحة الرماد النباتي على شوارد الكلورات.

\* يمكن إعادة نفس التجربة على سائل حيوي كالبول مثلاً نحصل على نفس النتيجة.

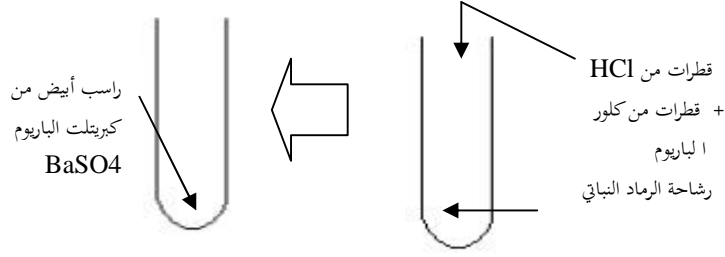
## الكشف عن الكبريتات $SO_4$ :

**تجربة:** نضع في أنبوب إختبار ٥ سم<sup>٣</sup> من رشاحة الرماد النباتي و نضيف لها قطرات من الحمض كلور الماء (HCl) وسيط، و قطرات من كلور الباريوم ( $BaCl_2$ )

(كاشف الكبريت) نرجّ الأنبوب جيداً، ثم نتركه يهدأ. أنظر

## الشكل -٣-

**الملاحظة:** يتشكل راسب أبيض من كبريتات الباريوم  $BaSO_4$ .  
**النتيجة:** تحتوي رشاحة الرماد النباتي على شوارد الكبريتات.

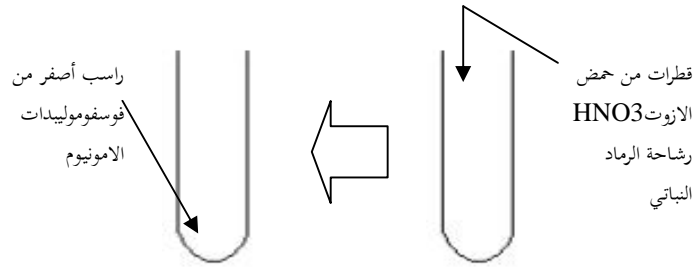


الشكل -٣-

\*يمكنك الحصول على نفس النتيجة باستعمال سائل حيوي كالبول.

**\* تجربة:** نضع في أنبوب إختبار ٥ سم ٣ من رشاحة الرماد النباتي، ونضيف قطرتين من حمض الأزوت ( $HNO_3$ )، لنجعل الوسط حامضي ثم نضيف قطرات من موليبدات الأمونيوم، كاشف الكبريت نرجح الأنبوب جيداً ثم نتركه يهدأ.

شكل -٤-



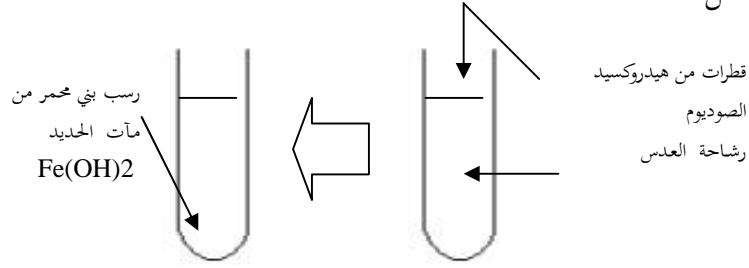
**الملاحظة:** يتشكل راسب أصفر من فوسفو موليبدات الأمونيوم.

**النتيجة :** تحتوي رشاحة الرماد النباتي على شوارد الفوسفات.

### لكشف عن الحديد $Fe^{+2}$

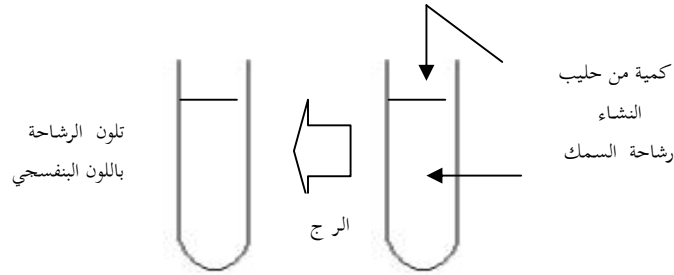
**تجربة :** نضع قي أنبوب إختبار ٥ سم  $٣$  من رشاحة العدس ثم نضيف لها قطرات من هيدروكسيد الصوديوم (NaOH)، نترك الأنبوب يهدأ. أنظر الشكل ٥-  
**الملاحظة :** تشكل راسب بني محمر من ماءات الحديد  $Fe(OH)_2$ .  
**النتيجة :** تحتوي رشاحة العدس على شوارد الحديد.

الشكل ٥-



### الكشف عن اليود :

**تجربة :** نضع في أنبوب إختبار ٥ سم  $٣$  من رشاحة السمك، ثم نضيف لها كمية من حليب النشاء. نرج الأنبوب ثم نتركه يهدأ. أنظر الشكل ٦-.



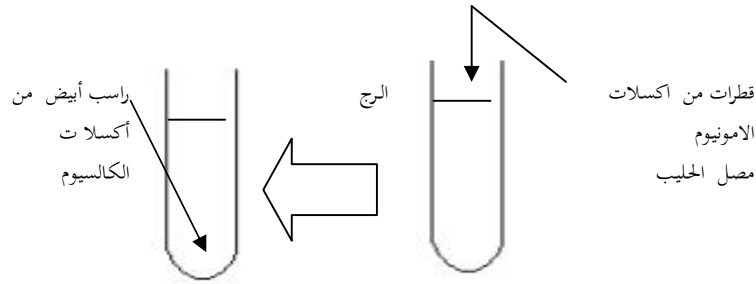
**الملاحظة :** يتلون المحلول باللون الأزرق البنفججي

**النتيجة :** تحتوي رشاحة السمك على شوارد اليود.

\* يمكن الكشف عن شوارد اليود في رشاحة السمك، و ذلك بإستعمال نترات الفضة  $AgNO_3$  فيتشكل راسب أبيض من يوديد الفضة  $AgI$ .

**الكشف عن الكالسيوم  $Ca^{+}$**  تحضير مصّل الحليب : نأخذ ١٠ سم<sup>٣</sup> من الحليب و نضيف له ٤ سم<sup>٤</sup> من حمض الخلّ المركز ( $CH_3COOH$ ) و بعد ١٥ دقيقة يتشكل سائل مصفرّ عائم هو مصّل الحليب، نحصل عليه بالترشيح ثمّ نقوم بتعديل حموضته مباشرة بإضافة قاعدة  $(NaH)$ .

**تجربة :** نضع في أنبوب إختبار ٥ سم<sup>٣</sup> من مصّل الحليب، ثم نضيف له قطرات من أكسالات الأمونيوم. نرجّ الأنبوب جيّدًا ثم نتركه يهدأ. أنظر الشكل -٧-

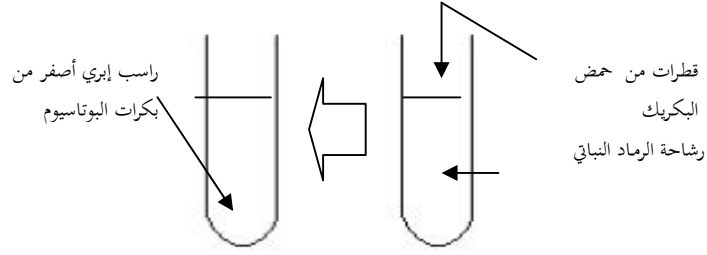


### الشكل -٧-

**الملاحظة :** يتشكل راسب أبيض من أكسادات الكالسيوم  $(Ca)_2-(Co)$ .

**النتيجة :** يحتوي مصّل الحليب على شوارد الكالسيوم.

الكشف عن البوتاسيوم ( $K^+$ ) نضع في أنبوب إختبار ٥ سم<sup>٣</sup> من رشاحة لرماد النباتي ثم نضيف قطرات من حمض البكريك (حمض المر) و نترك



الشكل-٨.

الأنبوب لمدة السابق -٨-

**الملاحظة :** يتشكل راسب إبري أصفر من بكرات البوتاسيوم.

**النتيجة :** تحتوي رشاحة الرماد النباتي على شوارد البوتاسيوم.

**نسبة و خواص المركبات المعدنية :**

إنطلاقاً من التجارب العملية لاحظنا أن المادة الحية سواء كانت ذات مصدر نباتي أو حيواني يدخل في تركيبها، الماء و الأملاح المعدنية.

١- **الماء :** يعتبر أهم المركبات من حيث نسبة تواجده في جسم الكائن الحي، وترتبط الحياة بوجوده، و لا يمكن الإستغناء عنه.

\***حساب كمية الماء :** يتمّ حساب كمية الماء في عضو ما، بوزنه قبل التجفيف، ثم إعادة و زنه بعد التجفيف، و الفرق بين الوزنين يمثل كمية الماء الموجودة في العضو المدروس وفق العلاقة.

$س = ك١ - ك٢$  حيث : س وزن الماء. ك١، وزن العضو قبل

التجفيف ك٢، وزن العضو بعد التجفيف



كما يمكن حساب نسبة الماء من العلاقة التالية:

$$\frac{\text{ك} - \text{ك} \times ٢}{١٠٠} \text{ أو } \frac{\text{س} \times ١٠٠}{\text{ك}}$$

وإليك الجدول رقم (١) الذي يبين نسبة الماء في بعض الاعضاء الحية يتضح من الجدول أن الماء يدخل بنسب مرتفعة في بناءالمادة الحية الحيوانية و النباتية و يعود ذلك إلى خواص الماء الفزيائية و الكيميائية التي تؤهله للقيام بادواراً ساسية في المادة الحية.الجدول رقم (١)

الاعضاء الحيوانية	%	الكائنات النباتية	%
جسم الإنسان	٧	الحس	٩٥
العضلات	٦	العنب و الثمار الطرية	٩٥ - ٨٠
الدم	٦	الفطريات	٩٠ - ٨٠
الكبد	٨	الاعلفة السيليلوزية	٨٠ - ٧٠
الرئتان	٣	الاعلفة الخشبية	٨٠ - ٤٠
العظام	٧	البذور	١٢ - ١٠
	٧		
	٨		
	٧		

		٥	
		٧	
		٠	
		٢	
		٥	
٧٥	متوسط الماء في العضوية النباتية	٦	متوسط الماء في العضوية الحيوانية
		٠	

### الخواص الفيزيائية للماء :

#### لحرارة النوعية :

هي كمية الحرارة اللازمة لرفع ١ غ من المادة بمقدار درجة حرارة مئوية واحدة و

تكون الحرارة النوعية للماء عالية بالمقارنة مع سوائل أخرى حيث تقدر بـ ( ١ )

حريرية و الجدول التالي يوضح ذلك

المادة	الحرارة النوعية	حرارة التبخر
الماء	١ حريرة	٥٣٧ حريرة
الكحول الايثيلي	" ٠,٥٧٤	" ٢٠٦
زيت الزيتون	" ٠,٣١٠	
الزئبق	" ٠,٣٣٠	

### حرارة التبخر :

هي كمية الحرارة اللازمة لتحويل ١ غ من المادة من الحالة السائلة إلى الحالة الغازية، و تكون هذه الحرارة عالية في الماء، مقارنة بالوسائل الأخرى حيث تقدر ب ٥٣٧ حريرة و الجدول السابق يوضح ذلك

### الاذابة :

يعتبر الماء مذيب جيد تذوب فيه الوا سل الأخرى حيث تشكل معه محاليل مختلفة.

### - الكثافة :

كثافة الماء عالية حيث عند التجمد يتمدد ويزداد حجمه فتقل كثافته عنئذ يطفو إلى الأعلى و هذه الخاصية لها أهمية كبيرة من الناحية البيولوجية .

- درجة الغليان : درجة غليان الماء هي  $100^{\circ}\text{C}$ .

أهم الخواص الكيميائية للماء:

\* درجة حموضة الماء (P H) : حموضة الماء معتدلة حيث  $\text{PH} = 7$  لذلك يعتبر الوسط الأمثل لحدوث العديد من التفاعلات كالتحليل (الإماهة) و التركيب. كما يعتبر الماء ضعيفاً كيميائياً، وهذه الخاصية لها قيمة عظيمة في عملية نقل و توزيع المواد مع المحافظة على بنيتها.

- أشكال تواجد الماء :

يتواجد الماء بشكلين : إما مرتبطاً كالماء الداخل في تركيب الدم، ونقصه يسبب أضراراً إن لم يعوض . أو حرراً كالماء الزائد الذي يطرح على شكل عرق وبول.

٢- الأملاح المعدنية :

تدخل الأملاح المعدنية بنسب قليلة في بناء المادة الحية. فهي تشكل نسبة من ٢ إلى ٥ % من الوزن الجاف و مع ذلك فوجودها ضروري لتمكين العضوية من أداء عملها بشكل طبيعي.

تحتوي أجسام الكائنات الحية الحيوانية على نسبة ٣,٤ % من الأملاح المعدنية. و أغلبها يكون في صورة كاربونات الكالسيوم وفوسفات الكالسيوم . ففي الفقاريات تتكدس في العظام.

بينما تحتوي الكائنات الحية النباتية على نسبة ٥,٢ % من الأملاح المعدنية، ونقصها ينجم عنه أعراضاً مرضية فمثلاً :

نقص الحديد في الغذاء عند الانسان يسبب مرض فقر الدم. و نقص الكالسيوم يسبب مرض الكساح ونقص اليود عند الطفل يسبب تأخرًا في النمو و نقص المغنيزيوم عند النباتات الخضراء يسبب إصفرار الأوراق.

وتقسم الأملاح المعدنية اعتماداً على نسبة تواجدها في العضوية إلى :

**\* العناصر الكبيرة :**

و تتواجد بنسب كبيرة و اها دور هام و وظيفي و مباشر مثل الصوديوم ( $Na^+$ ) والبوتاسيوم ( $K^+$ ) اللذان يلعبان دوراً كبيراً في النشاط القلبي.

**\* العناصر الصغيرة :**

و تتواجد بنسب قليلة حيث تدخل في تكوين الجزئيات المعقدة، ولها دور ضروري و نوعي. مثل : الحديد  $Fe^{+2}$  ضروري لتكوين خضاب الدم (Hb) و النحاس (Cu) الضروري لتكوين هرمون الدرقين الذي تفرزه الغدة الدرقية، كما يدخل عدد كبير من العناصر الصغيرة كوسائط في التفاعلات الإنزيمية مثل المنغنيز (Mn) كما يدخل بعضها في تكوين الأنزيمات مثل : النحاس ( Cu ) الحديد ( Fe ) . الزنك ( Zn ) .

**الخلاصة :** تتمثل المكونات المعدنية الداخلة في تركيب المادة الحية في الماء الذي يتواجد بنسب مرتفعة تؤهله للقيام بأدوار أساسية و الأملاح المعدنية التي تتواجد بنسب ضئيلة و لكنها ضرورية لجسم الكائن الحي حيث نقصها يسبب أعراضاً مرضية.

### أسئلة التصحيح الذاتي

١ - من أجل تحضير وجبات غذائية سريعة يلخأ عامة الناس إلى القلي بدل الطهي.

- ماهو التفسير العلمي لهذه الظاهرة ؟

- ٢ - أمامك غذاء كتلته ك<sub>١</sub> = ١٠٠ غ، و ضع في فرن درجة حرارته ١١٠ م° لمدة يومين، فبقيت كتلته ثابتة ك<sub>٢</sub> = ٣٥٠,٨٩٩ مغ.
- ماهي كمية الماء الموجودة في هذا الغذاء ؟
- ماهي نسبة الماء ؟
- ٣ - لدينا حوجلة بها محلول معدني و بالمقابل لدينا المحاليل الكيميائية التالية.
- حمض الأزوت (HNO<sub>3</sub>)؛ حمض كلور الماء ( HCl )
- نترات الفضة (AgNO<sub>3</sub>)؛ كلور الباريوم (BaCl<sub>2</sub>)
- كاشف المولبدات.
- حدّد الأملاح المعدنية التي يمكن الكشف عنها، و ذلك بإستعمال المحاليل الكيميائية السابقة فقط.

### أجوبة التصحيح الذاتي

- ١ - يلجأ عامة الناس إلى القلي الذي يتم بالزيت بدلاً من الطهي الذي يتم بواسطة الماء، و هذا لتحضير وجبات سريعة لكون الحرارة النوعية للزيت تساوي (٠,٣١٠) حريرة و أقل بكثير من الحرارة النوعية للماء و التي تساوي ( ١ ) حريرة.
- ٢ - كتلة الماء تحسب من العلاقة : س = ك<sub>١</sub> - ك<sub>٢</sub>

نحوّل ك<sub>٢</sub> = ٨٩٩,٣٥٠ مغ = ٠,٣٥٠٨٩٩ غ.

و منه : س = ١٠٠ غ - ٠,٣٥٠٨٩٩ غ = ٩٩,٦٤ غ.

نسبة الماء تحسب من العلاقة :  $\frac{١٠٠ \times \text{س}}{\text{ك}}$

أي :  $\frac{١٠٠ \times ٩٩,٦٤}{١٠٠} = ٩٩,٦٤ \%$

٣ - الأملاح المعدنية التي يمكن الكشف عنها هي

١ - الكلورات : عينة من المحلول المعدني  $\text{AgNO}_3 + \text{HNO}_3$  يعطينا راسب أبيض هو كلوريد الفضة يسودّ بالضوء.

ب - الكبريتات : عينة من المحلول المعدني  $\text{BaCl}_2 + \text{HCl}$  يعطينا راسب أبيض هو كبريتات الباريوم.

ج - الفوسفات : عينة من المحلول المعدني  $\text{HNO}_3 +$  كاشف المولبيدات يعطينا راسب أصفر من فوسفو مولبيدات الأمونيوم.

## المكونات العضوية

تمهيد :

تتكون الكائنات الحية من مركبات معدنية و التي تتمثل في الماء و الأملاح المعدنية و من مركبات عضوية تتمثل في السكريات، البروتينات، الدسم الفيتامينات، الأحماض النووية . . . إلخ.

و سنتناول بالدراسة كلاً من السكريات، البروتينات، و الدسم.

## ١ - السكريات :

### أهداف الدرس :

- إنجاز مستخلصات حيوانية و نباتية.

- الكشف عن السكريات المرجعة و المعقدة.

- تصنيف السكريات.

المدة اللازمة للدرس : ٠٥ ساعات.

الوسائل اللازمة للدرس : أنابيب اختبار، حوجلة، قضيب زجاجي، قمح زجاجي، موقد، ملاقط، ماسك، علبة كبريت، ورق ترشيح، مهراس، محلول فهلنغ، ماء اليود، حمض HCl، NaOH ماء مقطر، مسحوق سكر العنب، مسحوق سكر القصب، مسحوق سكر الحليب، مسحوق النشاء، بصل، درنات بطاط، عنب، كبد.

المراجع الخاصة بالدرس : كتاب العلوم الطبيعية للسنة الثالثة ثانوي.

### تصميم الدرس

- تمهيد.

- إنجاز مستخلصات نباتية و حيوانية.

- الكشف عن السكريات المرجعة و المعقدة.

- تصنيف السكريات.

- أسئلة التصحيح الذاتي.

- أجوبة التصحيح الذاتي.

أ- الكشف عن السكريات :



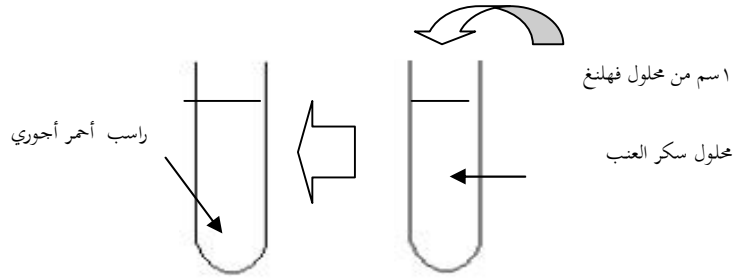
يتمّ الكشف عنها و دراستها في مستخلصات نباتية و حيوانية.

(١) تحضير مستخلص نباتي: نقوم بسحق قطع من الحراشف اللحمية للبصل في بيشر بواسطة قضيب زجاجي مع إضافة كمية من الماء المقطر، ثمّ نقوم بترشيح الخليط فنحصل على رشاحة عصير البصل.

ب - تحضير مستخلص حيواني: نقوم بغلي ١٠٠ غ من الكبد في ٥٠٠ مل ماء مقطر، ثمّ نقوم بسحقها جيداً، و نرشح الخليط فنحصل على رشاحة تمثل مستخلص حيواني.

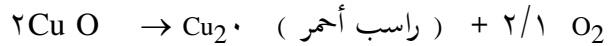
أ-١- **الكشف عن السكريات الأحادية**: تجربة شاهد: نضع ٥ سم<sup>٣</sup> من محلول سكر العنب في أنبوب إختبار و نضيف إليه ١ سم<sup>٣</sup> من محلول فهلنغ، ثمّ نعرض الأنبوب للتسخين. أنظر الشكل - ١ - .

**الملاحظة**: يتشكل راسب أحمر أحري.



الشكل - ١ -

**التفسير**: يتحوّل أكسيد النحاس في وجود سكر العنب من حالة أكسيد النحاسيك  $Cu^{++}$  إلى حالة أكسيد النحاسوز  $Cu^{+}$  وفق المعادلة التالية:



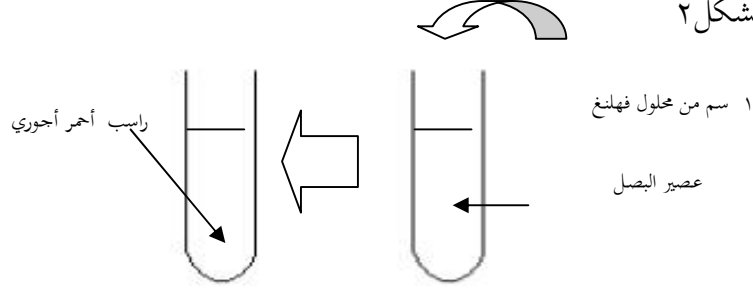
عندها نقول أن أكسيد النحاس. و هو أحد مكونات محلول فهلنغ. قد أرجع من طرف سكر العنب.

**النتيجة :** سكر العني مرجع لمحلول فهلنغ.

**الكشف عن سكر العنب في مستخلص البصل :**

**تجربة:** نضع ٥ سم<sup>٣</sup> من عصير الحراشف اللحمية للبصل، في أنبوب إختبار ونضيف إليه ١ سم<sup>٣</sup> من محلول فهلنغ، ونعرض الأنبوب للتسخين. أنظر

الشكل ٢



**النتيجة :** يحتوي عصير البصل على سكر العنب ( غلوكوز )

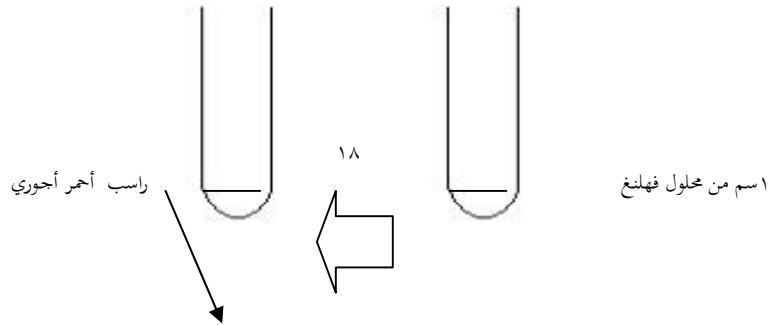
\* يمكن إعادة تجربة الكشف عن سكر العنب و ذلك في مستخلص الكبد.

**الملاحظة :** تشكل راسب أحمر أجري

**خلاصة :** السكريات الأحادية مرجعة لمحلول فهلنغ.

**أ-٢ الكشف عن السكريات الثنائية :** ندرس كمشال سكر الحليب، سكر القصب.

**تجربة-١ -** نضع في أنبوب إختبار ٥ سم<sup>٣</sup> من محلول سكر الحليب ( لاكتوز



( و نضيف له ١ سم ٣ من محلول فهلنغ، ثم نعرض الأنبوب للتسخين - الشكل ٣

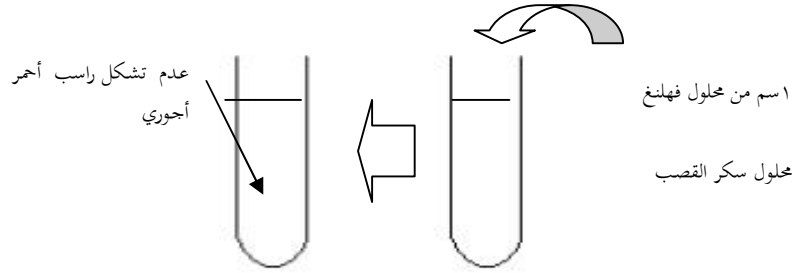
### الشكل -٣-

الملاحظة : ظهور راسب أحمر أجري.

النتيجة : سكر الحليب مرجع لمحلول فهلنغ.

تجربة ٢- : نضع في أنبوب إختبار ٥ سم ٣ من محلول سكر القصب ( السكروز )، و نضيف له ١ سم ٣ من محلول فهلنغ، ثم نعرض الأنبوب للتسخين حتى الغليان. أنظر الشكل - ٤ - .

الملاحظة : عدم تشكل الراسب الأحمر الأجري. (الشكل ٤ -



### الشكل -٤-

النتيجة : سكر القصب غير مرجع لمحلول فهلنغ

الخلاصة :

كل السكريات الثنائية ( سكر الشعير، سكر الحليب ) مرجعة لمحلول فهلنغ ماعدا سكر القصب.

أ-٢ الكشف عن السكريات المتعددة :

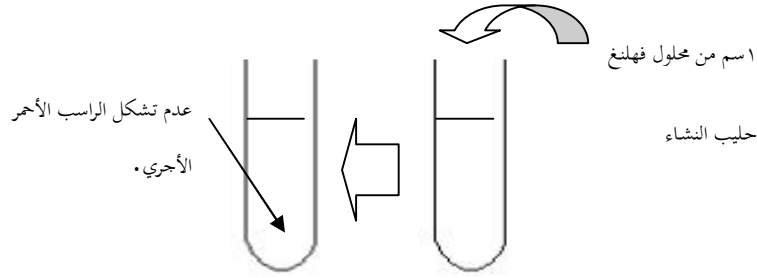
ندرس النشاء، غليكوجين ، السيليلوز.

تجربة: نضع في أنبوب إختبار ٥,٥ غ من مسحوق النشاء و نضيف له ١٠ سم<sup>٣</sup> من الماء المقطر، و بالرج يتشكل محلول حليبي يعرف بحليب النشاء.

- نأخذ عينة منه، ٥ سم<sup>٣</sup> في أنبوب إختبار، و نضيف له ١ سم<sup>٣</sup> من محلول فهلنغ، ثم نسخن حتى الغليان. أنظر الشكل - ٥ - .

الملاحظة : عدم تشكل الراسب الأحمر الأجري.

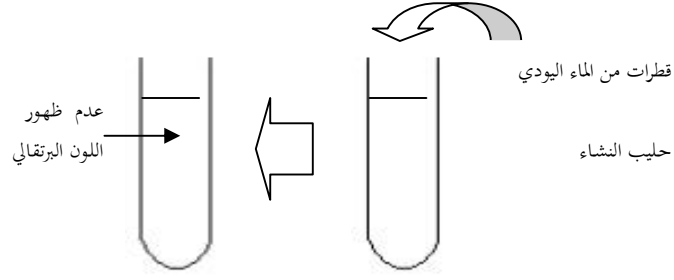
النتيجة : النشاء غير مرجع لمحلول فهلنغ.



الشكل-٥-

تجربة شاهد: نضع في أنبوب إختبار ٥ سم<sup>٣</sup> من حليب النشاء و نضيف له

قطرات من الماء اليودي. الشكل - ٦



### الشكل -٦-

**الملاحظة :** تلون المحلول باللون الأزرق البنفسجي.

**النتيجة :** يعطى النشاء مع الماء اليودي اللون الأزرق البنفسجي.

**تجربة :** نضع قطرات من الماء اليودي على لب درنة البطاطا.

**الملاحظة :** ظهور اللون الأزرق البنفسجي.

**النتيجة :** تحتوي درنة البطاطا على النشاء.

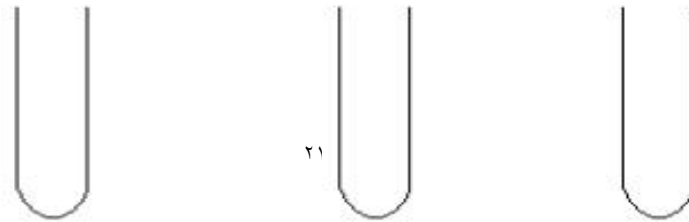
**خلاصة :** نستخلص، أنّ السكريات المتعددة غير مرجعة لمحلول فهلنغ و يكشف عن بعضها بالماء اليودي.

مثل :- النشاء ← لون أزرق بنفسجي

- الغليكوجين ← لون بني محمر.

**الذويان:**

**تجربة :** نحضر ثلاثة أنابيب إختبار، و نضع في كل واحد منها ٥ سم<sup>٣</sup> من الماء



المقطر ثم نضيف إلى -الأنبوب- ١ : ٠,٥ غ من سكر العنب. -  
 محلول الغلوكوز محلول السكاروز محلول حليب النشاء

الشكل -٨-

-الأنبوب ٢ : ٠,٥ غ من سكر القصب.

-الأنبوب الثالث : ٠,٥ غ من النشاء.

نرج الأنابيب الثلاثة جيداً ثم نتركها تهدأ. و الملاحظات يوضحها الشكل - ٨ -  
 .-

**الملاحظة:** إختفاء كل من سكر العنب و سكر القصب في كل من الأنبوبين الأول و الثاني، و بقاء النشاء في الأنبوب الثالث.

**النتيجة:** السكريات الأحادية و الثنائية قابلة للذوبان ( الإتحلال في الماء)، بينما السكريات المتعددة ( كالنشاء ) غير قابلة للذوبان في الماء.

**تصنيف السكريات :**

يدخل في تركيبها العناصر الثلاثة ، الكربون، الهيدروجين ، الأكسجين  
 ( O , H , C ) لذا تعرف بالمركبات الثلاثية، يكثر تواجدها في الأنسجة النباتية و  
 الحيوانية كما تعتبر مصدراً رئيسياً للطاقة، صيغتها العامة  $C_n(H_2O)_n$ ، و تصنف من  
 حيث درجة تعقيدها إلى ثلاثة أقسام: البسيطة ، الثنائية و المتعدد  
**السكريات البسيطة:** هي التي لا يمكن تفكيكها إلى سكريات أبسط منها و  
 تصنف حسب عدد ذرات الكربون الداخلة في تركيبها أنظر الجدول التالي

عدد ذرات C	نوع السكر	الصيغة	مثال
------------	-----------	--------	------

غليسرالدهيد	C3H6O3	سكر ثلاثي	C3
التيروز.	C4H8O4	سكر رباعي	C4
ريبوز.	C5H10O5	سكر خماسي	C5
ريبوز منقوص أكسجين.	C5H10O4	سكر خماسي	C5
غلوكوز، فراكتوز، غالاكتوز.	C6H12O6	سكر سداسي	C6
غلوكوهيبتوز.	C7H14O7	سكر سباعي	C7

**أهم السكريات البسيطة: السكريات الخماسية و السداسية**

**السكريات الخماسية :** تدخل في تركيب الحموض النووية (ARN،ADN).

**أهم السكريات السداسية :**

يعتبر سكر العنب أهم السكريات البسيطة، يوجد في النسج الحيوانية و النباتية حيث نجده في الدم (١ غ/ل) و في السائل الدماغي الشوكي و في بول المرضى بالداء السكري و في الكبد و العضلات و في الفواكه و العسل و العنب إلخ.

**الطبيعة البنوية للسكريات السداسية :**

إن الصيغ الكيميائية الإجمالية للسكريات السداسية (C<sub>6</sub>H<sub>12</sub>O<sub>6</sub>) لا تعكس بصدق الاختلافات الموجودة بينها حيث تؤكد الدراسات أن السكريات التي لها نفس عدد ذرات الكربون تختلف فيما بينها في توزيع هذه الذرات و المجموعات الوظيفية في الفراغ، و على هذا الأساس نستطيع تمييز مجموعتين، إحداها تحمل وظيفة الدهيدية واحدة. و تعرف بالألدوزات مثل الغلوكوز و الأخرى تحمل

مجموعة وظيفية كيتونية واحدة تعرف بالكيتوزات مثل الفراكٲوز وقد وضع العالم فيشر طريقة لكتابة الصيغ البنائية يتضح فيها الإختلاف في التوزيع الفراغي بإختلاف كتابة الذرات و المجموعة إلى اليميز أو إلى اليسار بذرة الكربون، و تعرف طريقة الكتابة هذه بالسلسلة المفتوحة كما هو موضح في الصيغة البنائية التالية :

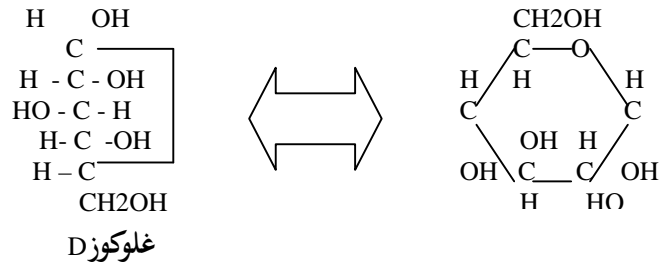
D--

فراكٲوز D

طريقة هاورت ( الصيغة الحلقية) :

لقد تبين أن هنالك خواص عديدة للسكريات لا تفسرها طريقة فيشر(السلسلة المفتوحة )

و من هنا جاءت طريقة هاورت التي تتوافق فيها معظم خصائص السكريات و هي الشكل الذي توجد عليه السكريات في الطبيعة حيث تشكل حلقة يرتبط فيها الكربون رقم ٥ ما قبل الأخير مع الكربون رقم ١ الحامل للوظيفة الألدهيدية فينشأ عن ذلك حلقة سداسية كما في الشكل الموالي :

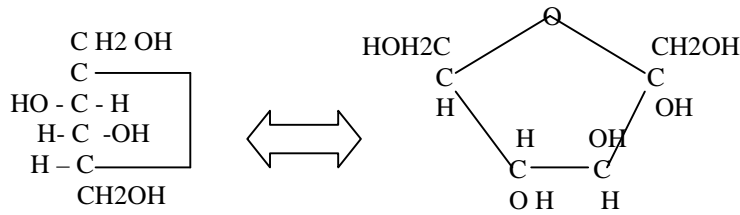




الصيغة الحلقية للغلوكوز (صيغة هاورت)

ملاحظة:

- إذا كانت (OH) في الكربون رقم ١ إلى الأسفل يسمى ٣ غلوكوز.
  - وإذا كانت (OH) في الكربون رقم ١ إلى الأعلى يسمى ٥ غلوكوز.
- أما في سكر الفواكه ( الفركتوز ) فتتشكل حلقة خماسية حيث يرتبط الكربون رقم ٢ الحامل للوظيفة الكيتونية مع الكربون رقم ٥ ما قبل الأخير كما في الشكل التالي:



الصيغة الحلقية للفراكتوز

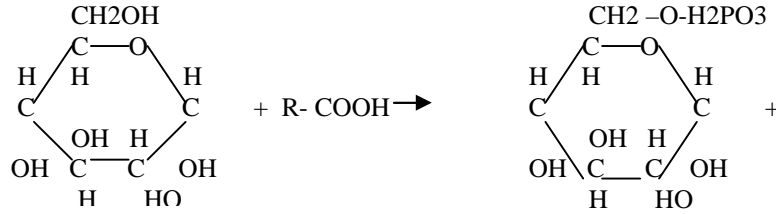
ملاحظة :

سكر الغلاكتوز : يشبه الغلوكوز و يختلف عنه في وضعية ال (OH) في الكربون رقم ٤ ، حيث تكون ناحية اليسار في طريقة السلسلة المفتوحة، و إلى الأعلى في طريقة الصيغة الحلقية.

خواص السكريات السداسية :

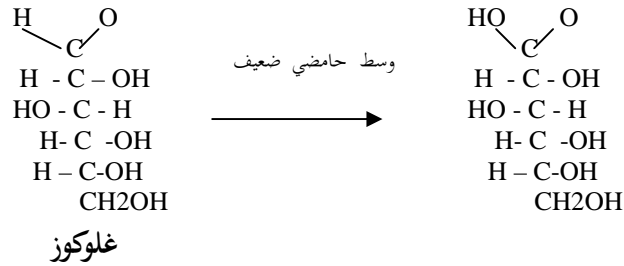
- تكون في الحالة النقية على شكل مسحوق أبيض متبلور.

- تذوب في الماء و تشكل معه محلولاً حقيقياً.
  - لا تنحل في المذيبات الضوية (الكحول و الإيثر ..).
  - مرجعة لمحلول فهلنغ.
- قابلة للأسترة: الأستر هو مركب ناتج عن إرتباط كحول و حمض و يمكن أسترة الجلوكوز بوا سطة حمض معدني، كما هو موضح : جلوكوز-٦ فوسفات

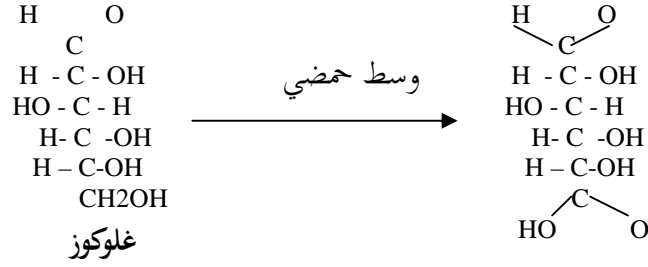


قابلة للأكسدة: تتأكسد السكريات في وسط حمضي وعامل مؤكسد مناسب إلى أحماض.

- ١- عندما تتأكسد مجموعة الألدريد (CHO) في الجلوكوز مثلاً إلى مجموعة كربوكسيل (COOH)، يسمى الحمض الناتج الدونيك وهي مشتقة من الدوز في هذه الحالة يستعمل إسم السكر مضافاً إليه ( نيك ) فمثلاً الحمض الناتج من أكسدة الجلوكوز يسمى حمض الغلوكونيك، كما هو موضح :

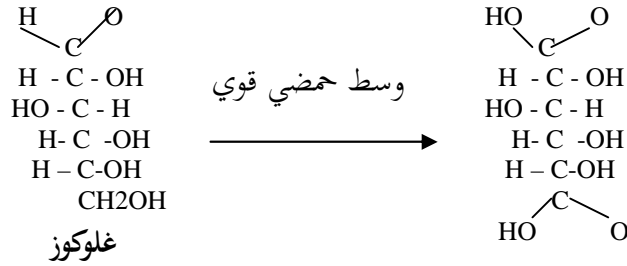


ب - و عندما تتأكسد المجموعة الوظيفية الطرفية  $\text{CH}_2\text{OH}$  يسمى الحمض الناتج من أكسدة الغلوكوز بـ حمض غلوكورونيك، كما هو موضح :



حمض غلوكورونيك

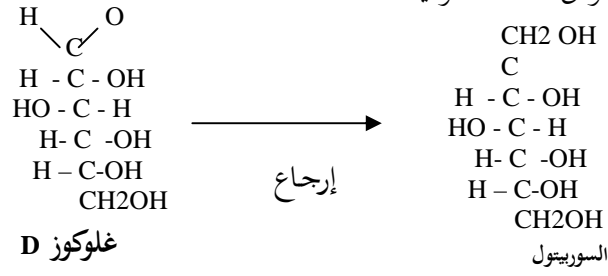
ج - و عندما تتأكسد مجموعة الألدريد ( $\text{CHO}$ ) و المجموعة ( $\text{CH}_2\text{OH}$ ) الطرفية إلى مجموعتي كربوكسيل في الجلوكوز يسمى الحمض الناتج، حمض السكراريك أو اللداريك، و في مثل هذه الحالة يجب توفر عامل مؤكسد قوي، و وسط حمضي مركز، و الحمض الناتج من أكسدة الغلوكوز يسمى الغلوكوسكاراريك كما موضح :



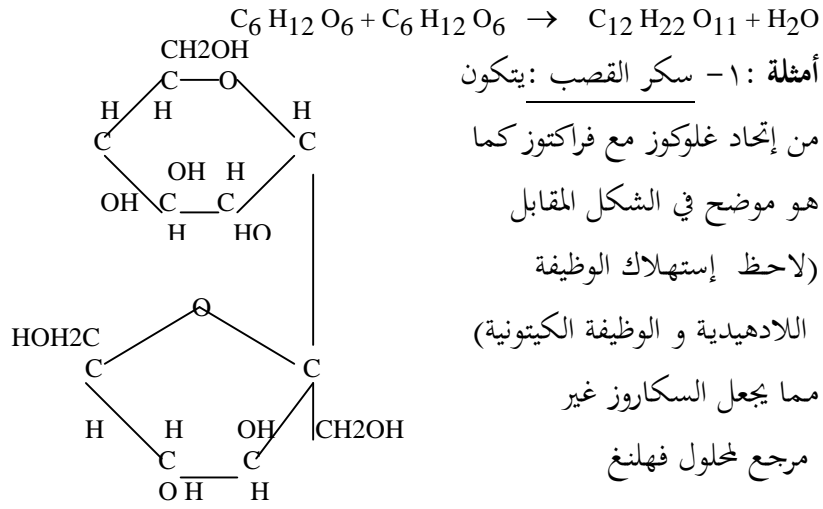
حمض غلوكو ساكاراريك

السكريات السداسية قابلة للإرجاع :

يتم إرجاع السكريات بسهولة حيث تختزل مجموعة الألدهيد في الغلوكوز مثلاً إلى مجموعة كحولية وفق المعادلة الموالية :



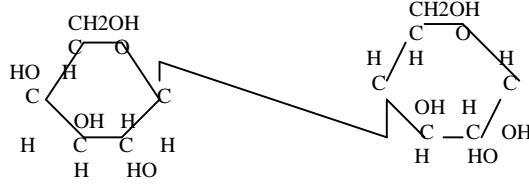
**السكريات الثنائية :** تتكون من اتحاد جزيئتين من السكريات السداسية حيث الجزيئتان إما متشابهتان أو مختلفتان و يتمّ الاتحاد بينهما بإنتزاع جزيئة ماء كما هو موضح في المعادلة التالية :



٢- سكر الشعير (المالتوز) : يتكون من اتحاد سكري عنب كما هو موضح:



٣- سكر الحليب ( اللأكتوز ) : يتكون من إتحاد سكر عنب مع سكر غلاكتوز  
كما هو موضح في ما يلي .



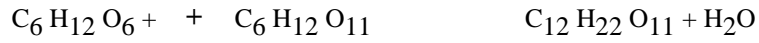
### خواص السكريات الثنائية :

- جميعها مرجعة لمحلول فهلنغ، ماعدا سكر القصب ( السكروز ) .

- غير قابلة للأكسدة. - غير قابلة للتخمر.

الذوبان : تنحل في الماء و تشكل معه محاليل حقيقية.

الإماهة : قابلة للإماهة الحامضية حيث تعطى سكريات سداسية وفق المعادلة التالية :



ماء + سكر ثنائي      سكر أحادي + سكر أحادي

و تتم هذه الإماهة في مستوى الخلية بواسطة إنزيمات

### السكريات المتعددة :

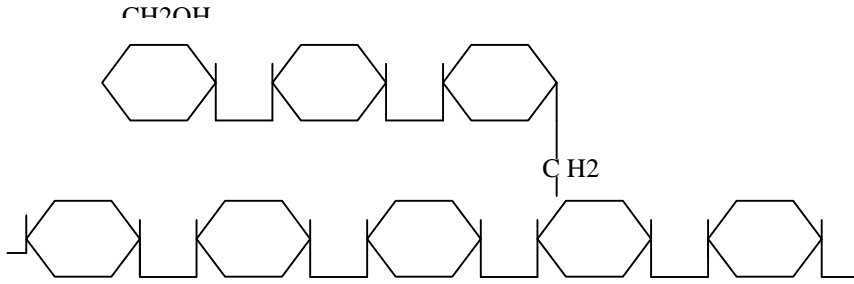
تتكون من إتحاد عد د كبير من السكريات السداسية، و يتم الإتحاد دائما بإنتزاع جزيئة ماء، و يتراوح عدد الوحدات المتحددة من ٣٠ إلى ٣٠٠ ألف جزيئة.

صيغتها العامة (  $C_6H_{10}O_5$  ) ن ، ومنها : النشاء، مولد سكر العنب ( غليكوجين )، السليلوز.

**النشاء :**

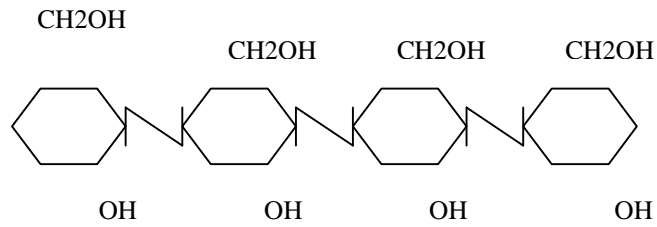
يتشكل في النباتات الخضراء بعد قيامها بعملية التركيب الضوئي، و يدخر في البذور والدرنات وبعض الجذور ، يشكل مع الماء البارد (حليب النشاء) و مع الماء الساخن (مطبوخ النشاء). يُكشف عنه بالماء اليودي حيث يعطي لونا أزرقاً بنفسجاً.

و يتركب النشاء من سلاسل خطية تعرف بالأميلوز تمثل نسبة من ١٥ إلى ٣٠ % كل الروابط فيها من نوع ٣ (١-٤) و من سلاسل متشعبة أو متفرعة تعرف بالأميلوبكتين تمثل نسبة من ٧٠ إلى ٨٥ % روابطها من نوع ٣ (١-٤) و ٣ (١-٦) كما هو موضح فيما يلي:

**بنية النشاء****مولد سكر العنب ( غليكوجين ):**

يتواجد في المملكة الحيوانية خاصة في الكبد و العضلات يكشف عنه بالماء اليودي حيث يعطي لونا محمراً ، تركيبه يشبه النشاء ، غير أنه أكثر تفرغاً منه، وزنه الجزيئي بين ٥ و ١٠ مليون. كما هو موضح فيما يأتي :

السيليلوز: يوجد فقط في النباتات الخضراء، و يشكل المادة الدعامية للحدردان الخلووية ويتكون من سلا سل خطية تتكون من وحدات غلوكوزية بها روابط من نوع S (١-٤) وزنه الجزئي يتراوح بين ١٥٠ ألف إلى ١ مليون. كما هو موضح :



## أسئلة التصحيح الذاتي

- ١ - هل نستعمل لإذابة سكر العنب ماء الحنفية أو الماء المقطر؟
- ٢ - جميع السكريات الشائبة مرجعة لمحلول فهل نغ ماعدا سكر القصب لماذا؟
- ٣ - حدد السكريات القابلة للإماهة، وماذا تعطى بالإماهة الكلية؟  
النشاء - الفركتوز - الغلاكتوز - السليلوز - الغليكوجين - الغلوكوز -  
السكروز - المالتوز.



## أجوبة التصحيح الذاتي

١ - ينحل سكر العنب في الماء المقطر، كما ينحل في ماء الحنفية، لأن الأملاح المعدنية الموجودة في ماء الحنفية لا تؤثر في عملية الذوبان.

٢ - سكر القصب غير مرجح لحلول فهلنغ لكون الجسر الأكسيجيني نلتج عن تفاعل المجموعة الألدهيدية الوظيفية في سكر العنب مع المجموعة الكيتونية الوظيفية في سكر الفواكه، و لذلك تكون المجاميع الوظيفية مرتبطة و غير حرة.

٣ - السكريات القابلة للإماهة هي : و تعطى.

- النشاء ← سكر عنب.

- السيليلوز ← سكر عنب.

- الغليكوجين ← سكر عنب.

- السكروز ← سكر عنب + سكر فواكه.

- المالتوز ← سكر عنب.

## الدّسم

الهدف من الدرس :

- التعرف على بنية الدسم و خواصها الكيميائية و الفيزيائية
- تصنيف الدسم.
- المدة اللازمة للدرس : خمس ٥ ساعات.

الوسائل اللازمة للدرس :

- أنابيب إختبار، حوجلة، قضيب زجاجي، قمع زجاجي، موقد، ملاقط
- ماسك علبه كبريت، ماء مقطر، زيت زيتون، محلول أحمر السودان III، الإيثر، الكبريت المركز، الصودا، بلورات البوتاس.

المراجع الخاصة بالدرس : كتاب العلوم الطبيعية السنة الثالثة ثانوي

### تصميمُ الدّرس

- تمهيد.
- الخواص الكيميائية و الفيزيائية للدسم.
- تصنيف الدسم.
- أسئلة التصحيح الذاتي.

- أجوبة التصحيح الذاتي.

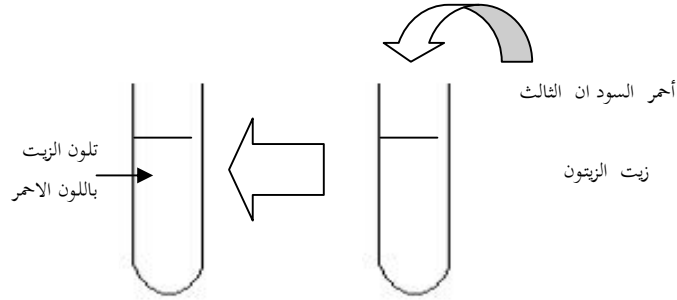
**تمهيد :**

تنتشر الدسم في الكائنات الحية بشكل واسع حيث توجد في ثلاث حالات هي : سائلة كالزيوت، نصف صلبة كالزبدة، و صلبة كالشحوم.

**الخواص الكيميائية و الفيزيائية للدسم :**

**١ - التفاعل اللوني :**

**تجربة :** نضع في أنبوب اختبار ٥ سم<sup>٣</sup> من زيت الزيتون ونضيف له ٢ سم<sup>٣</sup> من محلول أحمر السودان الثالث ثم نرج الأنبوب رجاً خفيفاً



**الملاحظة :** يتلون زيت الزيتون باللون الأحمر.

**النتيجة :** تتلون الدسم باللون الأحمر، مع أحمر السودان الثالث و بهذا يستخدم كمركب للكشف عن الدسم.

**٢- الذوبان :**

**تجربة :** نأخذ أربعة أنابيب إختبار، و نضع في كل منها ٢ سم ٣ من زيت الزيتون، ثم نضيف إلى :

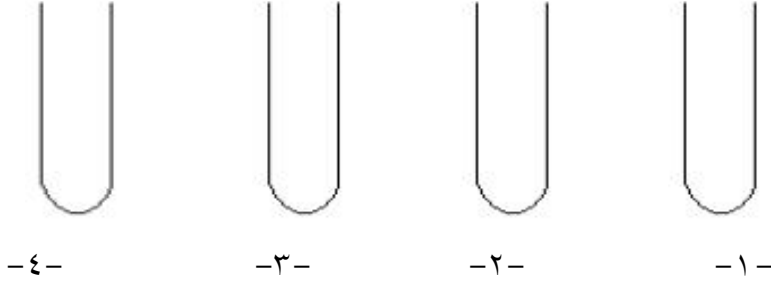
الأنبوب الأول : ٢ سم ٣ من الماء المقطر. أنبوب الثاني : ٢ سم ٣ من الإيثر

الأنبوب الثالث : ٢ سم ٣ من البنزين. الأنبوب الرابع : ٢ سم ٣ من لأستون  
ثم نرج اللانابيب الأربعة جيداً. أنظر الشكل الموالي:

**الملاحظة :** الأنبوب الأول يبدو فيه الخليط حليبي، سرعان ما ينفصل

الزيت و يطفو فوق الماء. أما في الأنبوب الثاني و الثالث و الرابع ينحل الزيت على التوالي في الإيثر البنزين و الأستون مشكلاً محلولاً متجانساً

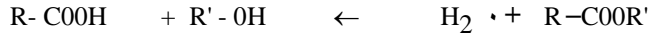
ماء مقطر      إيثر      بنزين      أستون



**النتيجة :** لا يذوب زيت الزيتون في الماء و لكنه يذوب في المذيبات العضوية ( الإيثر، البنزين، الأستون الكلوروفورم ...).

**٣ - الإمهاء :**

تتفكك الد سم في وجود الماء و وسيط كيميائي وحرارة إلى كحول و حمض د سم أو أكثر، وفق المعادلة التالية :



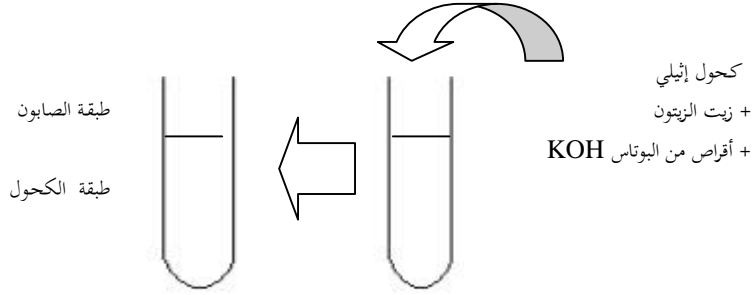
د سم + ماء كحول + حمض د سم.

النتيجة: بما أن الد سم عند إماهتها تعطي: كحول + حمض د سم أو أكثر فهي أسترات لحموض د سم.

#### ٤ - التصبن :

تجربة: ضع في أنبوب اختبار ٢ سم ٣ من زيت الزيتون و نضيف له ١ سم ٣ من الكحول الأيثلي ٩٥ ° ثم نضيف أقراص من البوتاس (KOH) أو الصود (NaOH) و نسخن الأنبوب بلطف مع الرج. أنظر الشكل - ٣ - .

الملاحظة تتشكل طبقة سميكة لزجة مصفرة تطفو فوق سائل شفاف تمثل



الشكل - ٣ -

هذه الطبقة أملاح الحموض الد سم (زيئات البوتاس أو الصابون) بينما تمثل الطبقة الشفافة كحولا.

النتيجة: تشكل الد سم مع القواعد أملاحاً لأحماض د سم تدعى الصابون.

تصنيف الد سم :

تصنف إلد سم إلى د سم بسيطة و د سم مركبة و هذا حسب نتائج الإماهة :

### ١ - الدسم البسيطة :

تتركب من الكربون، الهيدروجين و الأكسجين (O ، H C) و تصنف حسب الكحول الداخلة في تركيبها.

### الجليسيريدات :

يدخل في تركيبها الجليسيرول

أو الحلوين، و هو عبارة عن

كحول ثلاثي الهيدروكسيل .

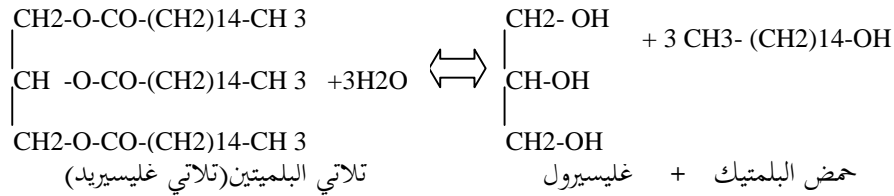
حيث يمكن أسترة وظيفة كحولية

واحدة فيدعى أحادي الجليسيريد

أو أسترة وظيفتين كحوليتين فيدعى ثنائي الجليسيريد، أو أسترة الوظائف

الكحولية الثلاثة فيدعى ثلاثي الجليسيريد و كمثل عن ذلك زيت الزيتون. حيث

يتم أسترة الوظائف الكحولية الثلاثة الشكل (١)



### الشكل (١)

**٢ - الدسم المركبة :**

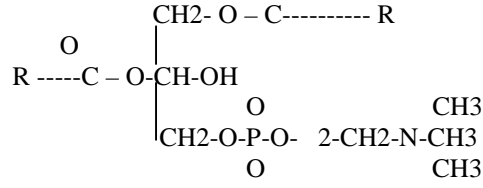
و تتركب من د سم بسيطة و عناصر أخرى مثل؛ الكبريت و الفوسفور و الآزوت (N . P . S) و منها : الدسم الفوسفورية مثل : الليسيتين و النخاعين. الليسيتين : يوجد في صفار البيض و في حبوب الطلع و يتركب من : حمضين د سمين، غليسرول. حمض فوسفور، و الكولين مثلاً كما هو موضح





غليسيرول

حمض دسم

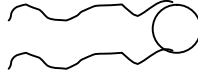


كولين      حمض الفوسفور      حمض دسم  
بنية الليسيئين

النخاعين :

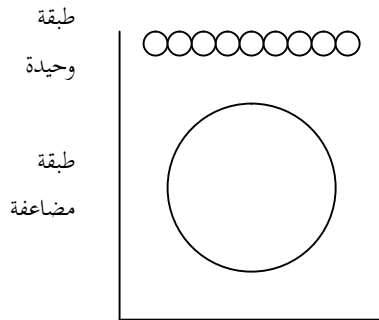
يغمد المحاور الأسطوانية للألياف العصبية و يتركب من : سفانغوزين (ثنائي كحول أميني)، حمض دسم حمض فوسفوري و كولين. ومن خصائص الدسم الفوسفورية أنها قطبية، أي تحتوي على قطب محب للماء ويتمثل في القسم الحامل للشحنات الكهربائية الموجبة وعلى قطب كاره للماء والمتمثل في الحموض الدسمة. وهذا الرسم الموالي يوضح ذلك :

الجزء المحب للماء لأنه ذو شحنة (+) كولين مثلاً  
الجزء الكاره للماء لأنه ذو شحنة (-) يتمثل في الحموض الدسمة.



**سلوك الدسم في الماء:**

بينت التجارب المخبرية أن الدسم تنتظم في طبقة أحادية الجزيئات علسطح الماء أو في تشكل طبقة مضاعفة الجزيئات تأخذ شكل حوصل أنظر الشكل المقابل :



أنواع **العموض الدسمة**: الحموض الدسمة ، عبارة عن سلاسل كربونية طويلة لها عدد زوجي من ذرات الكربون و تميزها إلى قسمين:

أ- الاحماض الدسمة المشبعة: هي الاحماض التي لا تحتوي على روابط مزدوجة و تكون في حالة صلبة عند درجة الحرارة العادية مثل

- حمض الزبدة:  $C_4H_8O_2$  و حمض الشمع:  $C_{18}H_{36}O_2$

ب- الاحماض الدسمة غير المشبعة : و هي الاحماض التي تحتوي على الاقل رابطة مزدوجة. توجد في حالة سائلة عند درجة الحرارة العادية مثل

حمض الزيت:  $C_{18}H_{34}O_2$

**الخلاصة :**

الدهن هو مواد عضوية يدخل في تركيبها الكربون والهيدروجين والأكسجين. كما نجد عناصر أخرى مثل : الكبريت الفوسفور، و الآزوت و بذلك تقسم إلى دهن بسيط و أخرى مركبة.

وأهم **الدهن البسيط** هي الجليسيريدات التي درسناها من قبل و كذلك --

الستيريدات وهي دهن تحتوي على كحول من نوع الستيروول وتمثل الجزء

الاساسي لبعض الفيتامينات والهرمونات الستيريدات.

- الستيريدات: و هي دهن تحتوي على كحول من نوع الستيروول ، وتكون صلبة كشمع النحل و كيويتين بشرة الاوراق.

أم أهم **الدهن المعقدة** :- الجليسيريدات المفسفرة وهي الدهن التي تحتوي على

كحول الجليسيرول مثل الليسيتين

- السفنغوزينات دهن تحتوي على كحول السفنغوزين مثل النخاعين ( غمد

الاعصاب) وسيريروزين ( المادة البيضاء للمخ)

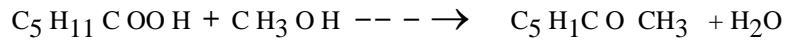
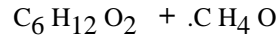
### أسئلة التصحيح الذاتي

- ١ - نضع في أنبوب اختبار كمية من حليب البقر، و نضيف إليه قطرات من أحمر السودان الثالث، و نفحصها بالمجهر فنلاحظ، تلون حبيبات (س) بالأحمر.  
- ماهي هذه الحبيبات (س)؟ مع التعليل.
- ٢ - لدينا حمض د سم صيغته  $C_6H_{12}O_2$  حمض د سم آخر صيغته  $CH_4O$ .  
- أكتب معادلة تفاعل هذان الجزئان العضويان مع بعضهما بالتفصيل.
- ٣ - تستخدم الد سم في تطبيقات صناعية هامة ماهي؟ وضح بمعادلة كيميائية.

- ٤ - نضع في أنبوب اختبار ٥ سم<sup>٣</sup> من زيت الزيتون ٢ سم<sup>٣</sup> من أحمر السودان الثالث، و ٢ سم<sup>٣</sup> من الماء المقطر.  
- ماهي الملاحظة المتوقعة؟ ولماذا؟

### أجوبة التصحيح الذاتي

- ١ - الحبيبات (س) هي مادة دسمة، لأنها تلونت بالأحمر مع أحمر السودان الثالث، وهو تفاعل لوني مميز للدسم.  
٢ - تفاعل الجزيئان العضويان



- ٣ - تتمثل في صناعة الصابون :

قاعدة + حرارة



٤ - نلاحظ محتوى الأنبوب يتكون من طبقتين العلوية حمراء و تمثل الزيت، و السفلية شفافة و تمثل الماء و السبب أن الد سم هي التي تتلون بالأحمر مع أحمر السودان الثالث (تفاعل مميز) بينما الماء لا يتلون معه.

### البروتيدات

الهدف من الدرس :

- التعرف على أنواع البروتيدات و خصائصها.
- التمييز بين بني الأحمض الأميني عن الببتيدات.
- التوصل إلى معرفة البنيات الأربعة للبروتينات

المدة اللازمة للدرس : خمس ٥ ساعات.

الوسائل اللازمة للدرس :

- أنابيب اختبار، حوجلة، ماصة، بيشر، ملاقط خشبية، موقد، بيض
- دجاج، حمض الآزوت HNO<sub>3</sub> حمض كلور الماء HCl ، كبريتات النحاس CuSO<sub>4</sub>,

الصودا NaOH، الكحول ٩٥°، كربونات الصوديوم Na<sub>2</sub>CO<sub>3</sub>، كبريتات الأمونيوم (NH<sub>4</sub>)<sub>2</sub>SO<sub>4</sub>، حمض الخل CH<sub>3</sub>COOH محلول النشادر NH<sub>4</sub>OH.

المراجع الخاصة بالدرس : كتاب العلوم الطبيعية السنة الثالثة ثانوي

### تصميمُ الدَّرس

- تمهيد.

- الأحماض الأمينية و خواصها.

- الببتيدات و خواصها.

- البروتينات و خواصها.

- أسئلة التصحيح الذاتي.

- أجوبة التصحيح الذاتي.

### تمهيد :

البروتيدات مركبات عضوية تتكون من العناصر الأربعة الكربون، الهيدروجين، الأوكسجين و الأزوت ( N O. H C ) و لذا تعرف بالمركبات الرباعية وهي أكثر المركبات انتشاراً بعد الماء في عضوية الكائن الحي.

ومن أجل التعرف على أنواعها نقترح عليك هذه الأمثلة :

- أحماض أمينية: الأئين- غليسين

- ببتيدات: . الأنسولين - الإفرازين

- بروتينات: خضاب الدم زلال البيض


و انطلاقاً من الأمثلة السابقة نميز بأن البروتيدات تقسم إلى ثلاثة أنواع هي :

- الأحماض الأمينية. - الببتيدات. - البروتينات.

## أ- الأحماض الأمينية

خواصها :

- ١ - الذوبان : تجربة : نضع في بيشر كمية من الماء المقطر و نضيف له قليلا من مسحوق حمض أميني ( غليسين ) نرج الخليط جيداً و نتركه يهدأ. الشكل ١
- الملاحظة : اختفاء جزيئات الحمض الأميني



التفسير : يعود اختفاء جزيئات الحمض الأميني إلى ذوبانها في الماء.

النتيجة : الأحماض الأمينية قابلة للذوبان في الماء و تشكل معه محلولاً متجانساً.

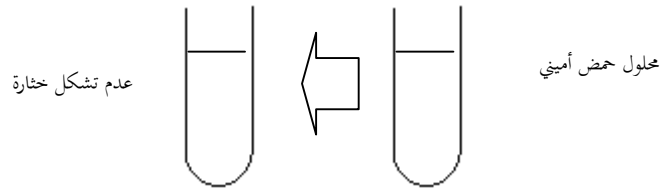
- ٢ - التبختر أو التجلط : تجربة : نأخذ عينة من محتوالببيشر نضعها فيأنبوب

اختبار، ثم نعرضه للتسخين. شكل ٢-

الملاحظة : عدم تشكل الخثارة.

النتيجة : الأحماض الأمينية لا تتخثر بالحرارة

الشكل ٢-



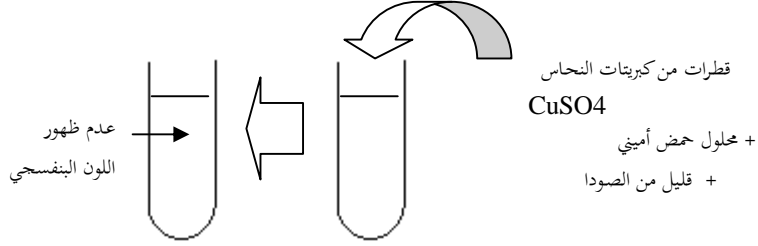


## الشكل -٢-

## ٣ - التفاعلات اللونية:

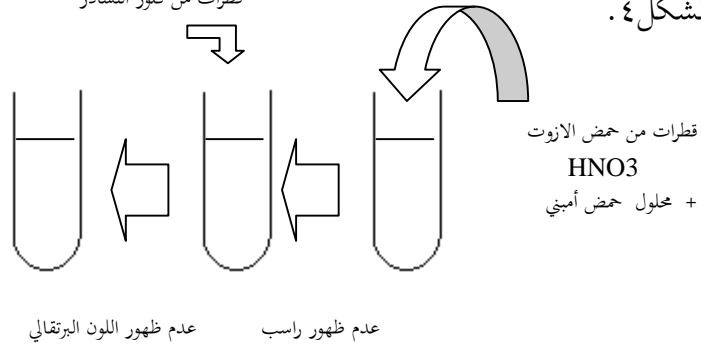
→  
- تفاعل ثنائي البولة (بيوري): تجربة: نمزج في أنبوب اختبار ٣ سم ٣ من محلول حمض أميني مع ١ سم ٣ من الصودا، ثم نضيف قطرات من كبريتات النحاس. أنظر الشكل -٣-.

الملاحظة: عدم ظهور اللون البنفسجي في الأنبوب.



الشكل -٣-

- نحصل على سعة ه سيي ( سسانتوبروتيك ) : تجربة : نمزج في أنبوب اختبار ٣ سم ٣ من محلول حمض أميني مع ١ سم ٣ من حمض الأزوت المركز. أنظر الشكل ٤.



الشكل -٤-

**الملاحظة:** عدم ظهور اللون الأصفر حتى بعد التسخين و عند إضافة محلول النشادر لا يظهر اللون البرتقالي.

**النتيجة:** الأحماض الأمينية لا تعطي التفاعلات اللونية، المبينة في الشكل ٣ و٤

### ب- الببتيدات

١ - الذوبان : الببتيدات قابلة للذوبان في الماء مثل الأحماض الأمينية.

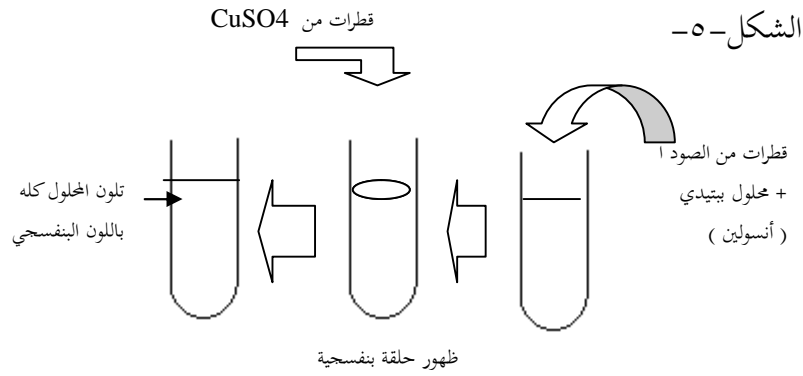
٢ - التخثر : الببتيدات غير قابلة للتخثر.

٣ - تفاعلات اللونية :

١ - تفاعل ثنائي البولة (بيوي) : تجربة : نمزج في أنبوب اختبار ٣ سم ٣ من

محلول ببتيدي ( أنسولين + ماء مقطر ) مع ١ سم ٣ من الصودا ثم نضيف

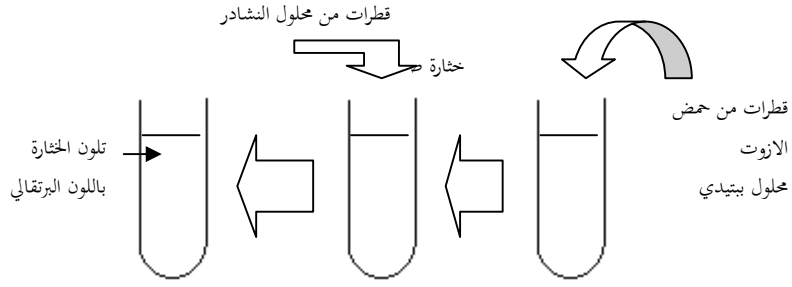
قطرات من كبريتات النحاس. شكل ٥.



**الملاحظة:** تتشكل حلقة بنفسجية و بالرج يتلون محتوى الأنبوب بلون بنفسجي.

ب - تفاعل الأصفر الأحمي (كسانتوبرونيك) :

تجربة : نمزج في أنبوب اختبار ٣ سم<sup>٣</sup> من محلول بيتيدي مع ١ سم<sup>٣</sup> من حمض الآزوت المركز. . أنظر الشكل -٦- .



الملاحظة : تتشكل بخارة بيضاء وبالتسخين الخفيف تتلون بالأصفر، وعند إضافة قطرات من محلول النشادر المركز، يتحول اللون الأصفر إلى البرتقالي. النتيجة : الببتيدات مركبات لونية أي تعطي تفاعلات ايجابية مع تفاعلي بيوري و تفاعل كسانتوبروتيك

### ج البروتينات

#### ج١- خواص البروتينات

##### - تحضير ماء الزلال :

نحضر بيضة دجاج نثقبها من طرفيها ثم نأخذ منها الزلال فقط، نضعه في حوجلة بها ٥٠٠ سم<sup>٣</sup> من الماء المقطر، نحرك و نرج الخليط جيداً ثم نرشحه فنحصل على رشاحة تعرف بماء الزلال و هو محلول لزج متجانس يشبه الغراء يدعى المحلول الغروي.

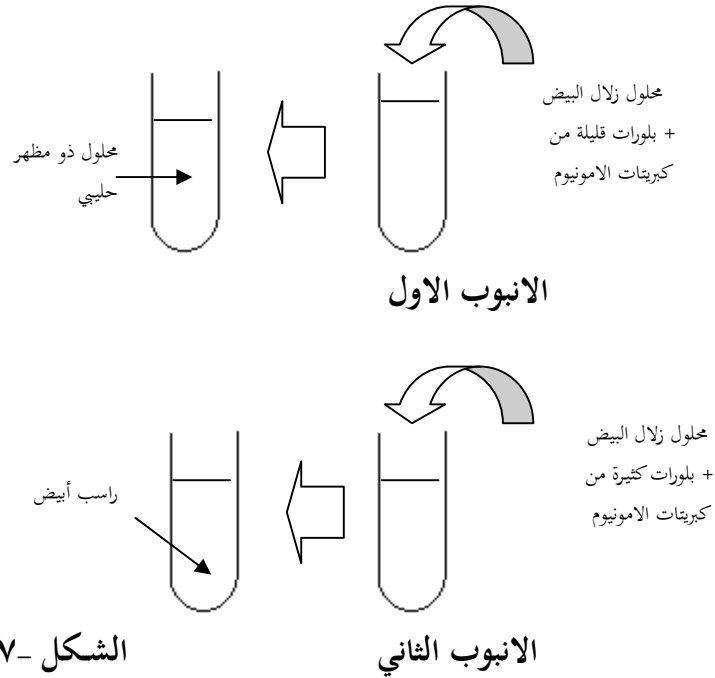
#### ١ - الذوبان :

**تجربة :** نحضر أنبوب اختبار و نضع في كل واحد منها ٥ سم<sup>٣</sup> من ماء الزلال، ثم نضيف الى الأنبوب الأول، بلورات قليلة من كبريتات الأمونيوم ونضيف إلى الأنبوب الثاني بلورات كثيرة من نفس الملح حتى التشبع. أنظر الشكل ٧-.

**الملاحظة:** يصبح محلول الأنبوب الأول شفافا شيئاً فشيئاً ليصبح ذو مظهر حليبي. بينما محلول الأنبوب الثاني يتشكل فيه راسب أبيض (خثارة).

### التفسير :

بقي الزلال في الأنبوب الأول مذاباً وذلك لقلة شوارد كبريتات الأمونيوم بينما قلّ ذوبان الزلال في الأنبوب الثاني نظراً لكثرة شوارد كبريتات الأمونيوم مما قلّ من فرصة ذوبان الزلال (البروتين) في الماء.

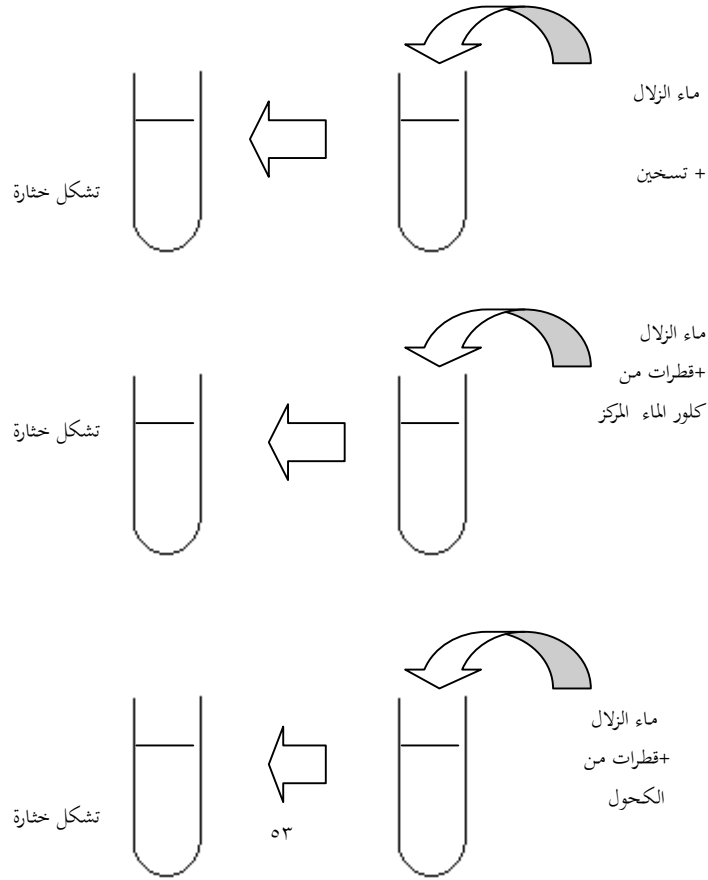


النتيجة : كلما زادت نسبة شوارد الأملاح في الوسط كلما قلّ ذوبان البروتين.

## ٢ - التخثر :

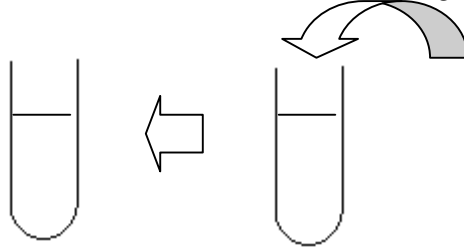
تجربة : نحضر أربعة أنابيب اختبار و نضع في كل واحد منها ٣ سم<sup>٣</sup> من ماء الزلال، نعرض الأنبوب الأول إلى تسخين. ونضيف إلى الأنبوب الثاني حمض كلور الماء المركز و نضيف إلى الأنبوب الثالث قطرات من الكحول ٩٥° و نضيف إلى الأنبوب الرابع قطرات من كبريتات النحاس. الشكل -٨-.

### الشكل -٨-



**الملاحظة :** يتخثر الزلال في الأنابيب الأربعة.

**التفسير :** يدل ظهور الخثارة في الأنابيب الأربعة على حدوث تغير في التركيب الفيزيائي للزلال.



**النتيجة :** تسبب الحرارة وبعض المحاليل الكيميائية ( الأحماض القوية، الكحول  $95^{\circ}$ ، و أملاح المعادن الثقيلة ) تخثر البروتين.

**٣ - التفاعلات اللونية :**

**أ - تفاعل ثنائي البولة (بيوري) :**

**تجربة :** نمزج في أنبوب اختبار ٣ سم<sup>٣</sup> من محلول ماء الزلال مع ١ سم<sup>٣</sup> من الصودا ٤٠%، ثم نضيف من ٣ إلى ٤ قطرات من محلول كبريتات النحاس ١%، على الحواف الداخلية للأنبوب. أرجع إلى شكل ( ٥ )

**الملاحظة :** تتشكل حلقة بنفسجية، وبالرج يتلون محتوى الأنبوبة باللون البنفسجي.

**التفسير :** يعود ظهور اللون البنفسجي إلى كون النحاس يشكل مركباً معقدًا ذو لون بنفسجي مع الروابط الببتيدية الموجودة في زلال البيض.

النتيجة : البروتينات تبدي تفاعلاً بيوريا.

ب - تفاعل الأصفر الأحمي (كساتوبروتيك) :

تجربة : نمزج في أنبوب اختبار ٣ سم ٣ من محلول ماء الزلال مع ١ سم ٣ من حمض الأزوت المركز. أرجع إلى الشكل -٦-

الملاحظة : تتشكل خثارة بيضاء بالتسخين الخفيف تتلون بالأصفر بعد إضافة قطرات من محلول النشادر المركز.

الملاحظة : يتحول اللون الأصفر إلى لون برتقالي.

ملاحظة : يمكن الحصول على نفس النتيجة أي اللون البرتقالي، عندما نستعمل الصودا بتركيز ٤٠ % عوضاً عن محلول النشادر.

النتيجة : البروتينات مركبات لونية، أي تبدي تفاعلاً بيوريا و تفاعلاً كساتوبروتيكياً.

- ب - أنواع البروتينات :

- ب ١ - الأحماض الأمينية :

نحصل عليها بالإمهاء الكلية للبروتينات

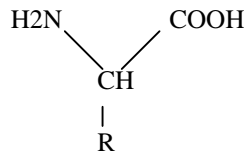
و التي تتم بمعزل عن الهواء. و في وسك حمضي مثل حمض كلور الماء ذو النظامية ٦/ن أو مثل حمض الفلييور HF و في درجة حرارة ١١٠م° و لمدة تصل إلى ٤٨ ساعة.

\*بنية الاحماض الامينية

تتميز الأحماض الأمينية

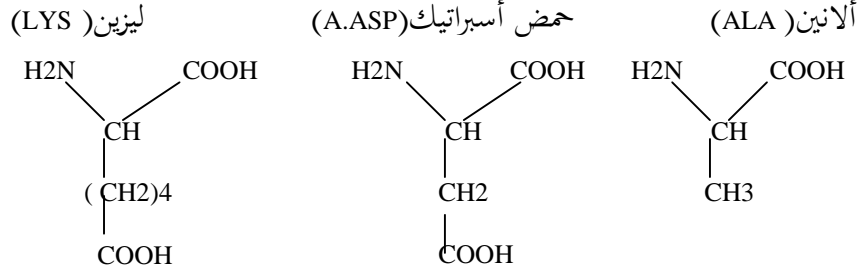
باحتمائها على جزء ثابت هو

لمجموعة الحمضية (COOH)



و المجموعة الأمينية (NH<sub>2</sub>)

و على جزء متغير يدعى جذر R. الصيغة العامة للحمض الأميني يتجاوز عددها عشرين حمضاً أمينياً و تقسم إلى أحماض أمينية قاعدية، حامضية، أو متعادلة. مثل

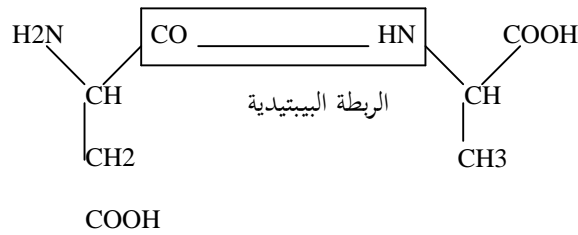


## ب ٢- الببتيدات :

تنشأ الببتيدات من اتحاد عدد من الأحماض الأمينية مع بعضها حيث يتراوح عددها من اثنين إلى بعض عشرات و المركب الناتج عن اتحاد حمضين أمينيين يدعى ثنائي الببتيد الذي يحتوي على مجموعة حمضية في طرف و على مجموعة أمينية في طرف آخر، و بالتالي يستطيع الاتحاد مع حمض أميني آخر ومشكلا ثلاثي الببتيد

و بتكرار اتحاد الأحماض الأمينية فيما بينها نحصل على متعدد الببتيد. و يتم الإتحاد بتفاعل المجموعة الحمضية للحمض الأميني الأول مع المجموعة الأمينية للحمض الأميني الثاني، و ينتج جزيئة ماء كما هو موضح في المثال التالي :

ألانين (ALA) + حمض أسبراتييك (A.ASP)





. ثنائي البتيد: Asp - Ala

أمثلة عن متعدد البتيد :

الأنسولين : يتكون من اتحاد ٥١ حمض أميني، و هو هرمون معثكلي مخفيض  
لنسبة السكر في الدم.

الإفرازين : يتكون من ٢٧ حمض أميني، و هو هرمون يفرزه العفج، يحث المعثكلة  
على الإفراز.

الغلوكاغون : يتكون من ٢٩ حمض أميني، و هو هرمون معثكلي، يعمل على  
زيادة نسبة السكر في الدم.

-ب٣- البروتينات :

تتميز البروتينات عن الببتيدات باحتوائها على أكثر من مئة حمض أميني، لذلك  
فهي ذات وزن جزئي ضخم يتراوح من عشرات الآلاف إلى الملايين و تقسم  
إلى مجموعتين :

١ - البروتينات المتجانسة : ينتج عن إمامتها الكلية احماض أمينية فقط. مثل :  
زالال البيض.

٢ - البروتينات غير المتجانسة : ينتج عن إمامتها الكلية أحماض أمينية و  
مركبات لابروتيديية و من البروتينات غير المتجانسة نميز : COOH

١- البروتينات اللونية : الهيم

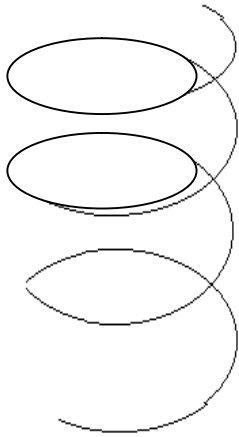
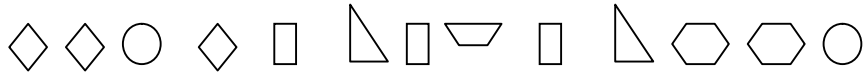
مثل خضاب الدم (الهيموغلوبين) وخضاب العظلات (الميوغلوبين) الذي يتكون من شقين، شق بروتيني يتمثل في

الخضاب (غلوبين) و شق لا بروتيني جزئ الميوغلوبين يتمثل في الهيم و هو مركب كيميائي يحتوي على الحديد (Fe) حيث نميز أربع مجموعات هيم لجزئ واحد من خضاب الدم

٢- البروتينات النووية: مكونة من اتحاد أحماض أمينية و مادة لابروتيديدية هي الاحماض النووية (ARN ،ADN) وتعتبر أكثر أنواع البروتينات تعقيداً.

### -ج- بنية البروتينات

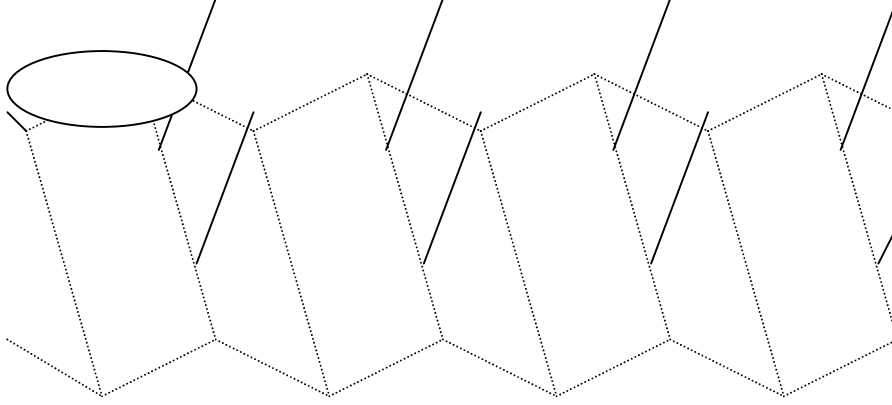
لقد أمكن عن طريق الأشعة السينية التعرف على مختلف بنيات البروتين :  
البنية الأولية: يقصد بها سلسلة واحدة أو عدّة سلاسل خطية مكونة من ارتباط الأحماض الأمينية براوطة ببيتيدية: مثل الغلوكاغون



### البنية الثانوية من نوع الحلزون ( )

يمكن للسلاسل الخطية المكونة من ارتباط الأحماض الأمينية أن تلتف بصورة حلزونية لتعطي مستواً ثانٍ من التجمع وتكونا لراوطة الهيدروجينية هي المسؤولة عن ذلك الحلزون كما هو موضح في الشكل المقابل

ب- البناء ( ) : كما يمكن ان ترتبط عدة جزيئات ذات بنى اولية أو أجزاء متوازية لجزيء واحد بروابط هيدروجينية فتأخذ شكل ورقة مطوية كما هو موضح في الشكل الموالي :



البنية الثانوية من نوع ( )

البنية الثلاثية

يمكن للبنية الثانوية أي الحلزونية أن تأخذ شكلاً في الفراغ قريباً من الكروي أو البيضوي مثل الميوغلوبين (خضاب العضلات) كما هو موضح في الشكل التالي :

**البنية الرباعية :**

يمكن للبنية الثلاثية أن تتحد مع بعضها لتعطي لصورة أخرى في الفراغ، و قد تكون هذه البنيات الثلاثية متشابهة كما في انزيم الفوسفوريلاز، أو تكون مختلفة كما في خضاب الدم، حيث نميز أربعة جزيئات بروتينية ذات بنية ثنوية: بنيتين من نوع وأخريتان من الشكل الموالي:

بنية ثنوية من نوع

الخلزون

بنية ثنوية من نوع


البناء

**الخاصية الحمقلية (الأمفوتيرية) :**

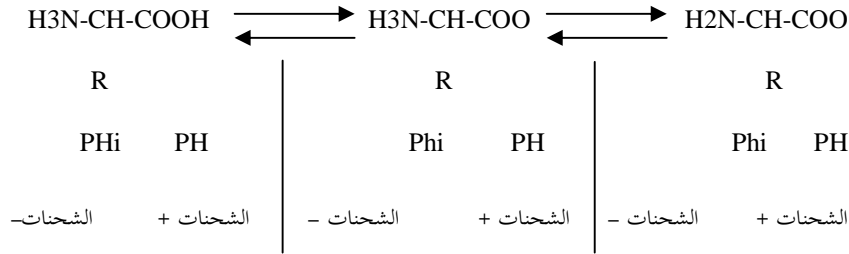
تجربة : نضع في أنبوبي اختبار ٣ سم<sup>٣</sup> من حمض الخل، نضيف إلى الأنبوب الأول ٣ سم<sup>٣</sup> من حمض الخل و إلى الأنبوب الثاني ، ٣ سم<sup>٣</sup> من كربونات الصوديوم (قاعدة) .

الملاحظة : يتشكل محلول حليبي في الأنبوبين.

**لتفسير:** يعود ظهور المحلول الحليبي في الأنبوب الأول إلى تفاعل الزلال مع الحمض و الكربونات و تشكل ملح وفق القاعدة الكيميائية :



**النتيجة:** يسلك البروتين في وسط حمضي، سلوك القاعدة أي يكتسب شحنة موجبة (إكتساب H) و ينتقل في مجال كهروبيائي نحو القطب السالب و يسلك سلوك حمض في وسط قاعدي يكتسب شحنة سالبة (فقدان H) و ينتقل في مجال كهروبيائي نحو القطب الموجب و لذلك تعرف البروتينات بالمركبات الحلقية أو الامفوتيرية أي يتوقف تشردها على درجة PH نفس الظاهرة تنطبق على الاحماض الامينية و يمكن توضيح ذلك بالتفاعلات التالية:



**الشرح :**

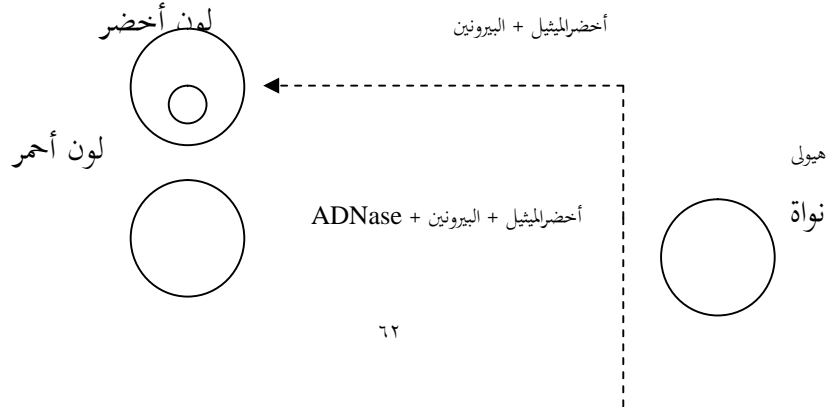
- في الوسط الحمضي تتأين الوظائف القاعدية للبروتين فتكسب شحنة موجبة  
- في الوسط القاعدي تتأين الوظائف الحمضية للبروتين فتكسب شحنة سالبة  
- عند قيمة PH معينة خاصة بنوع البروتين وتدعى Phi تتأين نصف الوظائف القاعدية ونصف الوظائف الحمضية أي أن عدد الشحنات السالبة يساوي عدد الشحنات الموجبة

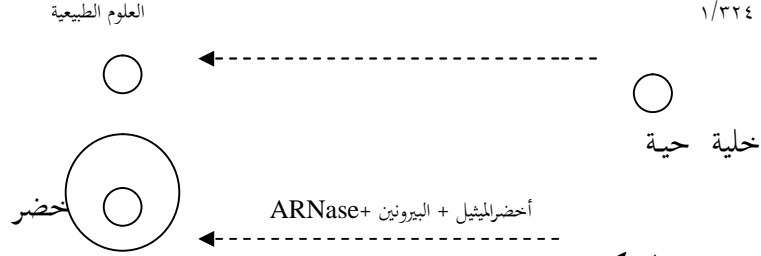
عند PH Phi تكون شحنة البروتين سالبة لانه يحتوي على وظائف COOH متأينة أكثر من وظائف NH2 و عكس كل ذلك يحدث عند PH Phi

## الحموض النووية

مكان تواجد الحموض النووية: تجربة براشي (الشكل - ١ -)  
تلون خلية بأخضر الميتيل الذي يلون الـ AND بالأخضر، و بالبيرونين الذي يلون الـ ARN بالوردي.

ب - تقارن الخلية الملونة بمخلايا عولجت إما بمادة مخربة للـ AND (ADN ase) أو مادة مخربة للـ ARN (ARN ase) المقارنة بين هذه الخلايا تسمح بمعرفة أن الـ AND يوجد بالنواة، و الـ ARN يوجد بالنوية و الهولي.





الشكل - ١ -

### مكونات الحموض النووية :

١ - الإماهة الجزئية : يكون ناتج الإماهة الجزئية للحموض النووية هو النيكليوزيدات " ، و هي عبارة عن علاقة: (قاعدة - سكر خماسي) أما إذا ارتبطت هذه النيكليوزيدات بحمض فوسفوري فتشكل ما يسمى النيكليوتيدات، وهي عبارة عن مركب :

( قاعدة - سكر خماسي - حمض فوسفوري).

٢ - الإماهة الكلية : سمحت الإماهة الكلية لل ADN بعزل مختلف مكوناته :

- قواعد عضوية آزوتية من صنفين :
- قواعد بيورين : تتمثل في : أدنين و غوانين.
- قواعد بيريميدين تتمثل في ستيوزين و تيمين (يورا سيل بدل تيمين عند ARN)
- حمض الفوسفوريك  $H_3PO_4$ .
- سكر ريبوز منقوص الأكسجين عند ال ADN وسر ريبوز عند ال ARN

### - بنية ال AND :

في عام ١٩٥٣، عرضا واتسون و كريك نموذجاً يمثل بنية الحمض النووي AND (الحمض الربي النووي منقوص الأكسجين) و قد وصفا جزيئة ال ADN على أنّها مروحين مشكلين من خيطين ملتفان حول بعضها البعض، وملتصقان فيما

بينهما بروابط بين عناصر كلّ خيط. يمكن مقارنة هذا الجزيء بسلم ملتف على شكل حلزوني. هذه الروابط عبارة عن أزواج من القواعد الآزوتية التي تتصل فيما بينها عن طريق جسر هيدروجيني، بحيث يلتقي الأدين مع الثيمين، و الغوانين مع السيتوزين.

و كلّ قاعدة آزوتية تتصل بجزيء سكر يسمى بالريبوز منقوص الأكسجين هو الآخر مرتبط بمجموع فوسفاتي ( الشكل الموالي ) :

#### بنية الـ ARN :

الحمض النووي الثاني يتمثل في الحمض الريبسي النووي ARN الذي يشبه كثيرا الـ ADN. فالسكر على مستوى هذا الجزيء يتمثل في الريبوز عوض الريبوز منقوص الأكسجين كما هو في الـ ADN، أي أنه يحتوي على ذرة أكسجين إضافية. فيما



يخصّ القواعد، اليورا سيلّ محلّ محلّ التيمين في هذا الجزئي، يتمثل الـ ARN عادة في خيط واحد ينتج تحت مراقبة الـ ADN. و يعدّ الـ ARN كوسيط للـ AND لمراقبة بعض النشاطات الخلوية. بعض أنواع الـ ARN يأخذ جزيئه شكل سلسلة مزدوجة مثل الـ ARNt الناقل)

بنية الـ ARN الناقل

### أسئلة التصحيح الذاتي

١ - لديك ثلاثة أحماض أمينية جذورها العضوية هي

CH<sub>3</sub>  
CH<sub>3</sub>  
CH<sub>3</sub>

\* الجذر الاول :

\* الجذر الثاني  $-CH_3$

\* الجذر الثالث:  $-CH_2-COOH$

- أكتب الصيغة الكاملة لكل حمض أميني.

- أكتب معادلة هذه الأحماض الأمينية

بالترتيب ( ١ - ٢ - ٣ ) .

٢ - لديك أنبوبي اختبار أحدهما به محلول حمض أميني و الأنبوب الثاني به محلول ثلاثي الببتى

\* كيف تتعرف عليهما تجريبيا ؟

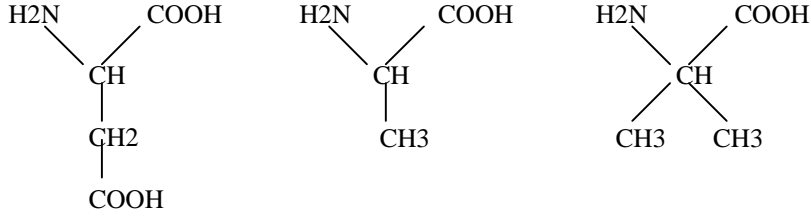
٣ - تعتبر البروتينات شديدة التنوع حتى في أفراد النوع الواحد. كيف تفسر ذلك ؟

٤ - بما تفسر تفاعل بيوري الإيجابي مع زلال البيض المتخثر ؟

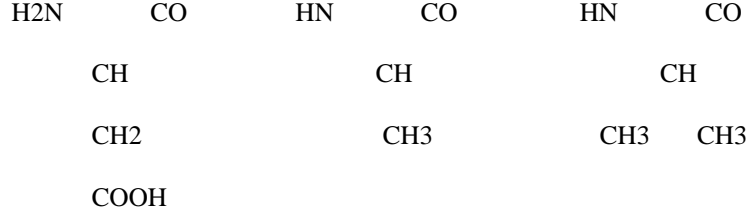
### أجوبة التصحيح الذاتي

١ - الصيغ الكاملة للأحماض الأمينية الثلاثة :

الحمض الأميني الأول      الحمض الأميني الثاني      الحمض الأميني الثالث



معادلة تركيب الأحماض الأمينية الثلاثة بالتركيب ٣ - ٢ - ١ - ٣ هي :



١ - نستطيع أن نتعرف عليها بتجربة تفاعل بيوري حيث يكون تفاعل بيوري إيجابياً مع ثلاثي الببتيد لأنه يحتوي على أكثر من رابطة ببتيدية. بينما يكون تفاعل بيوري سالباً مع الحمض الأميني.

٢ - يرجع التنوع الكبير للبروتينات إلى عدد الأحماض الأمينية و ترتيبها و تنوعها.

٣ - يكون تفاعل بيوري إيجابياً مع زلال البيض المتخثر لأن التخثر لا يؤدي إلى زوال الروابط الببتيدية

### الحالات الفيزيائية للمخاليط

الهدف من الدرس :

- التعرف على أنواع المخاليط و خصائصها.

المدة اللازمة للدرس : ساعات.

**الوسائل اللازمة للدرس :**

- أنابيب اختبار، مجهر ضوئي، صفائح زجاجية، ساترات، ماصة، موقد، ملح الطعام، كبريتات النحاس ، غلوكوز، سكروز، نشاء، زلال البيض، ورق الترشيح، قمع زجاجي، حوجلة، غشاء السيلوفان، أنبوب قمعي، حوض، ماء مقطر، زيت الزيتون، حامل.

**المراجع الخاصة بالدرس :** كتاب العلوم الطبيعية السنة الثالثة ثانوي

**تصميمُ الدرس**

- تمهيد.
- تحضير المخاليط.
- خواص المخاليط.
- أسئلة التصحيح الذاتي.
- أجوبة التصحيح الذاتي.

**تمهيد :**

تعرفنا في الدروس السابقة أنّ مكونات الكائن الحي هي مواد معدنية و مواد عضوية تتواجد في حالات فيزيائية مختلفة، و من أجل التعرف على هذه الحالات بدقة نقوم بإجراء التجارب التالية :

**أنواع المحاليل :**

**تجربة :** نحضر أربعة أنابيب اختبار و نضع في كل واحد منها ٥ سم<sup>٣</sup> من الماء المقطر و نضيف إلى :

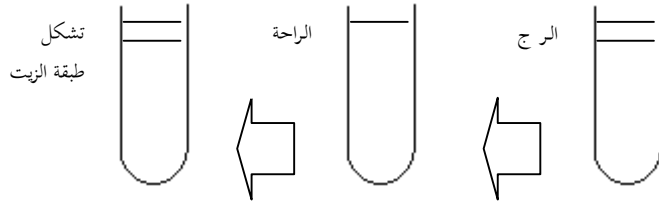
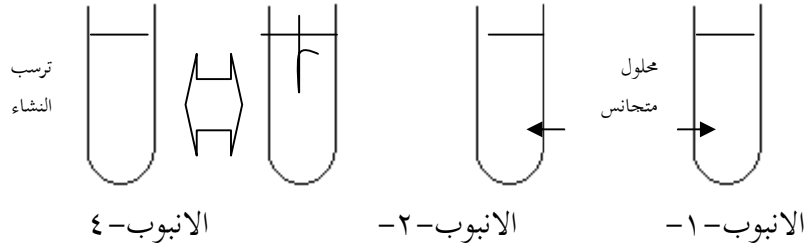
الأنبوب الأول : بلورات من ملح كبريتات النحاس  $CuSO_4$ .

الأنبوب الثاني : كمية من زلال البيض.

الأنبوب الثالث : كمية من النشاء

الأنبوب الرابع. كمية من الزيت.

نرج الأنابيب الأربعة جيداً ثم نتركها لتهدأ. النتائج مبينة في



الانبوب - ٣ -

**الملاحظة: الأنبوب الأول:** يأخذ الخليط مظهراً متجانساً شفافاً لا يمكن تمييز جزيئات الملح.

**الأنبوب الثاني:** يظهر الخليط غبشاً متجانساً لزجاً يشبه الغراء.

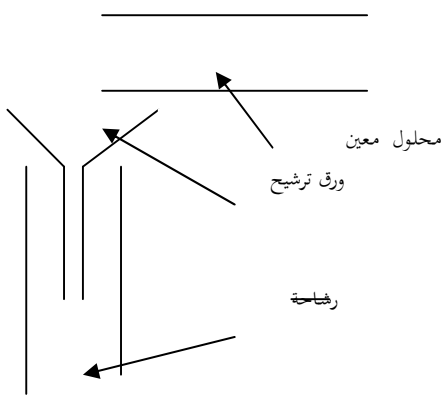
**الأنبوب الثالث:** يمتزج السائلان و يأخذ الخليط مظهراً حليبياً غير متجانس بعد الرج، ثم لا يلبث أن يفصل السائلان عن بعضهما (الزيت عن الماء).

**الأنبوب الرابع:** يظهر خليط حليط غيرمتجانس تبدو فيه حبيبات النشاء عالقة في الماء، وبعد لحظات تترسب في الأنبوب.

**النتيجة:** يعرف محلول الأنبوب الأول (ماء +  $\text{CuSO}_4$ ) **بالمحلول الحقيقي** كما يعرف محلول الأنبوب الثاني (ماء + زلال البيض) **بالمحلول الغروي**، و يعرف

محلل الأنبوب الثالث (ماء + زيت) بالمستحلب أما محلل الأنبوب الرابع (ماء + نشاء) فيعرف بالمعلق.

الخصائص الفيزيائية للمحاليل :



(I) الترشيح: تجربة : نأخذ أربعة

(II) أنابيب تحتوي على التوالي.

أنبوب ١ : محلل حقيقي

(ماء + كبريتات النحاس).

أنبوب ٢ : محلل غروي

(ماء + زلال لبيض).

أنبوب ٣ : مستحلب (ماء + زيت).

أنبوب ٤ : معلق (ماء + نشاء).

الشكل - ١

نجري عملية الترشيح كما هو مبين في الشكل - ١ -

الملاحظة:

- رشاحة الأنبوب الأول زرقاء اللون، وهذا دليل على مرور جزيئات كبريتات النحاس عبر مسام ورق الترشيح.

- رشاحة الأنبوب الثاني تبدي تفاعل بيوري وكزنتوبروتيك

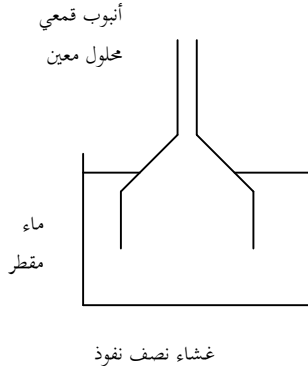
و هذا دليل على مرور جزيئات الزلال عبر ورق الترشيح

- رشاحة الأنبوب الثالث تحتوي على الماء فقط و هذا دليل على أن جزيئات الزيت لاتعبر ورق الترشيح.

- رشاحة الأنبوب الرابع لاتتلون بالأزرق البنفسجي عند معاملتها بالماء اليودي و هذا دليل على عدم مرور جزيئات النشاء عبر ورق الترشيح.

**النتيجة :** المحلول الحقيقي و الغروي قابلان للترشيح، بينما المعلق والمستحلب لا يرشحان.

### ١- الميز :



**تجربة :** نحضر أربعة تراكيب تجريبية لأجهزة الميز (مائية) كما هو مبين في الشكل - ٣ حيث تحتوي الأحواض الأربعة على الماء المقطر، بينما تحتوي الأنابيب القمعية على التوالي :  
- الأنبوب الأول يحتوي على المحلول الحقيقي

### الشكل ٣ (ماء + كبريتات النحاس المركز)

- الأنبوب الثاني يحتوي على محلول غروي (ماء + زلال البيض).
  - الأنبوب الثالث يحتوي على مستحلب ( ماء + زيت).
  - الأنبوب الرابع يحتوي على معلق (ماء + نشاء) .
- نترك التراكيب التجريبية لمدة ٣٠ دقيقة.

### الملاحظة :

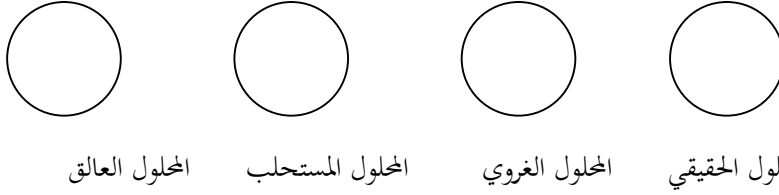
- يتلون ماء الحوض رقم -١- باللون الأزرق دليل على مرور جزيئات كبريتات النحاس عبر غشاء السيلوفان.
- محتوى الحوض رقم -٢- لا يعطي التفاعلات اللومية للبروتينات، وهذا دليل على عدم مرور جزيئات الزلال عبر غشاء السيلوفان.
- لا نلاحظ أي أثر لجزيئات الزيت في الحوض رقم -٣- وهذا دليل على عدم مرور جزيئات الزيت عبر غشاء السيلوفان.

- محتوى الحوض رقم -٤- لا يعطي اللون الأزرق البنفسجي مع الماء اليودي، وهذا دليل على عدم مرور جزئيات النشاء عبر غشاء السيلوفان.  
**النتيجة :** المحلول الحقيقي قابل للميز بينما المحاليل ( الغروية المستحلبة، العالقة ) غير قابلة للميز.

### (III) الخواص الضوئية للمحاليل:

#### أ - الفحص المجهرى:

**تجربة :** نأخذ أربعة صفائح زجاجية، ونضع فوق كل واحدة قطرة من أحد المحاليل الأربعة السابقة ( الحقيقي، الغروي، المستحلب، المعلق ) ثم نسترها بساترة نفحصها بالمجهر الضوئي. الشكل الموالي:



**الملاحظة :** يبدو المحلولان الحقيقي والغروي متجانسان حيث لا نميز بين جزئيات المذاب والمذيب. بينما المستحلب والمعلق غير متجانسان، أي يمكن التمييز بين جزئيات المذيب من المذاب  
**النتيجة :**



المخاليل الحقيقية و الغروية متجانسة بينما المستحلبات والمعلقات غير متجانسة.

### ب - حادثة تاندال :

تجربة : نحضر أربعة أحواض زجاجية متوازية السطوح و نضع فيها على التوالي

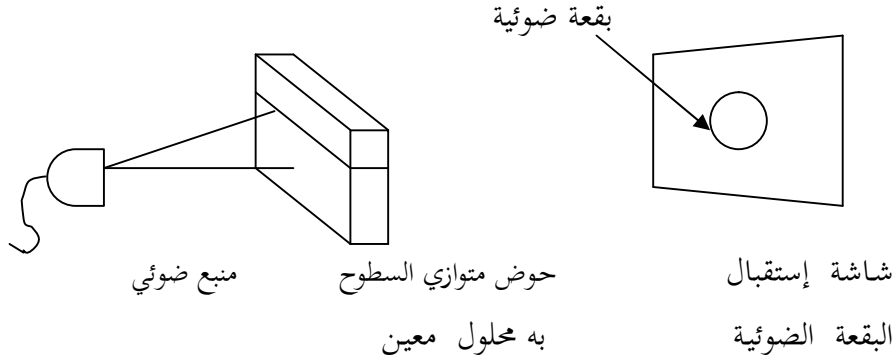
\* الحوض الأول : محلول حقيقي. \* الحوض الثاني : محلول غروي.

\* الحوض الثالث : مستحلب. \* الحوض الرابع : معلق.

تتم التجربة في غرفة مظلمة حيث يعرض كل حوض على حده لمسار حزمة ضوئية مع استقبال هذه الحزمة الضوئية على شاشة بعد اجتيازها للحوض. أنظر الشكل - ٤ - .

الملاحظة : - لا نشاهد أي أثر لمرور الحزمة الضوئية خلال اجتيازها لمحلول الحوض الأول (الحقيقي) و تشكل بقعة ضوئية كاملة الاستدارة ( واضحة الحدود) على الشاشة.

الشكل -٤-



- نشاهد إضاءة خفيفة لمحلول الحوض الثاني (الغروي) أثناء مرور الحزمة الضوئية و تشكل بقعة ضوئية ذات حواف غير واضحة على الشاشة.

- بينما نشاهد إضاءة شديدة في محلولي الحوضين الثالث و الرابع و تشكل بقعة ضوئية غير واضحة على الشاشة.

**التفسير:** تنكسر الأشعة الضوئية في الحوضين الثالث و الرابع إذ تقوم حبيبات النشاء وقطيرات الد سم بذلك بينما يكون إنكسار الأشعة جزئياً في الحوض الثاني، و يكون هذا الإنكسار كافياً ليشير إلى مرور الحزمة الضوئية.

**النتيجة:** تظهر حادثة تاندال بأن المحاليل الغروية هي غير متجانسة بينما المحاليل الحقيقية هي المحاليل المتجانسة لوحدها.

#### الخلاصة:

تتواجد بعض المكونات العضوية و المعدنية للكائن الحي على هيئة خلائط معقدة يدخل الماء في تركيبها بصورة أساسية حيث نميز فيها المحاليل الحقيقية و الغروية والمستحلبة و العالقة و تظهر فيما بينها خصائص مختلفة نلخصها في الجدول التالي

التجارب	الترشيح	المميز	حادثة تاندال
الحقيقي	+	+	غير ناشر للضوء (-)
الغروي	+	-	ناشر للضوء بشكل خفيف (+)
العالق	-	-	ناشر للضوء بشكل واضح (+ +)
المستحلب	-	-	ناشر للضوء بشكل كلي (+ +) (+)

### أسئلة التصحيح الذاتي

١ - إنَّ محلول ملح الطعام قابل للترشيح و الميز كيف تثبت ذلك تجريبيا دون اللجوء إلى حاسة الذوق ؟

٢ - لدينا المحاليل التالية :

- المحلول - أ - ماء مقطر + غلوكوز.

- المحلول - ب - ماء مقطر + غلوكوز + كحول.

- المحلول - ج - ماء مقطر + أحماض أمينية.

- المحلول - د - ماء مقطر ساخن + نشاء.

\* صنف هذه الكحالييل.

٣ - ماهي التقنيات المخبرية التي نستعملها لفصل مكونات الخليط التالي :

- ماء مقطر + غلوكوز + نشاء + بروتين.  
 ٤ - بالأعتماد على معلوماتك إلى أي محاليل يصنف الدم؟ مع التعليل.

### أجوبة التصحيح الذاتي

- ١ - نأخذ عينة من الرشاحة و نكشف فيها عن شوارد الكلورور بإضافة كاشف  $AgNO_3$  و  $HNO_3$  كوسيط، فيشكل راسب أبيض يسود بالضوء، دليل على وجود شوارد  $Cl^-$ .
- ٢ - تصنف المحاليل إلى :
- المحلول - أ - حقيقي بسيط.  
 المحلول - ب - حقيقي مركب.  
 المحلول - ج - حقيقي بسيط.  
 المحلول - د - محلول غروي.
- ٣ - التقنيات المخبرية هي :
- عملية الترشيح لفصل النشاء.  
 - عملية الميز لفصل البروتين.

- عملية التسخين لتبخير الماء فنحصل على جزيئات الجلوكوز المتبلورة.
- ٤ - اعتماداً على مكونات الدم فهو :
- \* محلول حقيقي لا محتواه المصورة على أملاح معدنية و جلوكوز و أحماض أمينية . . . الخ.
- \* محلول غروي لاحتوائه على بروتينات منحلّة في المصورة كالألبومين، و الفلوبولين (أجسام مضادة) و إنزيمات . . . الخ.
- \* محلول معلق لاحتوائه على كريات دموية حمراء و بيضاء وصفائح دموية.
- \* محلول مستحلب لاحتوائه على مواد دهنية كالكوليسترول.
- مما سبق نستنتج أنّ الدّم عبارة عن محلول مركب من الأنماط الأربعة.

## الخلية وحدة تركيبية

### الهدف من الدرس :

- التعرف على مكونات مكونات الخلية الحيوانية.
- التعرف مكونات الخلية النباتية.
- التوصل إلى مفهوم النسيج.
- مقارنة بين الخلية الحيوانية و الخلية النباتية.
- المدة اللازمة للدرس : ٠٧ ساعات.

**الوسائل اللازمة للدرس :** بصل، بطاطا، طماطم، نبات الإيلوديا، ماء مقطر محاليل (الأحمر المعتدل، ماء اليود، أخضر الميثيل الخلي، أخضر جانونس، أحمر الكارمن، نترات الفضة) مجهر ضوئي، زجاجات ساعة، ملاقط، مشرط، سماحة صفائح زجاجية، ساترات، كبد فأر، الفلفل.

**المراجع الخاصة بالدرس :** كتاب العلوم الطبيعية السنة الثالثة ثانوي

### تصميم الدرس

- تمهيد.
- الخلية الحيوانية :- فحص مخاطية الفم بالمجهر الضوئي
- الخلية النباتية : فحص البشرة الداخلية لحشفة البصل دون استعمال ملونات.
- فحص البشرة الداخلية لحشفة البصل دون استعمال ملونات.
- فحص ورقة نبات الإيلوديا.
- فحص لب ثمرة الطماطم الناضجة.
- مفهوم النسيج.

- أسئلة التصحيح الذاتي. - أجوبة التصحيح الذاتي.

### تمهيد :

رغم التباين الكبير بين مختلف الكائنات الحية الحيوانية والنباتية البسيطة أو المعقدة فإنها تشترك جميعها في الوحدة التركيبية، إلا أنه لا يبدو جليا بالملاحظة العابرة فالسمكة أو الشجرة لا يبدو وأنهما متشابهتان ولكنهما مع ذلك تتماثلان في أن كل منهما يتألف من خلايا وهناك عدة طرق تستخدم لدراسة هذه الخلايا. وتقنيات

### بعض تقنيات وطرق دراسة الخلية :

١ - الدراسة المجهرية: تتم باستعمال المجهر الضوئي أو المجهر الإلكتروني

الليدان يمتازان بمجموعة من الخصائص نوجز بعضها في الجدول رقم -١-

### ٢ - طريقة الوسم بالعناصر المشعة :

تعتمد هذه الطريقة على استعمال النظائر المشعة للعناصر الكيميائية التي تدخل في تركيب المكونات الحية وهي على سبيل المثال  $C^{14}$ ،  $O^{18}$ ،  $N^{18}$ ،  $H^3$  ويهدف من خلال هذه العملية معرفة :

أ - دور عضيات الخلية أو البحث عن تركز مادة أو جزيئات معينة في الخلية وعلى سبيل المثال نقوم باستعراض الخطوات التجريبية لتحديد موضع الـ

ADN الخلية :

- يجب وسم مركب أو جزيئ كيميائي مميز للـ ADN فقط مثل التيمين (T) بواسطة الهيدروجين المشع التريتيوم ( $H^3$ ). نقوم بحقن هذا المركب في هيولى الخلية الحية وبعد مرور مدّة زمنية تشبع مواقع الإشعاع داخل الخلية باستعمال طريقة

التصوير الإشعاعي الذاتي فيظهر الإشعاع وهذا دليل على أن الـ AND يتمركز في النواة.

المجهر الإلكتروني	المجهر الضوئي	المجهر الإلكتروني
من ٥٠٠ إلى مئات الآلاف مرة	من ٢٥ إلى ١٥٠٠ مرة	التكبير
المحضر يخرق بواسطة الإلكترونات	المحضر يخرق بواسطة الفوتونات الضوء	المحضر
العدسات في حقول مغناطيسية	عدسات زجاجية	نوع العدسات
سمك العينة ٠,٠٥ UM	بين ٥ ← ١٥ UM	سمك العينة
العينة على شبك معدني ذو سمك دقيق جداً	العينة مباشرة بالعين	الصفيحة المستعملة
تلاحظ العينة العينة على شاشة متفلورة لا يمكن رؤية الخلية بأكملها و لكن يمكن رؤية التركيب الدقيق لها ( ما فوق بنية الخليفة	تلاحظ العينة مباشرة بالعين يمكن رؤية الخلية بأكملها	المشاهدة مجال الرؤية
الخلايا ميتة	الخلايا حية أو ميتة	المحضرات
لا تستعمل الملونات و لا تشهد الألوان الطبيعية للعناصر الخلوية.	يمكن تلوين المحضرات أو مشاهدة الألوان الطبيعية مثل الابلاستيدة الخضراء، تظهر بلون	التلوين



	أحض	
--	-----	--

الجدول - ١ -

ب - معرفة العلاقة الوظيفية بين العضيات مثل العلاقة بين الشبكة الهيولية الحبيبة وجهاز كوليبي. "أنظر درس المبادلات".

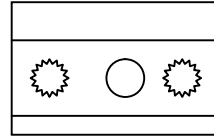
### ٣) طريقة التصوير الإشعاعي الذاتي :

تعتمد على مبدأ الوسم بالعناصر المشعة حيث يتم الكشف أو تحديد مواقع الجزيئات أو العضيات الموسمة وذلك بتغطية المحضر بشرائط حساس وهذا في غرفة مظلمة. والشريط الحساس عبارة عن مستحلب فوتوغرافي يتكون من بلورات بروم الفضة  $AgBr$  والجيلاتين فينتبع الشريط الحساس بواسطة الإشعاعات الصادرة عن العناصر المشعة والداخلية في تركيب الجزيئات الخلوية حيث ترجع شوارد الفضة باكتسابها لل  $(e^-)$  الصادر عن العنصر المشع في صورة إشعاعات بيتا ( ) وبعد معالجة الشريط الحساس بالتحميم والتثبيت تظهر الفضة على شكل حبيبات (بقع) سوداء تدل على أماكن تواجد المادة المراد الكشف عنها. الاشكال ( ١ ) ، ٢ ، ٣ )

أ - مستحلب فوتوغرافي

( جيلاتين + بلورات بروم الفضة )

ب - المحضر يحتوي على عناصر مشعة



الشكل - ١ -

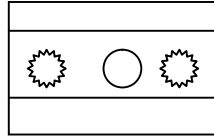
عناصر مشعة

عناصر غير مشعة

الشكل - ٢ - الإشعاع الصادر

من العنصر المشع يرجع شوارد

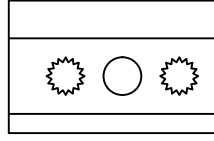
الفضة إلى فضة معدني



الشكل - ٣ - بعد معالجة الشريط تظهر

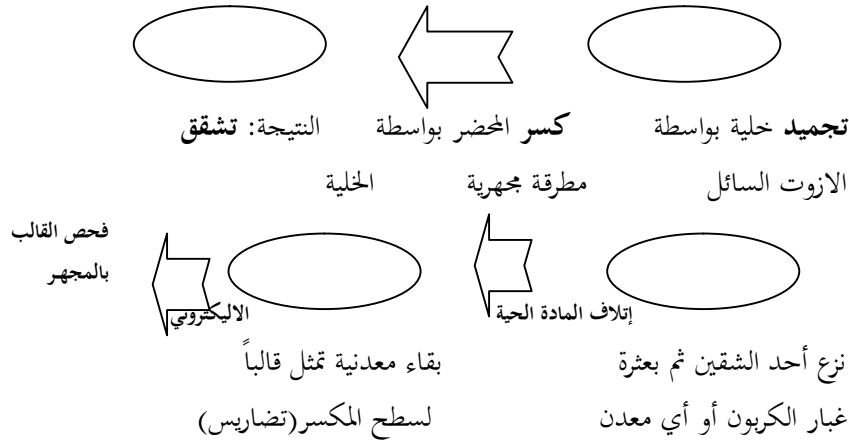
حبيبات الفضة وتصبح مرئية

على شكل بقع سوداء



٤ - طريقة الكسر بعد التجميد :

تستخدم هذه الطريقة لمعرفة شكل العضيات الداخلية للخلية و مبدأ هذه الطريقة يتم بتجميد مفاجئ للخلية في الأزوت السائل و في درجة ١٥٠ م<sup>٠</sup> ثم تكسر هذه الخلية بمطرقة مجهرية فنحصل على جزئين من الخلية، قالب ومقلوب ثم نضلل الجزء الثاني ( القالب ) بواسطة مواد معدنية مثل البلاتين والكربون ثم ننقي هذه البصمة من العضيات ثم نأخذ هذه البصمة ونفحصها بواسطة المجهر الإلكتروني فتظهر لنا الصورة على شكل تضاريس ( مرتفعات ومنخفضات ) الشكل المولي:



## على سطح المكسر (التضليل)

## ٥ - طريقة ما فوق الطرد المركزي للتجزئة الخلوية :

الهدف من هذه الطريقة هو فصل العضيات الخلوية قصد دراستها أو إجراء تجارب عليها و تتمثل خطواتها فيما يلي :

أ - ننجز قطع خلوية ابتداء من خلايا متشابهة ( بكتريا خلايا كبد ... إلخ ) موضوعة في محاليل ملحية تحتوي على السكروز .

ب - نقوم بسحق الخلايا من أجل تمزيق أغشيتها الخلوية . ينجم عن السحق توزع و بعثرة لمكونات الخلايا بشكل متجانس

د - عملية التثفيل :

\*التثفيل الأول :

نقوم بتثفيل الخليط المتجانس بواسطة جهاز طرد مركزي لمدة ٥ دقائق و بسرعة دنيا فنحصل على را سب رقم ١ . يتكون أساساً من الأنوية بينما المكونات الأخرى تبقى عالقة في الخليط المتجانس .

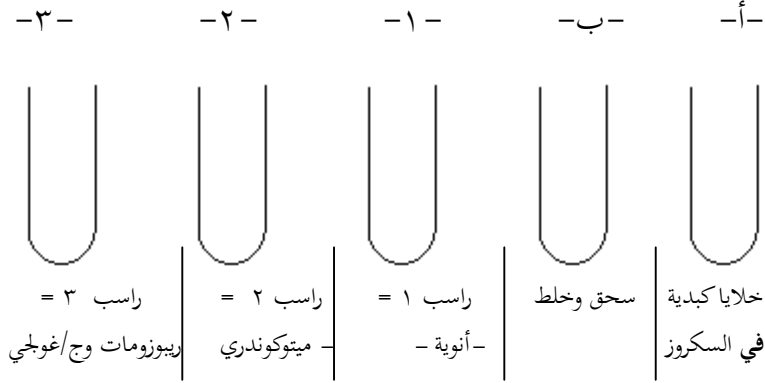
" التثفيل الثاني :

و يكون بسرعة متوسطة و لمدة أطول ١٠ دقائق . لبقية الخليط فيتشكل راسب رقم ٢ ، مكون من عضيات الميتوكوندريا بينما العناصر الدقيقة الأخرى فتبقى عالقة في الخليط المتجانس .

## \*الشفيل الثالث :

يتم بسرعة أكبر و لمدة ٣٠ دقيقة إلى ٣ ساعات فيتشكل راسب رقم ٣ مكون من الريبوزومات الملتصقة بقطع من أغشية الشبكة الهيولية الفاعلة وجهاز كولجي أنظر الشكل : ٣

## الشكل -٣-



## الخلية الحيوانية

## الفحص المجهرى المخاطية في الإنسان :

نعقم طرف الأصبع بقطن مبلل بالكحول ثم نتركه يجف وبعد ذلك وبواسطة طفر الأصبع نكشط بجذر مخاطية جدار الفم ثم نمدد ما يعلق بالظفر في قطرة ماء و نفحص بالمجهر بالتكبير الضعيف ثم المتوسط.

## الملاحظة : تظهر خلايا

صغيرة الحجم شفافة ذات

أشكال متباينة وتميز

في وسط كل خلية نواة صغيرة. الشكل - ٤ - شكل ٤ - مخاطية الفم

### الخلية النباتية

الفحص المجهرى لبشرة حرشفة البصل :

نضع بين صفيحة وساترة قطعة من البشرة الداخلية لحرشفة البصل في قطرة ماء ثم نفحص مجهرياً بالتكبير الضعيف فالمتوسط.

الملاحظة:

: تظهر الخلايا شفافة بأشكال مضلعة

متطاولة متشابهة ومتراصة، وتميز في

كل خلية نواة. الشكل ٥ -

شكل ٥ - حرشفة البصل

### دراسة المكونات الخلوية

أ- الفجوة :

نضيف إلى البشرة الداخلية لحرشفة البصل قطرة من محلول الأحمر المعتدل الممدد، ثم نفحص مجهرياً بالتكبير الضعيف فالمتوسط.

الملاحظة : يظهر معظم الحجم الداخلي للخلية ملونا بالأحمر، وهذا الحجم يشكل الفجوة.

غشاء فجوي

عصارة فجوية  
ملونة بالاحمر  
هيولى

الشكل -٧-

ب - الهيولى :

نضع قطعة من البشرة الداخلية لحرشفة البصل في قطرة من الماء اليودي الممدد ثم نفحص مجهرياً بالتركيز الضعيف فالمتوسط.

الملاحظة : تظهر طبقة محيطية ملونة بالأصفر الشاحب هي الهيولى. الشكل -

٧

\* بنفس الطريقة السابقة نضع خلايا مخاطية الفم في قطرة من الماء اليودي الممدد ونفحص مجهرياً بالتكبير الضعيف فالمتوسط.

الملاحظة : تبدو الخلية ملونة بالأصفر الشاحب هي الهيولى تتخللها فجوات صغيرة شفافة مبعثرة في الهيولى. الشكل - ٨ -

ميتوكوندري

هيولى

نواة

فجوات صغيرة

الشكل -

شكل - ٨ -

-٩-

ج - الميتوكوندري :

نضع مقطعاً رقيقاً جداً من كبد فأر في قطرة منأخضر جانوس بين صفيحة وساترة  
ثم نفحص بالتكبير القوي

الملاحظة : نلاحظ في هيولى الخلية جسيمات خيطية أو حبيبية ملونة بالأخضر  
تسمى الحبيبات الكوندرية. الشكل - ٩

- وبنفس الطريقة السابقة يمكن الكشف عن الميتوكوندري في الخلية النباتية.

#### د - النواة :

نضع بين صفيحة وساترة قطعة من البشرة الداخلية لخرشفة البصل في قطرة من  
أخضر الميثيل الخلي الممدد ثم نفحص مجهرياً.

الملاحظة : نلاحظ جانبياً داخل الخلية جسيماً بيضوياً أخضرًا هو النواة بها كرية  
أو كريتان لا معتان كاسرتان للضوء هما النويتان. الشكل ١٠

نوية واحدة

نويتان أو أكثر

الهيولى

النواة

فجوات صغيرة

فجوة كبيرة

جسيم قاعدي

الشكل - ١١ -

شكل - ١٠ -

هـ - جهاز كولجي :

ننجز مقطعاً رقيقاً في كبد فأر ونضيف له قطرة من نترات الفضة الممددة بين صفيحة وساترة ونفحص مجهرياً.

**الملاحظة :** تظهر في الهيولى قرب النواة غالباً كتلاً هلالية ملونة بالأصفر هي الجسيمات القاعدية التي تشكل جهاز كولجي. الشكل - ١١ -  
\* وقد تبين أن الخلايا النباتية هي الأخرى تحتوي على جهاز كولجي.

## و - الصناعات :

١ - الصناعات الخضراء : نضع ورقة من البرعم الثاني لنبات الإيلوديا

(نبات مائي) في قطرة ماء

بين صفيحة وساترة. ثم نقوم

بالفحص المجهرى. الشكل - ١٢ -

**الملاحظة :** تظهر جسيمات

بيضوية الشكل خضراء

اللون نسميها الصناعات الخضراء الشكل - ١٢ -

## ٢ - الصناعات النشوية :

نضع في قطرة ماء بين صفيحة وساترة مقطعاً رقيقاً

من لبث درنة البطاطا. ثم نقوم بالفحص المجهرى.

**الملاحظة :** تظهر خلايا مضلعة بداخلها حبيبات

بيضوية بأحجام مختلفة كثيرة العد عديمة اللون

هي الصناعات النشوية، يظهر في كل حبيبة الشكل - ١٣ -



خطوط رقيقة متقاربة دائرية الشكل متحدة المركز تعرف بخطوط النمو، وعند معالجتها بالماء اليودي الممدد تتلون بالأزرق البنفسجي. أنظر الشكل -

١٣-

### الجدار الهيكلي :

نضع بين صفيحة وساترة قطعة من بشرة ثمرة الفلفل في قطرة من أحمر الكارمن الممدد ثم نقوم بالفحص المجهرى.

الملاحظة : الشكل -١٤-

تظهر خلايا مضلعة الشكل ينحصر

فيما بينها غلاف ملون بالأحمر

هو الصفيحة الوسطى أما المضلعات

الخلوية فهي تمثل الغلاف السليلوزي

الذي يسند الغشاء الهيوولي خارجيا.

الشكل ١٤ .

### الخلاصة:

من الفحوصات المجهرية السابقة يتضح أن جميع الكائنات الحية البسيطة أو المعقدة حيوانية أو نباتية تتألف من وحدات أساسية هي الخلايا، ومنه نصل إلى أن : الخلية هي أصغر وحدة تركيبية ووظيفية للكائن الحي حيث تتركب من هيولى تسبح فيها مكثفات مختلفة (نواة ميتوكوندري، جهاز كولجي... الخ) ويحيط بها غشاء هيولى رفيع.

### مفهوم النسيج :

من الدراسات السابقة والتي لاحظنا فيها أن المحضر الخاص ببشرة البصل وكذا مخاطية الفم وورقة نبات الإيلوديا والمقطع المنجر في كبد الفأرتتكون ، كلها من

خلايا متشابهة فيما بينها في العضو الواحد في الشكل والوظيفة وبذلك فهي تشكل ما يعرف بالنسيج.

الخلاصة :

جميع الخلايا سواء كانت حيوانية أو نباتية فهي تبدي غشاءً هيولياً وهيولى تضمّ عضيات متنوعة ونواة فهي تخضع لنمط بنيوي أساسي واحد.

و إليك جدولاً و رسماً يلخصان مقارنة بين الخلية الحيوانية و الخلية النباتية

الخلية النباتية	الخلية الحيوانية
- تحتوي على صانعات.	- لا تحتوي على صانعات
- فجواتها كبيرة وقليلة العدد	- فجواتها صغيرة وكثيرة العدد
- يسند الغشاء الهيولى جدار هيكلية	- لا يوجد الجدار هيكلية
- لا تحتوي على جسيم مركزي.	- تحتوي على جسيم مركزي

صانعات :- نشوية

- خضراء

- ملونة

### عضيات مشتركة

غشاء هولي

ميتوكوندري

جهاز كولجي

غشاء نووي

عصارة نووية

نوية

شبكة هيولية

جسيم مركزي  
فجوات صغيرة

فجوات نامية

جدار هيكلي: به ثقب

- جدار سيليلوزي

- صفيحة متوسطة

## أسئلة التصحيح الذاتي

(I) يمثل الشكل المقابل

كائنا وحيد الخلية هو

أشنة الكلاميدوموناس

- ضع أسماء العضيات

المرقمة إذا علمت أن :

١ - عضية ملونة طبيعيا بالأخضر.

٢ - عضية تتلون بالأزرق مع الماء اليودي.

٣ - عضية تتلون بالأخضر مع أخضر الميثيل.

٤ - عضية تتلون بالأحمر مع الأحمر المعتدل الممدد.

٥ - يتلون بالأصفر الشاحب مع اليودي.

(II) هناك عدّة طرق لدراسة الخلية، بالجهر الضوئي، الوسم بالعناصر المشعة،

الكسر بعد التجميد، مافوق الطرد المركزي.

-وضح الغرض من إستعمال كل طريقة من الطرق السابقة

(III) عرف النسيج.

(IV) في طريقة مافوق الطردالمركزي للتجزئة الخلوية، لماذا لانلجأ إلى التثفيل الرابع؟

(V) بماذا تختلف الخلية الحيوانية عن الخلية النباتية ؟

### أجوبة التصحيح الذاتي

(I) العضيات هي :

١ - الصانعات الخضراء ٤ - الفجوة.

٢ - الحبيبة النشوية. ٥ - الهيولى.

٣ - النواة.

- نستعمل الوسم بالعناصر المشعة لدراسة بنية بعض المكونات الحية أو دور

بعض العضيات، أو العلاقة الموجودة بين هذه العضيات.

- نستعمل الكسر بعد التجميد لمعرفة شكل العضيات الخلوية.

- نستعمل ما فوق الطرد المركزي لفصل العضيات الخلوية عن بعضها البعض،

قصد دراستها أو استعمالها في تجارب.

- (III) النسيج هو مجموعة من الخلايا المتجمعة والمتشابهة في الشكل والوظيفة.
- (IV) لا نلجأ للتثفيل الرابع في طريقة مافوق الطرد المركزي لأنه بعد التثفيل الثالث يصبح محتوى الأنبوب المتبقي عبارة عن محلول متجانس لا يمكن ترسيبه.
- (V) عد إلى الدرس.

## المبادلات الخلوية

### ١ - مبادلات الماء

**الهدف من الدرس :** - إظهار مبادلات الماء في الخلية.

التفسير الفيزيائي للظاهرة.

التفسير المجهرى للظاهرة.

الحلول وحساب الضغط الحلوي.

**المدة اللازمة للدرس :** ٥٠ ساعات.

**الوسائل اللازمة للدرس :** درنات، بطاطا، بصل بنفسجي، ساعات زجاجية،

مجاهير ، شفرة حلاقة، جهاز بفيفر، ملقط،

صفيحة زجاجية، ستائر، محاليل سكر القصب مختلفة التركيز، ماء مقطر.

**المراجع الخاصة بالدرس :** كتاب العلوم الطبيعية السنة الثالثة ثانوي

**تصميمُ الدرس**

- تمهيد.

- الإظهار التجريبي لمبادلات الماء.
- التفسير الفيزيائي للظاهرة.
- التفسير المجهرى للظاهرة.
- حساب الضغط الحلوي.
- أسئلة التصحيح الذاتي.
- أجوبة التصحيح الذاتي.

#### تمهيد :

تعتبر الخلية أصغر وحدة تركيبية ووظيفية ولكي تحافظ على بقائها فهي في تبادل مستمر مع وسطها الخارجي.

ومن المواد المتبادلة الماء وهذا ما سنتعرض له في هذا الدرس.

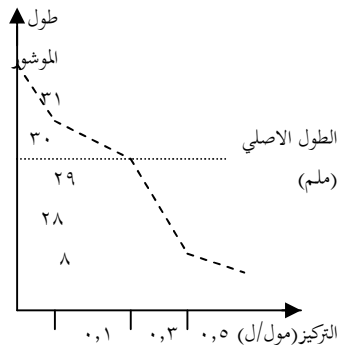
#### الإظهار التجريبي لمبادلات الماء :

لإظهار هذه الحادثة نقوم بإبجازالتجارب التالية :

تجربة : نأخذ درنة بطاطا ننجر منها ثمانية مواشير مربعة متشابهة طول ضلعها ٣٠ مم نضع أحد هذه المواشير في الماء المقطر بينما نضع بقية المواشير في محاليل سكر القصب متزايدة التركيز. كما هو موضح في الجدول التالي :

تركيزالسكروز مول/ل	٠,٠	٠,٢	٠,٤	٠,٥	٠,٦	٠,٧
طول الموشور	٣١,	٣٠,	٢٩,	٢٨,	٢٨,	٢٨,١
	٦	٢	٢	٥	٣	

الملاحظة : بعد مرور ساعة من الزمن نعيد قياس طول كل موشور فنجد تغير في أطوال المواشير كما هو موضح في الجدول.



يمكن ترجمة نتائج الجدول في المنحنى

البياني الموالي:

التفسير:

نلاحظ من المنحنى أن الموشير الموضوعة

في المحاليل التي يتراوح تركيزها بين

( ٠ - ٠,٢ مول/ل)، قد زاد طولها بسبب التركيز (مول/ل) ٠,١ ٠,٣ ٠,٥

دخول الماء إليها بينما الموشير الموضوعة في محاليل التي يتراوح تركيزها بين ( ٠,٤ - ٠,٧ مول/ل)، قد نقص طولها بسبب خروج الماء منها. أما الموشور الموضوع فيتركيز ٠,٣ مول/ل بقي محافظا على طوله.

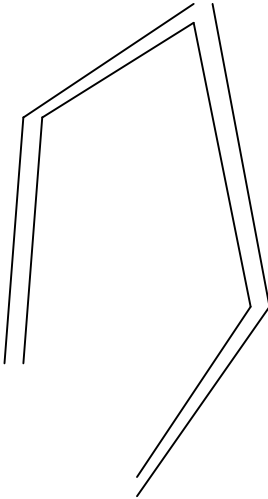
النتيجة: يعود تغير أطوال الموشير إلى خروج ودخول الماء منها وإليها نتيجة تباين تراكيز المحاليل.

التفسير المجهرى للظاهرة:

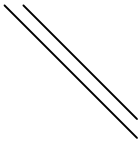
لفهم تغير أطوال موشير درنة البطاطا نفحص بالمجهر الضوئي خلايا نباتية ذات فجوات ملونة طبيعيا ( ذات أصبغة انثو سيانية منحللة ) مثل البشرة الخارجية لحرشفة البصل البنفسجي أو بشرة الملفوف الأحمر.

تجربة (١): نضع قطعة صغيرة من البشرة

الخارجية لحرشفة البصل، قطرة ماء بين الصفيحة و الساترة ثم نفحص بالمجهر.



الملاحظة: تظهر القطعة مكونة من خلايا



تحتوي فجوات ضخمة ملونة بالبنفسجي

القاتح، وهيولى ملامسة للجدار السليلوزي،

فنقول عن الخلية أنها منتبجة. الشكل -٢-. الشكل -٢- : خلية منتبجة

التفسير : إن تركيز العصارة الفجوية داخل الخلية أعلى من تركيز الماء المقطر

الموضوعة فيه مما أدى إلى دخول الماء إلى الفجوة عن طريق الحلول الداخلي،

فانتفخت ودفعت الهيولى نحو الجدار لسيليلوزي.

النتيجة : يؤدي دخول الماء إلى الفجوة العصارية إلى حدوث ظاهرة الإنتباج.

تجربة (٢) : نضع قطعة أخرى من البشرة الخارجية لحرشفة البصل البنفسجي في

قطرة من حلول سكر القصب تركيزه ٢٠٠ غ/ل، بين صفيحة وساترة، ثم

نفحص بالمجهر الضوئي.

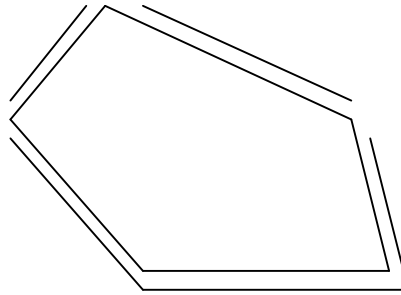
الملاحظة : تظهر القطعة مكونة من خلايا تحوي فجوات صغيرة الحجم ذات

لون بنفسجي داكن وانفصال الغشاء الهيولى عن الجدار السيليلوزي، إلا في بعض

النقاط التي تعرف بالوصلات البلازمية، فنقول عن الخلية أنها منكمشة. الشكل

المولي:

فجوة منحصرة  
نات لون بنفسجي  
داكن  
نواة  
وسط خارجي  
( فراغ )



جدار هيكلي  
غشاء هيولى  
هيولى  
وصلات بلازمية

خلية في حالة إنكماش



**التفسير :**

إن تركيز العصارة الفجوة أقل من تركيز محلول سكر القصب الموضوع فيه، مما أدى إلى خروج الماء من الفجوة إلى الوسط الخارجي عن طريق الحلول الخارجي، فتقلص حجم الفجوة واشتد لونها وابتعد الغشاء الهولي عن الجدار السيليلوزي إلا في بعض النقاط تعرف بالوصلات البلازمية.

**النتيجة :** يؤدي خروج الماء من الفجوة العصارية إلى الوسط الخارجي إلى حدوث ظاهرة الإنكماش.

**الإستنتاج :** من خلال تفسير التجريبتين السابقتين نستنتج أن الماء ينتقل من الوسط الأقل تركيزاً إلى الوسط الأكثر تركيزاً، تعرف الظاهرة باسم **الحلول**.

**التفسير الفيزيائي لظاهرة الحلول**

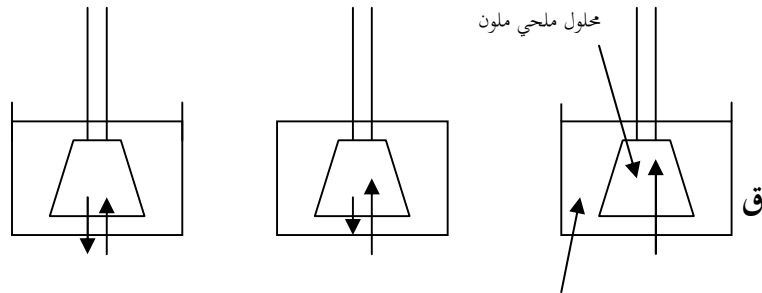
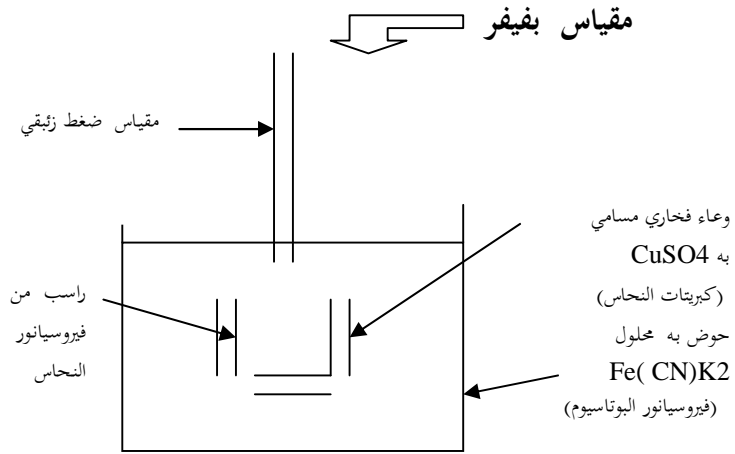
لفهم سبب انتقال الماء نستعرض تجربة فيفر : إستخدم بفيفر جهازاً يحتوي على غشاء خاص لايسمح إلا بمرور جزيئات الماء فقط ، يطلق على هذا الغشاء إسم الغشاء نصف النفوذ. حيث إستعمال وعاء فخاري مسامي يحوي محلولاً من كبريتات النحاس  $CuSO_4$ ، وغمره في حوض به محلول فيروسيانور البوتاسيوم  $Fe(CN)_2K_2$ ، فامتألت ثقوب الوعاء براسب من فيروسيانور النحاس  $Fe(Cn)Cu$  الذي يلعب دور غشاء نصف نفوذ. يوصل الجهاز بمقياس ضغط زئبقي وبملاً بمحلول ملحي مركز وملون، ثم يوضع في حوض به ماء مقطر. الشكل -٤-

**الملاحظة :** نشاهد صعود مستوى المحلول الملحي الذي يؤدي إلى ارتفاع مستوى عمود الزئبق.

**التفسير :**

بما أن الغشاء نصف النفوذ يسمح بمرور جزيئات الماء فقط، فإن جزيئات الماء تمرّ من الحوض إلى داخل الجهاز وذلك بسبب قوة الجذب التي يسببها المحلول المركز على الماء المقطر المنعدم التركيز، تدعى هذه القوة بقوة الضغط الحلوي ( ناتجة عن حركة جزيئات المادة المذابة في المذيب )

- نظريا تستمر ظاهرة الحلول دون توقف مهما انخفض تركيز المحلول.
- أما من الناحية العملية فالحلول يتوقف وهذا يعود إلى تشكيل قوة معاكسة لقوة الضغط الحلوي، تدعى قوة توازن السوائل (ناتجة عن زيادة في حجم المحلول).
- يطلق على الوسط الأكثر تركيزاً وسطاً زائداً التوتر، بينما يطلق على الوسط الأقل تركيزاً وسطاً ناقصاً التوتر.



ماء مقطر

ق: قوة الضغط الحلوي ، ق: قوة توازن السوائل **الشكل - ٤ -**

**النتيجة :** تتم حركة الماء وفقا لقانون الحلول، حيث أنها ظاهرة فيزيائية يتم فيها انتقال الماء من الوسط الناقص التوتر إلى الوسط الزائد التوتر، عبر غشاء طبيعي أو إصطناعي، وتنعدم مبادلات الماء في حالة في حالة تساوي التوتر على جانبي الغشاء.

**حساب الضغط الحلوي :**

يتضح لنا مما سبق أن حركة الماء تخضع إلى قوة جذب تدعى قوة الضغط الحلوي التي يمكن حسابها وفق قانون " فانث هوف " :  $\pi = c \cdot R \cdot T$  حيث:  
الضغط الحلوي، الوحدة ضغط جوي

ر: ثابت الغازات = ٠,٠٨٢

ن : التركيز المولي =  $\frac{M}{C}$  . - التركيز الكتلي غ/ل

- M : الوزن الجزيئي

د: درجة الحرارة المطلقة = ( ٢٧٣ + ع° )

ع° : درجة حرارة الوسط مقدرة بالدرجة المئوية.

هـ : عامل التشرذ.

ملاحظة:  $n \times h =$  التركيز الاسمولي

تطبيق :

وضعت كريات دم إنسان في محلول كلوريد الصوديوم بتركيز ٨,٨ غ/ل فبقيت محافظة على شكلها. وحجمها ولوئها في درجة حرارة ٣٧ م°، علماً أن: الوزن الجزيئي ل Na = ٢٣، و Cl = ٣٥,٥.

أ- أحسب الضغط الحلوي للكريات الدموية الحمراء.

ب - ماذا سيحدث لهذه الكريات عند وضعها في محلول كلور الصوديوم بتركيز ١٢ غ/ل وفي نفس الشروط؟

ج - إذا أردنا إعادة الكريات الحمراء إلى حجمها الطبيعي باستعمال محلول الغلوكوز حوضاً عن محلول كلور الصوديوم بتركيز ٨,٨ غ/ل. ما هو تركيز الغلوكوز بالغرام / لتر، الذي نستعمله؟ علماً أن الوزن الجزيئي. C = ١٢ = O و H = ١,٦.

ماذا تستنتج حول العلاقة القائمة بين الضغط الحلوي والتركيز الكتلي والكتلة الجزيئية؟

تصحيح التطبيق :

أ - حساب الضغط الحلوي للكريات : = . د. ن. هـ

$$٢ (٢٧٣ + ٣٧) (٨,٨ / ٥٨,٥) = ٠,٠٨٢ \quad \text{ض ج } ٧,٦٢ =$$

ب - لمعرفة حالة الكريات الحمراء، الموضوعة في محلول Na Cl بتركيز ١٢ غ/ل نحسب الضغط الحلوي لهذا المحلول :

$$٢ (٢٧٣ + ٣٧) (١٢ / ٥٨,٥) = ٠,٠٨٢ \quad \text{ض ج } ١٠,١٢ =$$

إن الضغط الحلوي لمحلول NaCl بتركيز ٨,٨ غ/ل، وبالتالي تكون كريات الدم الحمراء في حالة إنكماش.

ج - تركيز الغلوكوز ب غ/ل :

$$\begin{aligned} \text{لدينا } . \text{د.ن.ه. و ن} &= \frac{M}{C} = \text{ه.د.} \cdot \frac{M}{C} \\ ١ (٢٧٣ + ٣٧) \frac{C}{180} &= ٠,٠٨٢ \\ ٧,٦٢ &= ٠,٠٨٢ \frac{C}{180} \\ C &= \frac{762 \times 180}{0.082 \times 310 \times 1} \\ C &= ٥٣,٩٥ \text{ غ/ل} \end{aligned}$$

نستنتج من خلال تحليل هذه النتائج مايلي :

- يتناسب الضغط الحلوي طرديا مع التركيز الكتلي وعكسيا مع الكتلة الجزيئية للمادة المذابة.

الخلاصة: تقوم الخلايا الحية بمبادلات الماء مع وسطها الخارجي عبر الغشاء الهبيولي الذي له نفس دور الغشاء الإصطناعي النصف نفوذ.

### أسئلة التصحيح الذاتي

التمرين- ١ - احسب الضغط الحلوي في درجة حرارة ٢٠ م° للمحاليل التالية

- ١ - محلول كبريتات الصوديوم  $\text{Na}_2\text{SO}_4$  بتركيز ٢٣ غ/ل.
- ب - محلول الغلوكوز  $\text{C}_6\text{H}_{12}\text{O}_2$  تركيزه ٠,٦٨ مول/ل.
- ج - محلول الأسيتايد  $\text{CH}_3\text{CONH}_2$  تركيزه ٥٩ %
- د - محلول كلور الصوديوم  $\text{NaCl}$  بتركيز ١٥ % علما أن الأوزان الجزيئية

ل Na = ٢٣ ؛ و S = ٣٢ ؛ و O = ١٦

و C = ١٢ ؛ و N = ١٤ ؛ و H = ١

التمرين - II - تمثل الأشكال (أ، ب، ج) خلايا نباتية موضوعة في محاليل نترات البوتاسيوم المختلفة التركيز.

الشكل - أ -                      الشكل - ب -                      الشكل - ج -

الشكل - أ - : خلية نباتية موضوعة في محلول نترات البوتاسيوم ٢٥ غ/ل.

الشكل - ب - : خلية نباتية موضوعة في محلول نترات البوتاسيوم ٥٠ غ/ل.

الشكل - ج - : خلية نباتية موضوعة في ماء مقطر.

المطلوب : (١) - فسر مختلف الحالات الخلوية الملاحظة.

(٢) - احسب القيمة التقريبية للضغط الحلولي للعصارة الفجوية

للخلية في حالة إتران

ل - الصيغة الكيميائية انترات البوتاسيوم هي :  $KNO_3$  والأوزان الجزيئية

$$O = 16 ؛ N = 14 ؛ K = 39$$

III - لدينا أربعة أنابيب اختبار تحتوي على قطرتين من دم خروف ازج وقطرات

من أكزلات الأمونيوم لمنع التخثر، نظيف إلى كل أنبوب مايلي :

- الأنبوب الأول : ١٠سم<sup>٣</sup> من الماء المقطر.

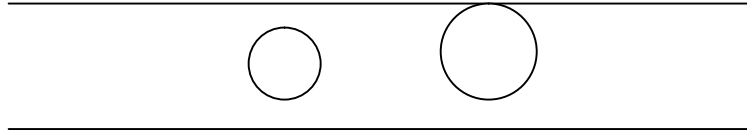
- الأنبوب الثاني : ١٠سم<sup>٣</sup> من محلول NaCl بتركيز ٥ غ/ل.

- الأنبوب الثالث : ١٠سم<sup>٣</sup> من محلول NaCl بتركيز ٨,٨ غ/ل.

- الأنبوب الرابع : ١٠سم<sup>٣</sup> من محلول NaCl بتركيز ١٣ غ/ل.

ثم نعرض الأنابيب لعملية الطرد المركزي الخفيف.

أظهر الفحص المجهرى لمحتوى راسب كل أنبوب الملاحظات التالية :



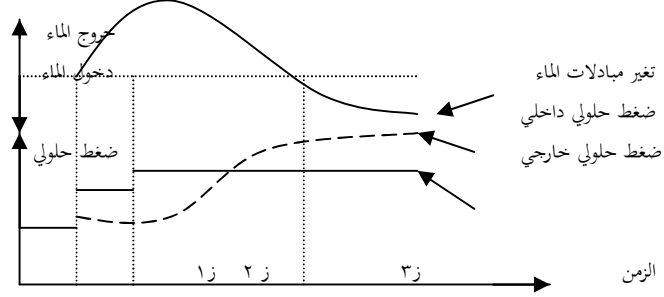
الانبوب: ١ ٢ ٣ ٤

( - انظافا من الملاحظات اجمهرية المبينة في الشحل، اشرح التغيرات التي طرأت على الكريات الدموية في كل أنبوب.

(٢ - قارن بين ظاهري الإنتجاج و الإنكماش في الكريات الدموية الحمراء، والخلايا النباتية لبشرة حشفة البصل التي مرت معنا في الدرس.

IV - نضع قطعة من بشرة بتلة في محلول متساوي التوتر مع المحتوى الخلوي، بعد دقائق نضيف إلى المحلول ( الوسط الخارجي ) مادة (س) لا تنفذ إلى داخل

الخلايا فيرتفع الضغط الحلوي للوسط الخارجي فنشاهد بداية انكماش الخلايا. نضيف بعد ذلك للوسط مادة (ع) تنفذ إلى داخل الخلايا. كما هو موضح في المنحنيات الموالية:



(١) وضح برسومات تخطيطية مظهر الخلايا البشرية عند الفواصل الزمنية

ز١ ، ز٢ ، ز٣ .

(٢) - انطلاقاً من تفسير المنحنى السابق ، إشرح الحوادث الملاحظة.

التمرين -٤- لدينا متعدد الببتيد التالي :





- ١- من كم حمض أميني يتركب؟
- ٣- أعد كتابة صيغ الاحماض الامينية المكونة له قبل إرتباطها مع بعضها البعض
- ٤- ما هو نوع المحلول الذي يعطيه هذا المتعدد الببتيدي مع الماء؟
- ٥- ما هي خواص المحلول الناتج بإختصار؟







### جواب التمرين الرابع

١- إن عدم تغير مستوى المحلول في المقياس يدل على عدم تبادل الماء بين

الوسطين ما يدل على أنهما متساويان في الضغط الحلوي

أي

٢- من العلاقة السابقة نستخرج ما يلي:



## أجوبة التصحيح الذاتي

١ I - حساب الضغط الحلو لمحلول كبريتات الصوديوم بتركيز ٢٣ غ/ل. لدينا :

$$= \text{د. د.} \frac{M}{C} \text{ ه.}$$

$$= \text{ثابت الغازات} = ٠,٠٨٢$$

$$C: \text{التركيز الكتلي غ/ل} = ٢٣$$

$$M: \text{الكتلة الجزيئية} = ١٤٢$$

$$D: \text{درجة الحرارة بالكالفن} = ٢٧٣ + ٢٠^\circ$$

$$\text{ه: عامل التشرّد} = ٣$$

$$\text{وعليه: } (٣) (٢٠ + ٢٧٣) (٢٣/١٤٢) (٠,٠٨٢) =$$

$$= (٣) (٢٩٣) (٠,١٦) (٠,٠٨٢) =$$

$$= \text{ض.ج.} ١١,٦٧$$

(ب) حساب الضغط الحلوي لمحلول الغلوكوز، تركيزه ٠,٦٨ مول/ل

$$(١) (٢٩٣) (٠,٦٨) (٠,٠٨٢) =$$

$$= \text{ض.ج } ١٦,٣٣$$

ج - حساب الضغط الحلوي لمحلول الأسيتاميد تركيزه ٥٩ %

$$(١) (٢٩٣) (٥٩٠/٥٩) (٠,٠٨٢) =$$

$$(١) (٢٩٣) (١٠) (٠,٠٨٢) =$$

$$= \text{ض.ج } ٢٤٠,٢٦$$

ذ - حساب الضغط الحلوي لمحلول كلور الصوديوم بتركيز ١٥ %

$$(٢) (٢٩٣) (١٥/٥٨,٥) (٠,٠٨٢) = (٢) (٢٩٣) (٠,٢٥)$$

$$= (٠,٠٨٢)$$

$$= \text{ض.ج } ١٢,٣٢$$

II (١) - تفسير مختلف الحالات الخلوية الملاحظة :

الشكل - ١ - : الخلية في حالة اتزان وذلك لتساوي التركيز بين الوسط الداخلي للخلية وتركيز المحلول الخارجي.

الشكل - ب - : الخلية في حالة انكماش الوسط الخارجي زائد التوتر، مما أدى إلى حدوث حلول خارجي

الشكل - ج - : الخلية في حالة انتباج، الوسط الداخلي زائد التوتر مما أدى إلى حدوث حلول داخلي.

(٢) - حساب الضغط الحلوي للعصارة الفجوية في حالة الإيزان.

$$(٢) (٢٩٥) (٢٥/١٠١) (٠,٠٨٢) = \text{ض.ج } ١١,٨٩$$



III الأنبوب الأول : تظهر الكريات مكونة من بقايا خلوية تدل على انفجارها ويعود ذلك للإنتباج التشديد الناتج عن دخول كمية كبيرة من الماء. لأنبوب الثاني : تبدو الكريات ذات حجم كبير لاكتسابها كمية من الماء أدت إلى زيادة في حجمها دون انفجارها فهي منتبجة. الأنبوب الثالث : تبدو الكريات الدموية ذات أحجام طبيعية مما يدل على أن الكريات لم تكتسب ولم تفقد الماء فهي حالة اتزان، فالوسط الداخلي للكريات والوسط الخارجي متساويان في التوتر. الأنبوب الرابع : تظهر الكريات صغيرة الحجم ذات اشكال نجمية يعود ذلك إلى فقدانها للكاء، فهي في حالة انكماش فالوسط الخارجي زائد التوتر بالنسبة للوسط الداخلي للكريات. المقارنة :

الظاهرة نوع الخلية	الكريات الدموية	خلايا حرشفة البصل
الإنتباج	ينتهي الإنتباج الشديد بانفجار الكريات الدموية	الإنتباج محدود بالضغط الذي يحدثه الجدار الهيكلي
الإنكماش	تقلص الحجم الخلوي	تقلص في الحجم الفجوي وابتعاد الغشاء الهيوولي عن الجدار الهيلي إلا في بعض النقاط.

IV (١) مظهر الخلايا عند الأزمنة ز<sub>١</sub> ، ز<sub>٢</sub> ، ز<sub>٣</sub>

(٢) شرح الحوادث :

- اللحظة ز<sub>١</sub> : الخلايا موضوعة في محلول متساوي التوتر أي أن الضغط الحلوي الداخلي يساوي الضغط الحلوي الخارجي. فحركة الماء معدومة والخلايا تظهر في حالة اتزان.

- اللحظة ز<sub>٢</sub> : إضافة المادة (س) رفع الضغط الحلوي الخارجي، فخرج الماء من الخلايا بواسطة الحلول الخارجي فأدلا إلى بداية إنكماش الخلايا.

- اللحظة ز<sub>٣</sub> : إضافة المادة (ع) إلى الوسط يسبب ارتفاعاً جديداً في الضغط الحلوي الخارجي، مما أدى إلى زيادة في خروج الماء من الخلايا لكن عند اللحظة ز<sub>٣</sub> ، دخول المادة (ع) إلى الخلايا عمل على خفض الضغط الحلوي الخارجي ورفع الضغط الحلوي الداخلي الذي أدى إلى عودة دخول الماء إلى الخلية من جديد.

الخلية في (ز١) حالة إتزان

( الخلية في(ز٣) حالة إنكماش

الخلية في (ز٢)بداية إنكماش أنظر الشكل المقابل

#### جواب التمرين الرابع

١- إن عدم تغير مستوى المحلول في المقياس يدل على عدم تبادل الماء بين

الوسطين ما يدل على أنهما متساويان في الضغط الحلوي

أي

٢- من العلاقة السابقة نستخرج ما يلي:

## مبادلات المواد المنحلة

### الهدف من الدرس :

- إظهار نفاذية الخلية للمواد المنحلة.
- التعرف على خواص النفاذية الخلوية.
- التعرف على الطرق الفيزيائية والحيوية لنفاذية بعض المواد المنحلة.

المدة اللازمة للدرس : ٠٧ ساعات.

الوسائل اللازمة للدرس : بصل بنفسجي أو الملفوف الأحمر محلول خلات الألمنيوم بتركيز ٤ % ، الأحمر المعتدل المخفف، محلول سكر القصب ١٥ %،

محلول الفورماميد ٢,٥ مول/ل، محلول الأسيتاميد ٢,٥ مول/ل، محلول كبريتات النحاس، مجاهر صفائح زجاجية، ستائر، جهاز الميز، ملقط.

المراجع الخاصة بالدرس : كتاب العلوم الطبيعية السنة الثالثة ثانوي

تصميم الدرس:

-تمهيد.

- الإظهار التجريبي لمبادلات المواد المنحلة.

- خواص النفاذية الخلوية.

- التفسير الفيزيائي لانتقال بعض المواد.

- التفسير الحيوي لانتقال بعض المواد.

- أسئلة التصحيح الذاتي.

- أجوبة التصحيح الذاتي

-تمهيد :

لاحظنا في الدرس السابق أن الخلية نفوذة للماء، فإذا كانت نفاذية

الخلية للماء تتم عن طريق الحلول، فكيف تتم مبادلات المواد المنحلة، بين الخلية

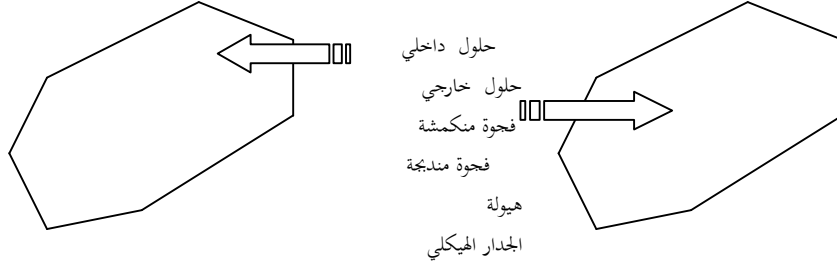
ووسطها الخارجي؟ للإجابة على هذا التساؤل نقوم بإنجاز التجارب التالية :

٢-الإظهار التجريبي لمبادلات المواد المنحلة :

التجربة: نضع قطعة صغيرة من البشرة الخارجية لحرشفة البصل أو بشرة الملفوف

الأحمر على صفيحة زجاجية ضمن قطرة من محلول خلات النشادر بتركيز ٤%،

نغطي القطعة بساترة ثم نفحص بالمجهر.



البداية: إنكماش  
النهاية: إندباج  
( زوال الإنكماش )

خلية بشرة الملفوف الأحمر في محلول خلات النشادر (٤%)  
**الملاحظة:** نلاحظ في البداية حدوث إنكماش في الخلايا، واشتداد لونها، ومع استمرار الملاحظة المجهرية للخلايا نلاحظ زوال الإنكماش وتغير لون الفجوة إلى اللون الفاتح. شكل - ١ -

**التفسير:** في البداية يعود انكماش الخلايا إلى الوسط الخارجي (محلول خلات النشادر) عن طريق الحلول الخارجي.  
بينما يفسر زوال إنكماش الخلايا وتغير لون فجواتها إلى دخول الماء إليها عن طريق الحلول الداخلي الناتج عن دخول خلات النشادر إلى الخلايا.  
**النتيجة:** الخلية نفوذة للمواد المنحلة.  
**٣- خواص النفاذية الخلوية:**

تتحكم الخلية الحية في نفاذية مواد عديدة منحلّة في الماء بسرعات مختلفة في حين تمنع نفاذية بعض المواد الأخرى، و المتعرف على ذلك نقوم بدراسة مظاهر النفاذية الخلوية التالية :

### ١ - النفاذية الموجهة :

التجربة : ننجز التجربة على ثلاث مراحل.

\***المرحلة الأولى** : نضع قطعة من البشرة الداخلية لحرشفة البصل في زجاجة ساعة بما محلول الأحمر المعتدل بتركيز ٠,٠٥ % ( التركيز ٠,٠٥ % للأحمر المعتدل يسمح بإبقاء الخلايا حية، فهو ملون حيوي ). شكل ٢ أ. ثم نقوم بالفحص المجهرى.

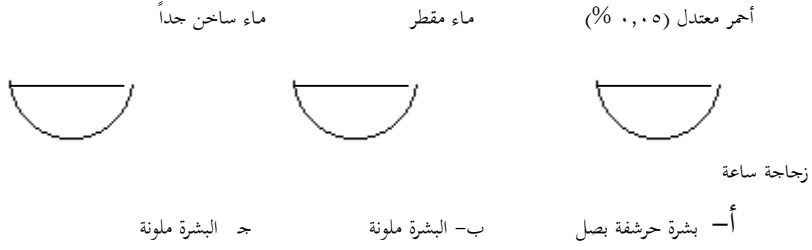
**الملاحظة** : تلون الفجوة العصارية باللون الأحمر مما يدل على دخول الأحمر المعتدل إلى داخل الخلية.

\***المرحلة الثانية** : نأخذ القطعة السابقة نضعها في زجاجة ساعة تحتوي على الماء المقطر (التركيز صفر) وبعد نصف ساعة من الزمن نفحص القطعة من جديد بالمجهر: شكل ٢ -ب-

**الملاحظة** : تظهر فجوات الخلايا ملونة دوماً باللون الأحمر مما يدل على عدم خروج الأحمر المعتدل إلى الوسط الخارجي (محلول سكر قصب).

\***المرحلة الثالثة** : نضع قطعة من بشرة حرشفة البصل ملونة في زجاجة ساعة تحتوي على ماء ساخن جداً وذلك لبضعة دقائق. شكل ٢ -ج

**الملاحظة** : نلاحظ تلون الماء باللون الوردي مما يدل على خروج قسم من الأحمر المعتدل إلى الوسط الخارجي ( الماء الساخن ).



## الشكل -٢-

**التفسير :** يعود تلون الماء باللون الوردي إلى قتل الخلية بفعل الحرارة وخروج قسم من الأحمر المعتدل إلى الوسط الخارجي نتيجة فقد الغشاء الخلوي لحيويته.

**النتيجة :** نستنتج من تجارب السابقة، أن الأحمر المعتدل ينفذ بسرعة إلى داخل الفجوة العصارية، ولا يسمح له بالخروج، يطلق على هذه النفاذية الخلوية إسم **النفاذية الموجهة**. ينجم عنها تكديساً للأحمر المعتدل فتدعى هذه بخاصية **التجميع**.

### ب - النفاذية التفاضلية :

**تجربة :** نضع ثلاث قطع من البشرة الخارجية لحرشفة البصل، ملونة طبيعياً (صبغة انتوسانية) في محلول سكر القصب بتركيز ٢٠% ثم نفحص القطعة الأولى بالمجهر.

**الملاحظة :** نلاحظ انكماش الخلايا.

- نضع القطعة الثانية في محلول الفورماميد  $\text{HCONH}_2$  بتركيز ٢,٥ مول/ل ونضع القطعة الثالثة في محلول الأسيتاميد  $\text{CH}_3\text{CONH}_2$  بتركيز ٢,٥ مول/ل. نحدد زمن نقل القطعتين إلى المحلولين ثم نفحص بالمجهر.

**الملاحظة :** نلاحظ زوال إنكماش الخلايا تدريجياً في القطعتين الثانية والثالثة إلا أن سرعة زوال إنكماش الخلايا الموضوعة في الفورماميد أكبر من سرعة زوال إنكماش الخلايا الموضوعة في الإسيتاميد.

**التفسير :** يعود زوال الإنكماش إلى دخول كل من مادة الفورماميد و الأسيتاميد غير أن سرعة دخول الفورماميد تكون أكبر وذلك لأن وزنه الجزيئي (٤٥) وهو أقل وزن الأسيتاميد المقدر ب (٥٩).

**النتيجة :** تنفذ المواد المذابة ذات الجزيئات الصغيرة قبل ذات الجزيئات الكبيرة. يعرف هذا باسم **النفاذية التفاضلية**.

### ج - النفاذية الاختيارية :

تمتص الخلايا الحية بعض المواد المنحلة، دون مواد أخرى، و يتضح هذا جلياً في الأوبار الماصة الحية.

**لتجربة :** عند غمر جذور حبوب القمح المنتشة في محلول طرطرات النشادر المعتدلة، وأخرى في كحول النشادر، فالجذور المغمورة في محلول طرطرات النشادر المعتدلة، تمتص شوارد  $\text{NH}_4^+$  وشوارد الطرطرات بينما لا تمتص الجذور المغمورة في محلول كلور النشادر سوى شوارد  $\text{NH}_4^+$ . نفهم من هنا وجود انتخاب أو اختيار للعناصر الممتصة. تدعى الظاهرة ب**النفاذية الاختيارية**، وهي عملية حيوية تتطلب طاقة



**النتيجة:** تقوم الخلية بنشاط حيوي يكون مصحوبا باستهلاك طاقة لا دخال بعض المواد دون أخرى.

#### ٤- آلية مبادلات المواد المنحلة :

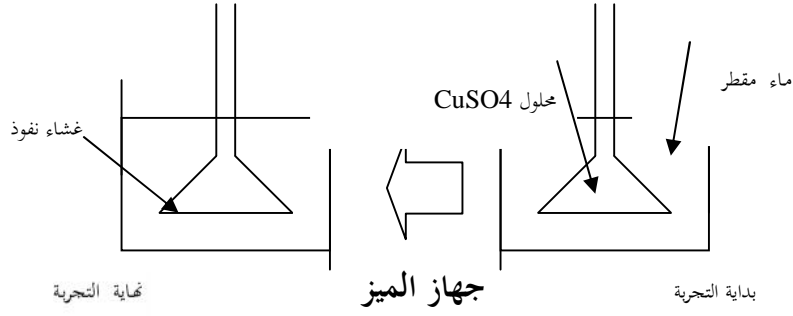
تتم مبادلات المواد المنحلة عبر الأغشية عن طريق ظواهر فيزيائية وحيوية.

#### ١ - التفسير الفيزيائي لانتقال بعض المواد :

تنتقل بعض المواد المنحلة عبر الأغشية عن طريق ظواهر فيزيائية.

**الميز :**

نحضر أنبوبا قمعيا أغلقت فوهته العريضة بعشاء نفوذ، نضع فيه محلول ملحي مركز من كبريتات النحاس (ذو لون الأزرق) ثم نغمر الأنبوب في حوض به ماء مقطر كما هو موضح في الشكل -٣-.



**الملاحظة:** نلاحظ بعد فترة من الزمن تلون ماء الحوض باللون الأزرقا

**التفسير :**

يعود تلون ماء الحوض إلى مرور كبريتات النحاس من الأنبوب القمعي إلى الحوض عبر الغشاء النفوذ و يستمر هذا الإنتقال حتى يتساوى تركيز المادة المذابة في الوسطين.

**النتيجة:** تنتقل بعض المواد المذابة من الوسط الأكثر تركيزا إلى الوسط الأقل تركيزا. أي حسب تدرج التركيز . تعرف هذه الظاهرة باسم **المميز**.

- يتضح لنا مما سبق أنّ تبدل لون الفجوات التي شاهدناها تدل على أن خلايا النشادر تعبر الجدار الهيكلي والغشاء الهولي والهولي وتنتشر في الفجوة العصارية، من الوسط ذي التركيز المرتفع نحو الوسط ذي التركيز المنخفض. إذن قابلية نفوذ الخلية في هذه الحالة يخضع إلى قانون المميز. يعرف هذا النقل بالنقل غير الفعال فهو لا يتطلب طاقة وتتحكم فيه عدة عوامل منها :

**-حجم الجزيئات :** تتناسب سرعة الانتقال عكسيا مع حجم الجزيئات فكلما كانت الجزيئات أصغر كلما انتقلت بسرعة أكبر.

**-تدرج التركيز :** إن سرعة مرور الجزيئات عبر الغشاء النفوذ تتناسب طرديا مع فارق التركيز لهذه الجزيئات على جانبي الغشاء.

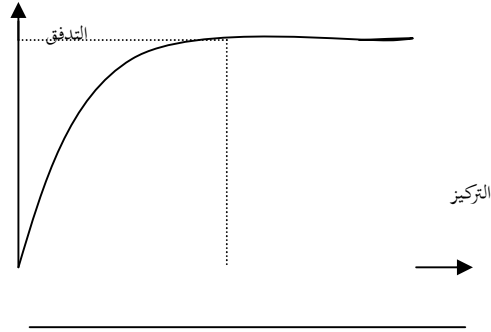
**ب - التفسير الحيوي لإنتقال بعض المواد :**

**١ - الإنتشار المسهل:** ثهل يخضع دوما نقل المواد المذابة من الوسط الأكثر تركيزا إلى الوسط الأقل تركيزا إلى ظاهرة المميز ؟

للإجابة على هذا التساؤل نعرض التجربة التالية :

توضع كريات دموية حمراء مستخلصة من دم إنسان في محلول Dغلوكوز مشع ويحافظ على تركيز المحلول بحيث يبقى دوما أكبر من تركيز الكريات الدموية

الحمراء. ثم نقيست كمية الاشعاع التي تدخل الى الكريات الحمراء في الوحدة الزمنية و بالنسبة لكل تركيز من الغلوكوز و قد ترجمت النتائج الى المنحنى التالي:



#### تفسير المنحنى :

إن سرعة دخول D غلوكوز المشع إلى داخل الكريات الحمراء يتناسب طردياً مع تركيزه في الوسط الخارجي إلى أن تصل سرعة التدفق إلى القيمة (ن) عندها تثبت سرعة دخول D غلوكوز إلى الكريات مهما زاد تركيز هذا الأخير في الوسط الخارجي، مما يدل على أن نقل D غلوكوز يتم بواسطة نواقل غشائية نوعية من طبيعة بروتينية تعرف بالبرمياز و تفسر زيادة سرعة التدفق، بزيادة عدد النواقل المتدخلة وعند النقطة (ن) تثبت سرعة التدفق وهو ما يدل على تشغيل جميع النواقل، تعرف هذه الظاهرة بـ **بالإنتشار المسهل**.

**٢- النقل الفعال :**

من المعروف أن توزع شاردتي الصوديوم  $Na^+$  و البروتاسيوم  $Ka^+$  غير متساوٍ على جانبي الغشاء الهوليول خلوية حية. ولتوضيح ذلك نعرض التجربة التالية :

**التجربة:** في شروط التجريبية النظامية والمتمثلة في درجة الحرارة  $37^{\circ}C$  وكمية سكر عنب في المصورة (البلازما) تعادل ١ غ/ل، نقوم بوضع كريات دموية حمراء في المصورة والتي تحتوي على صوديوم مشع  $Na^*$  ونترك التجربة لمدة زمنية، ثم نقوم بنقلها إلى مصورة طبيعية بها صوديوم  $Na^+$  عادي.

**الملاحظة :**

يتناقص  $Na^*$  المشع في الكريات الدموية تدريجياً ويظهر هذا الإشعاع في المصورة. **التفسير:** تنتقل شوارد  $Na$  من الوسط الداخلي (كريات الدموية) إلى الوسط الخارجي (المصورة).

- إن معايرة نسبة تركيز شوارد الصوديوم داخل الكرية الدموية الحمراء ونسبتها في المصورة وهذا في الشروط النظامية السابقة أعطت النتائج التالية :

الكريات الدموية الحمراء : ١٥ وحدة ، المصورة: ١٤٥ وحدة

**النتيجة :** أن انتقال شوارد  $Na^+$  تتم عكس تدرج التركيز أي من أقل تركيز إلى أعلى تركيز (عكس قانون الميز)

-السؤال المطروح.

كيف تفسر آلية هذا النوع من النقل؟ للإجابة على هذا التساؤل نعرض التجارب التالية :

**التجربة الأولى:** نضع كريات دموية حمراء في مصورة درجة حرارتها  $37^{\circ}\text{C}$  وخالية من الغلوكوز أي تركيزه صفر غ/ل. وبعد مرور مدة من الزمن نقيس نسبة شوارد  $\text{Na}^+$  داخل الكرية وفي المصورة.

**الملاحظة:** وجود توازن في توزع شوارد  $\text{Na}^+$  بين الكريات الدموية والمصورة.

### التفسير

توقف انتقال شوارد  $\text{Na}^+$  من الكريات الدموية الحمراء إلى المصورة وبالتالي أصبحت العملية خاضعة لقانون الميز أي في اتجاه تدرج التركيز وهذا في غياب مصدر للطاقة مثل الغلوكوز.

**النتيجة:** تتطلب عملية انتقال شوارد  $\text{Na}^+$  من الكريات الدموية الحمراء (أقل تركيزاً) إلى المصورة (أكثر تركيزاً) توفر مصدراً للطاقة مثل الغلوكوز.

**التجربة الثانية:** نعيد التجربة السابقة بوضع الكريات الدموية الحمراء في بلازما بها غلوكوز بتركيز ١ غ/ل وفي درجة حرارة  $2^{\circ}\text{C}$ . وبعد مرور مدة زمنية نقيس نسبة شوارد  $\text{Na}^+$  داخل الكريات الحمراء وفي البلازما.

**الملاحظة:** وجود توازن في توزع شوارد  $\text{Na}^+$  بين الكريات الحمراء والبلازما.

### التفسير:

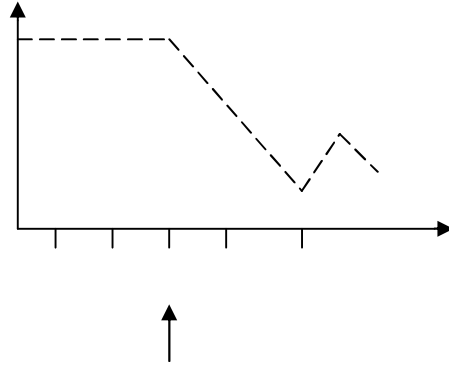
الكريات الدموية الحمراء أصبحت غير قادرة على طرح شوارد  $\text{Na}^+$  إلى البلازما وبالتالي أصبحت العملية خاضعة لقانون الميز، أي أن عملية طرح  $\text{Na}^+$  تتوقف في درجات الحرارة المنخفضة مما يدلّ على وجود نواقل غشائية متخصصة من طبيعة بروتينية (إنزيمات غشائية) حساسة للحرارة.

**التجربة الثالثة:** نعيد التجربة السابقة في الشروط النظامية مع إضافة مادة فلورور الصوديوم ( $\text{NaF}$ ) التي تثبط تركيب ATP وهذا في الدقيقة الثالثة ثمّ نضيف مادة



ال ATP في الدقيقة الخامسة والنتائج المحصل عليها ملخصة في المنحنى البياني التالي

:



تحليل المنحنى:

- من ز. - ٣ نلاحظ تدفق ( خروج ) كبير ومعتبر وثابت لشوارد  $\text{Na}^+$  وفي اللحظة ٣، عند إضافة مادة ( NaF ) نلاحظ انخفاض سريع في تدفق شوارد  $\text{Na}^+$  ، وفي اللحظة ٤ عند إضافة مادة ال ATP نلاحظ عودة تدفق شوارد  $\text{Na}^+$  ثم ينخفض التدفق من جديد بعد نفاذ كمية ال ATP، مما يدل على أن نقل  $\text{Na}^+$  من الكريات الحمراء إلى البلازما في اتجاه عكس تدرج التركيز يتطلب استعمال طاقة ATP لذا يدعى هذا النقل بالنقل الفعال.

الخلاصة :

يتمثل النقل الفعال في انتقال الشوارد في اتجاه عكس التدرج التركيز، ويتطلب تدخل انزيمات غشائية واستهلاك طاقة على شكل ATP.

### أسئلة التصحيح الذاتي :

(I) - أذكر بعض طرق انتقال المواد المذابة عبر الغشاء الهولي للخلية الحية.

(II) - قارن بين الميز و الإنتشار المسهل.

(III) - عند وضع ملونات متنوعة في أحواض مملوءة بالماء. نلاحظ تلون الحواض بسرعات مختلفة. كيف تفسر ذلك؟

(VI) - لغرض دراسة بعض مظاهر الخلية أجرينا التجربة التالية : وضعنا ثلاث قطع من بشرة خلية بتلة في ثلاث محاليل مائية مختلفة، تحتوي على التوالي المواد : س ، ص ، ع. تحت ظروف تجريبية واحدة ودرجة حرارة ثابتة نقيس الحجم الفجوي بالنسبة إلى الحجم الخلوي كل ١٠ دقائق. النتائج المحصل عليها مدونة في الجدول التالي :

نسبة الحجم الفجوي الزمن:د إلى الحجم الخلوي	د	١٠	٢٠	٣٠	٤٠	٥٠
المحلول س	%٥٠	%٦٠	%٦٠	%٦٠	%٦٠	٦٠ %
المحلول ص	%٥٠	%٣٥	%٢٠	%٤٠	%٥٠	٥٠ %
المحلول ع	%٥٠	%١٠	%١٠	%١٠	%١٠	١٠ %

١ - ماهي الظواهر الخلوية التي ترغب في دراستها؟



- ٢ - لماذا اخترنا خلايا بتلية ؟
- ٣ - ارسم المنحنيات التي تمثل الحجم الفجوي بالنسبة إلى الحجم الخلوي بدلالة الزمن. علق على هذه المنحنيات وقارنهما.
- ٤ - ماذا يمكنك قوله عن المواد ( س ، ص ، ع ) بالنسبة لتركيزها؟
- ٥ - مانوع النفاذية الخلوية التي تم إظهارها في هذه التجربة ؟ فسر ذلك ؟
- (٧) - وضعت وبرة ماصو بين صفيحة وساترة، ضمن قطرة من محلول أزرق الكريزول ( ملون حيوي ).
- عند فحصها بالمجهر الضوئي نلاحظ
- تلون الجزء المركزي من الخلية بسرعة
- وبشدة بالأزرق. انظر الشكل - ١ - .
- بينما يبقى الوسط الخارجي
- بلون أزرق خفيف.
- غسل الخلية السابقة بالماء المقطر ثم نعيد فحصها بالمجهر.
- نلاحظ عدم تغيرها ( أي يبقى الجزء المركزي شديد الأزرق).
- ١ - أعد الرسم بدقة. وضع عليه البيانات الضرورية. أعط عنوانا مناسباً للرسم.
- ب - اعتماداً على المعلومات المعطاة، مانوع النفاذية الخلوية التي تم إظهارها ؟

أجوبة التصحيح الذاتي :

(I) تنتقل بعض المواد المذابة عبر الغشاء الهولي للخلية بظواهر فيزيائية بحتة كالميز، بينما يتطلب انتقال بعض المواد الأخرى تدخل حيوية الخلية واستهلاك طاقة كالإنتشار السهل و النقل الفعال.

(II) - الميز : يتمثل في انتقال جزيئات المذاب من الوسط الأكثر تركيزاً إلى الوسط الأقل تركيزاً ( ظاهرة فيزيائية ).

- الإنتشار المسهل : يشبه الميز و لا يختلف عنه إلا بوجود نواقل نوعية مساعدة ومسرعة في العملية، يدعى بالإنتشار المسهل ( ظاهرة حيوية ).

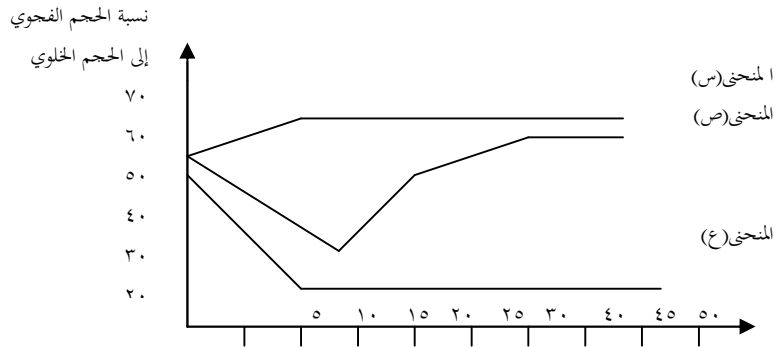
(III) يرجع اختلاف سرعة تلون الأحواض إلى حجم الجزيئات الملونة فكلما كانت الجزيئات الملونة أصغر كلما كانت سرعة الإنتشار أكبر.

(IV) (١) - الظواهر الخلوية المرغوب دراستها : المبادلات الخلوية.

(٢) - اخترنا خلايا بتلية لأن فجواتها ملونة طبيعياً بالأصبغة

الإنتوسياتية وهذا يسهل علينا تتبع التغيرات التي تطرأ عليها.

رسم المنحنيات:



تحليل المنحنيات السابقة:

منحنى محلول المادة (س) : يُظهر هذا المنحنى زيادة في الحجم الفجوي حتى القيمة ٦٠% ، ثبات الحجم عند هذه القيمة رغم الزيادة في التراكيز.

- منحنى محلول المادة (ص) : يمكن تقسيم هذا المنحنى إلى قسمين.  
القسم الأول وفيه قل الحجم الفجوي مما يبين أن تركيز هذه الأوساط أكبر من تركيز الخلية.

أما القسم الثاني ظهر عودة الخلية إلى وضعها الابتدائي أي أنها استعادت الحجم الأول نتيجة تعادلها مع الوسط الخارجي ونفسر ذلك بأن الغشاء الخلوي يسمح لجزيئات المادة (ص) بالدخول إلى الخلية.

- منحنى محلول المادة (ع) : يظهر هذا المنحنى نقصاً شديداً في الحجم الفجوي وثباته عند القيمة ١٠% مما يدل على أن الغشاء الهولي لم يسمح لجزيئات المادة (ع) بالنفاذية.

٤ - مما سبق يمكن أن نستنتج :

- محلول المادة (س) ذو تركيز أقل من الوسط الداخلي.

- محلول المادتين (ص) و (ع) لهما تركيز أكبر من الوسط الداخلي.

٥ - على ضوء النتائج المحصل عليها من تحليل المنحنيات، تبين أن الغشاء الهولي يوجه وينظم المبادلات الخلوية.

- الغشاء الهولي يسمح بنفاذية جزيئات المادة (ص) ولم يسمح بنفاذية جزيئات المادة (ع) أي اننا في حالة نفاذية إختيارية

(٧) ١ - بيانات الشكل - ١ -

١ - جدار هيكلي

٢ - هيولى.

٣ - نواة.

٤ - فجوة عصارية.

- العنوان : خلية وبرية في حالة إنتاج.

ب - النفاذية التي تم إظهارها هنا هي النفاذية الموجهة إذ قامت الخلية بخاصية التجميع، حيث أدخلت أزرق الكريزول ولم تسمح له بالخروج، مما يؤكد تدخل حيوية الغشاء الهيولي.

مقارالمبادلات الخلوية وطرق إنتقال المواد

الهدف من الدرس :

- التعرف على بنية الغشاء الهيولي والأغشية الداخلية للخلية.
  - التعرف على طرق نقل المواد عبر الغشاء الخلوي.
  - اظهار العلاقة الوظيفية والبنوية بين الشبكة الفعالة وجهاز كولجي و الجسيمات المحللة
- المدة اللازمة للدرس : ٠٥ ساعات.

### الوسائل اللازمة للدرس

- وثائق توضح بنية الغشاء الهيولي بالمجهر الإلكتروني،
  - وثائق وصور للشبكة الفعالة، جهاز كولجي والجسيمات المحللة.
  - وثائق وصور توضح طرق نقل المواد عبر الغشاء الهيولي.
- المراجع الخاصة بالدرس : كتاب العلوم الطبيعية السنة الثالثة ثانوي

### تصميمُ الدرس

-تمهيد.

- بنية الغشاء الهيولي.
- طرق انتقال المواد عبر الغشاء الهيولي.
- الأنظمة الغشائية الداخلية.
- أسئلة التصحيح الذاتي.
- أجوبة التصحيح الذاتي.

تمهيد :

عرفنا من خلال دروسنا السابقة أن الخلية تقوم بمبادلات مع الوسط المحيط بها، وان الغشاء الهولي هو المقر الحقيقي لجميع المبادلات التي تنتقل من الوسط الخارجي إلى داخل الخلية و العكس. والآن علينا أن نتعرف على بنية هذا الغشاء وطرق انتقال المواد عبره.

### بنية الغشاء الهولي :

هو غشاء رفيع جداً تصعب رؤيته بوضوح بالمجهر الضوئي أما بالمجهر الإلكتروني فإنه يبدو مكوناً من ثلاث وريقات . وريقتان عاتمتان يبلغ سمك كل منهما حوالي ٢٠ انغستروم ووريقة نيرة وسطية يبلغ سمكها حوالي ٣٥ انغستروم .  
انظر الشكل - ١ - .

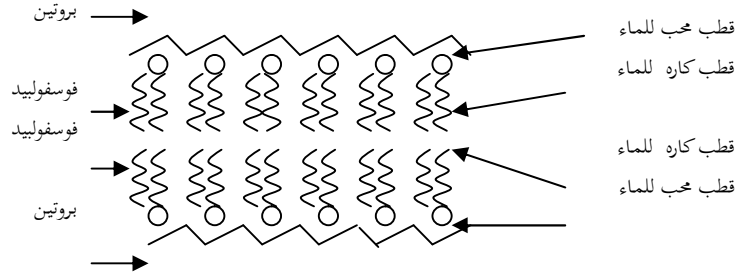
### الشكل - ١ -

ولتفسير هذه البنية فقد اقترحت عدة فرضيات نذكر منها :

### نموذج دانيالي و داوسن سنة ١٩٣٦ م :

يفترض هذا النموذج أن الغشاء الهولي مكون من طبقتين من الدسم الفوسفورية، تتوضع الأقطاب الكارهة للماء نحو الداخل والأقطاب المحبة للماء

نحو السطح الخارجي للخلية. تحاط الطبقة المضاعفة (الفوسفوليبيدية) بطبقتين بروتينيتين خارجية و داخلية انظر الشكل -٢- .



نموذج سنجر و ينكولسن سنة ١٩٧٣ م :

يقترح هذا النموذج أن الغشاء الهيولي مكون من طبقتين من الدسم الفوسفورية تتخللهما بروتينات كروية بأحجام مختلفة، وأوضاع متباينة وفي حركية دائمة، فيطلق على هذا النموذج الفسيفسائي المائع.

بروتين خارجي      جذور سكرية      بروتينات سكرية

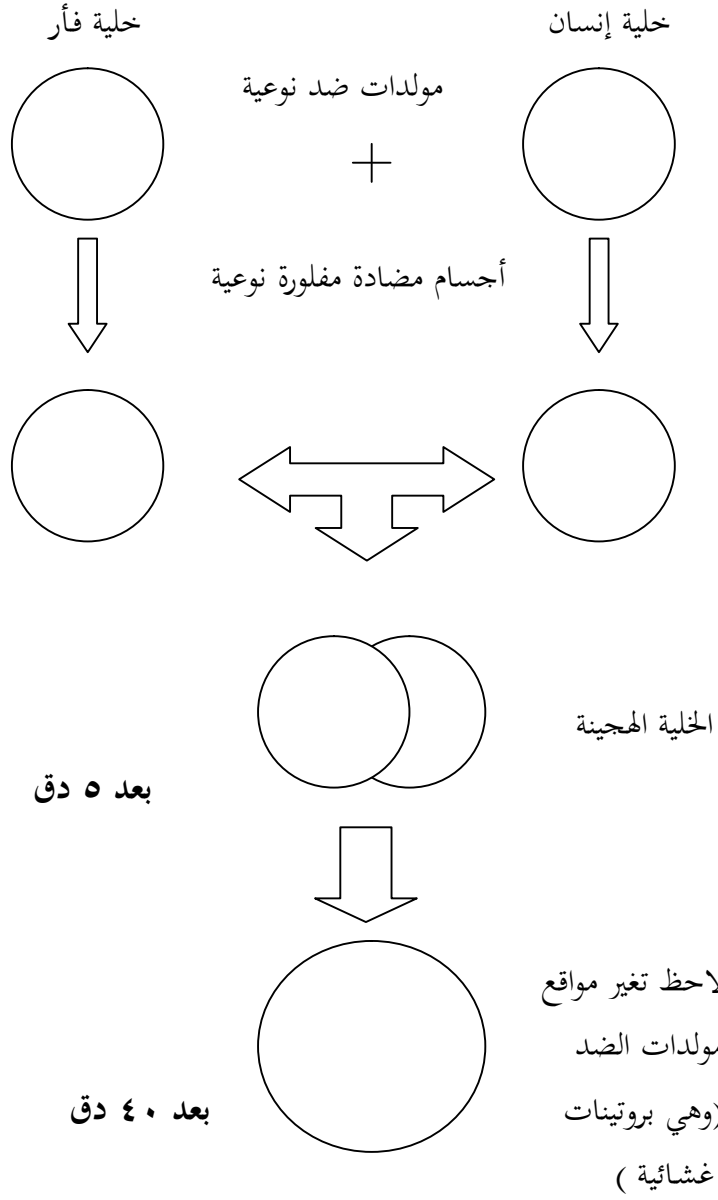
كوليستيرول      فوسفوليبيد      بروتين ضمني  
نموذج سنجر و نيكولسن: الفسيفسائي المائع

بمقارنة النموذجين فيما يخص نفاذية الماء، فإن نموذج دانيالي وداوسن الذي يقترح استمرارية الطبقة الدسمة التي تحتوي على أقطاب كارهة للماء، لا يفسر نفاذية الماء عبر هذا الغشاء وعليه يكون هذا النموذج غير مقبول. بينما نموذج سنجر ونيكولسن الذي يقترح عدم استمرارية الطبقة الفوسفوليبيدية التي تتخلها جزيئات بروتينية يسمح بنفاذية الماء عبر هذه البروتينات المحبة للماء أو عبر الفراغات فيما بينها وتجربة التهجين الخلوي الموالية تثبت فرضية الفسيفسائي المائع :

#### التجربة :

نحضر خلية إنسان وخلية فأر، يتميز غشاء كل خلية بروتينات غشائية نوعية (مولدات ضد) يمكن تأثير (وسم) هذه البروتينات بإضافة أجسام مضادة مفلورة (فلورة حمراء الخلية الإنسان، وفلورة خضراء الخلية الفأر). نقوم بتهجين الخليتين (دمجهما بإضافة فيروس سندي) في وسط مغذي، عند فحص الخلية المهجنة بعد مرور ٥ د نلاحظ أن غشاء الخلية متميز إلى منطقتين (نصف كرتين). خضراء وحمراء. ومع مرور الزمن  $z = ٤٠$  دقيقة، يلاحظ توزع متجانس للتفلور على سطح الخلية المهجنة، مما يدل على أن المكونات البروتينية للغشاء الهيوولي متحركة عبر جزيئات الدسم الفوسفورية. - وبالتالي يمكن القول أن الغشاء مكون من طبقتين من الدسم الفوسفورية تتخللهما بروتينات كروية بأحجام مختلفة و أوضاع متباينة ( ذات مظهر فسيفسائي ) وهذه الجزيئات في حركة دائمة ( فالغشاء ذو بنية مائعة ) لذا يطلق على هذا النموذج " الفسيفسائي المائع ". أنظر الشكل - ٤ - .





شكل - ٤ تجربة التهجين الخلوي إثبات فرضية سنجر و

نيكولسن

٣- طرق انتقال المواد عبر الغشاء الهيليوي :

يتم نقل المواد عبر الغشاء الهيليوي بطرق متعددة :

- فالماء ينتقل عبر الثقوب البروتينية للغشاء الهيليوي بواسطة ظاهرة الحلول

- بينما يتم نقل بعض المواد المنحلة بإحدى الطرق التالية :

١ - نقل المواد القابلة للذوبان في الدسم، فهو يتم عبر طبقتي الدسم المفسفرة

للغشاء الهيليوي و بواسطة ظاهرة الانتشار الحر.

ب نقل المواد القابلة للذوبان في الماء فهي تنقل عبر الأجزاء البروتينية (قنوات

بروتينية) للغشاء الهيليوي، أو بمساعدة انزيمات غشائية تعرف بالبرمياز تلعب دور

نواقل (الانتشار المسهل) شكل - ٥ -

- إن كل الطروق السابقة الذكر تتم دون استهلاك طاقة لذا يعرف هذا النوع من

النقل ( الانتشار الحر و الانتشار المسهل) **بالنقل غير الفعال.**

مرور الجزيئات القابلة مرور الماء والجزيئات الصغيرة مرور بعض الجزيئات  
للإلتحال في الدم الذائبة فيه بواسطة النواقل (البرمياز)

الشكل: ٥ طرق النقل غير الفعال (بواسطة الانت

ج- نقل الشوارد و بعض الجزيئات الصغيرة يتم عكس تدرج التركيز، أي من الوسط ناقص التوتر إلى الوسط زائد التوتر، و هذا بتدخل بروتينات غشائية

الشكل ٦ طرق النقل الفعال

تنتقل باستمرار على جهتي الغشاء الهيوولي أو بتشكيلها لقنوات (اينوفور =  
ممرات) عبر الغشاء الهيوولي مع استهلاك طاقة. يعرف هذا النوع من النقل **بالنقل**

**الفعال**. الشكل - ٦ أ

جسم  
خارجي  
ليزوزوم

**د-الاقتناص و الاطراح الخلوي:**

١- الاقتناص الخلوي: للخلية القدرة

على إدخال جزيئات صلبة أو سائلة

بحدوث تغيرات في الغشاء الهيوولي

. تدعى الظاهرة بالإقتناص الخلوي،

وهي نمط من النقل الفعال، مع العلم أنه

إنخماص  
فجوة بالعة  
إلتحام  
فجوة هاضمة

إذا كان النقل يتعلق بمادة صلبة، تدعى العملية البلع الخلوي. أما إذا كان النقل يتعلق بمادة سائلة فتدعى العملية

' بالجرع الخلوي ". وقد سمح الفحص

الشكل -٧-

المجهري بتحليل عملية الإقتناص الخلوي إلى مرحلتين

:مرحلة سلبية : تتمثل في التصاق الجزيئات بسطح الغشاء الهبولي.

-مرحلة فعالة : تتمثل في إدخال الجزيئات بانخصاص الغشاء الهبولي، وتشكل فجوة ضمن الهبولي.

أنظر الشكل - ٧ -

الإطراح الخلوي : يتم إطراح المواد المصنعة في الخلية أو الفضلات بواسطة ظاهرة

الإطراح الخلوي وهي عملية معاكسة للإقتناص الخلوي. أنظر الشكل ٨-

نواتج الإطراح

حويل إطراح

جهاز غولجي

شبكة هيولية

فعالة

نواة

ميتوكوندري

الشكل - ٨ - الإطراح الخلوي

٤- الأنظمة الغشائية :

لا يقتصر دور الغشاء الهيولي في الإحاطة بالخلية فقط، بل يمتد إلى داخلها ليحيط بمعظم العضيات الخلوية، مما يدل على وجود استمرارية بين أغشية الخلية وهذا ما يعرف بالأنظمة الغشائية، وهو ما يؤكد لنا وجود تماثل عام في بنية الأغشية، غير أنه يوجد اختلاف في نسب المكونات الكيميائية والسّمك لكل غشاء حسب وظيفة العضية المحيط بها.

#### أ- الشبكة الهيولية :

تظهر الشبكة الهيولية على شكل جملة من الأنابيب والكييسات المسطحة والمتفرعة تنتفخ الكييسات في بعض المناطق مشكّلة حوصيات انتقالية يحيط بالشبكة الهيولية غشاء له نفس بنية الغشاء الهولي، تميز الشبكة الهيولية بمظهرين :

- شبكة فعالة (محببة) يوجد على سطحها حبيبات ريبية.
- شبكة ملساء لا يوجد على سطحها حبيبات ريبية. أنظر الشكل ٩

ريبوزومات

حوصيات

شبكة هيولية

فعالة(محببة)

شبكة هيولية

ملساء

## الشكل -٩- بنية الشبكة الهيولية

دورها . :

-تعتبر الشبكة الهيولية الفعالة مقرا لتشكيل البروتين، لوجود الحبيبات الربية على أغشيتها.

- بينما تساهم الشبكة الملساء في تشكيل المواد الدسمة.

- كما تنظم الشبكة الهيولية نقل و تخزين المواد المصنعة بالخلية أو الممتصة من الوسط الخارجي.

ب- جهاز كولجي :

يتألف جهاز كولجي من جسيمات قاعدية (ديكتوزومات)، يتكون كل جسيم قاعدي من طبق ( ٤ - ٨ ) كيبسات مسطحة مقوسة ومجوفة تتبرعم الكيبسات مشكلة حويصلات كولجية، يحيط بكل كيبس غشاء أملس سمكه ٥٧٥ A له بنية ثلاثية الوريقات. أنظر الشكل - ١٠ -

حويصلات في

طريق التبرعم

حويصلات

ناضجة

كيبسات

صورة بالمجهر الالكتروني لجهاز كولجي  
رسم تخطيطي لما فوق بنية الجسم القاعدي

الشكل -١٠- بنية جسم قاعدي (ديكتيوزوم)

دوره :

- تدل الدراسات المختلفة أن لجهاز كولجي دور في إكمال تشكيل البروتينات والدسم وتحويلها إلى غلوكوبروتينات، وغلوكوليبيدات
  - يساهم في تركيب الغشاء السيليلوزي والصفحة الوسطى في الخلية النباتية.
  - كما يلعب جهاز كولجي دوراً في تجميع وتخزين ونقل منتجات الشبكة الهيولية.
  - ج- العلاقة البنوية والوظيفية بين الشبكة الهيولية جهاز كولجي :
- هناك عدة فرضيات تثبت وجود هذه العلاقات.

ج-١ - وجود مناطق انتقال بين الشبكة الهيولية وجهاز كولجي

- إن الحويصلات الصغيرة المتفرعة من غشاء الشبكة الهيولية الملساء تتجمع وتتحد مشكلة جهاز غشائي متطاول، عبارة عن الكيس الكولجي. أنظر
- الشكل - ١١ -

## شكل - ١١ -

## ج-٢- نقل البروتينات المتشكلة من الشبكة الهيولية إلى جهاز كولجي

تقوم الشبكة الفعالة بتشكيل البروتينات بفضل الحبيبات الريبية المتوضعة عليها ثم تنقل البروتينات إلى جهاز كولجي حيث تخزن وتصدر ضمن حويصلات كولجية، إلى أماكن عملها، لقد تم التأكد من هذه الفرضية بواسطة تجربة بالاد.

التجربة: عند حقن حمض أميني

مشع (لوسين) في خلية بنكرياس

لخنزير الهند، فإنه يلاحظ بعد ٥

دقائق من الحقن إندماج الحمض ا

لأميني المشع في البروتينات على

مستوى الشبكة الهيولية. وبعد ٢٠

دقيقة من الحقن يلاحظ انتقال

الإشعاع إلى جهاز كولجي مما يدل

على هجرة البروتينات من الشبكة

الهيولية إلى جهاز كولجي. وبعد ساعة

من الحقن يلاحظ الإشعاع في مستوى

الحبيبات الإفرازية الناتجة عن تبرعم

الكبيسات الكولجية.

هيولي

ريبوزومات

لوسين مسع

شبكة فعالة

بعد ٥ دق

جهاز غولجي

بعد ٢٠ دق

حويصل

إفراز

بعد ساعة



## الشكل - ١٢ -

## النتيجة :

يتركب البروتين على مستوى الشبكة الهيولية الفعالة ثم يخزن البروتين المصنع في جهاز كولجي الذي يطرحه عن طريق حويصلات إفرازية.

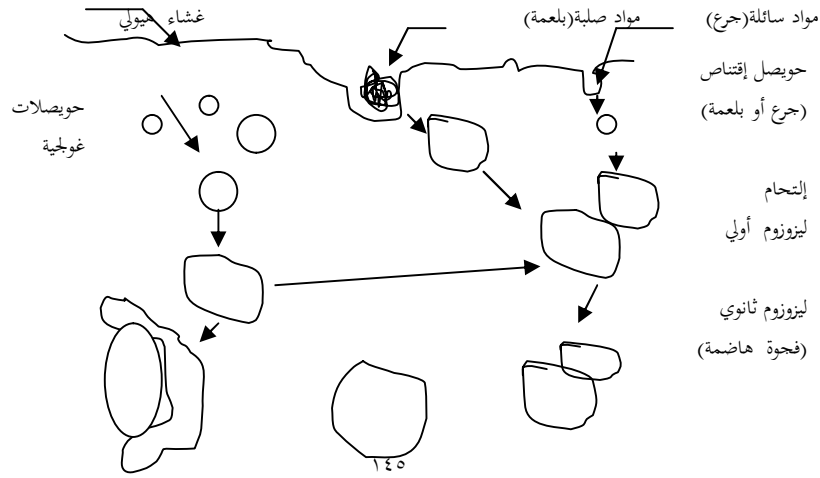
## ج ٣ - الجسيمات المحللة ( الليزوزومات ) :

الجسيمات المحللة حويصلات صغيرة منتشرة في الهيولى الأساسية قطرها حوالي ٠,٥ ميكرون، محاطة بغشاء بلاسمي مقاوم، تنشأ من تبرعم الكيسات الكولجية تلعب الجسيمات المحللة دوراً هاماً في هضم وتحليل الأجسام الغريبة و المكتنفات التي فقدت نشاطها.

تميز الجسيمات المحللة إلى مجموعتين.

١ - جسيمات محللة ابتدائية غنية بالأنزيمات، تخزن في صورة غير فعالة.

ب - جسيمات محللة ثانوية : وهي فعالة نشطة تتدخل في هدم مكونات خلوية عاطلة أو مواد ممتصة من طرق الخلية. أنظر الشكل ١٣





### لخلاصة :

- يمثل الغشاء الهولي الحدّ الفاصل بين الخلية ووسطها الخارجي، وهو مكوّن أساسا من طبقتين من الدسم الفوسفورية تتخللهما بروتينات.
- تحاط معظم العضيات الخلوية بأغشية بلازمية مشابهة للغشاء الهولي.
- يعتبر الغشاء الهولي الممر الوحيد لجميع المواد المتبادلة بين الخلية ووسطها الخارجي.

### أسئلة التصحيح الذاتي

١ - يمثل الشكل - ١ - بمساعدة رسم تخطيطي وضح الفرضية الحديثة لبنية بنية الغشاء الهيوولي تحت المجهر الإلكتروني. ثم أذكر بعض خصائصه.

٢ - إنَّ الدراسة المجهرية لبعض الظواهر الخلوية سمحت بانجاز الوثيقة - أ - ٣ - ما هي الظاهرة المقصودة ؟

- أعد رسم الوثيقة مع كتابة البيانات

- ضع على الرسم أسهماً موجهة

حسب التسلسل الزمني لمرحل الظاهرة

٣- ننجز على الفأر التجربة التالية :

- نحقن حمضاً أمينياً مشعاً : اللوسين المشع في الزمن  $z = 0$ .

- نأخذ عينات متتالية لخلايا B من المعثكلة في الأزمنة،  $z_1 - z_2 \dots z_6$

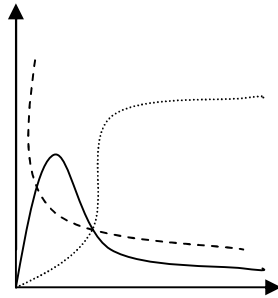
بعد الحقن، ثم نكشف عن الإشعاع على مستوى البنيات الخلوية المختلفة.

- تترجم المنحنيات التالية تطور الإشعاع على مستوى هذه البنيات.

١ - حلل كلاً من المنحنيات الثلاثة للوثيقة.

ب - حدّد مسار الجزيئات المشعة

عبر الخلية B للمعثكلة.



— شبكة هيولية  
- - - جهاز غولجي  
... حبيبات الإفراز

## أجوبة التصحيح الذاتي :

- ١ - ١ - ورقة نيرة.
- ٢ - ورقة عاتمة.
- ٣ - ورقة نيرة.
- النموذج الحديث للغشاء الهيوولي. راجع نموذج سنجر ونيكولسن  
الشكل -٤-
- ٢ - الظواهر المقصودة :
- الإقتناص الخلوي.
- الإطراح الخلوي.
- ٣ - تحليل المنحنيات :
- على مستوى الشبكة الفعالة.
- في ز١ ، ز٢ ، يزداد الإشعاع بسرعة ثم يتناقص مع مرور الزمن.
- على مستوى حبيبات الإفراز ( حويصلات كوجلي )  
ز١ ، ز٢ ، يتزايد الإشعاع بسرعة ثم يثبت مسار الجزئيات المشعة.  
الشبكة الفعالة ← جهاز كوجلي ← حويصلات كوجلي.
- تمارين الإرسال الأول
- التمرين الأول :

- تعتبر بلازما الدم من السوائل الهامة التي يحتوي عليها الجسم، و لدراسة الخواص الفيزيائية والكيميائية لهذا السائل انجزنا التجارب التالية :

١ - وضعنا داخل كيس ميز كمية من بلازما و غمرنا الكيس في حوض به ماء مقطر وبعد ساعات أجرنا على البلازما الموجودة داخل الكيس وعلى الماء المقطر الكشوفات التالية :

- غلوكوز. - كلور الصوديوم. - عدم وجود البروتيدات.

التجارب العينة	البلازما داخل الكيس في نهاية التجربة	محتويات الماء المقطر في نهاية التجربة
التجربة (أ) تسخين	تختز في البلازما (خثارة)	لم يحدث تخثر
التجربة (ب) نترات الفضة	راسب أبيض يتأكسد بالضوء	راسب أبيض يتأكسد بالضوء

- غلوكوز. - كلور الصوديوم. - عدم وجود البروتيدات.

١ - كيف يمكن التحقق من النتائج الكشف السابقة ؟

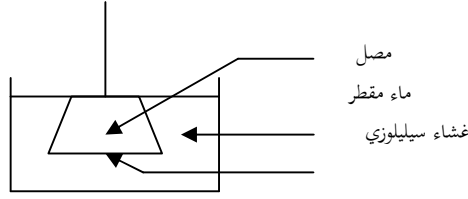
٢ - بأي ظاهرة ينفذ الغلوكوز وكلور الصوديوم عبر غشاء السيلوفان ؟

٣ - ماهي خاصية غشاء السيلوفان التي كشفنا عنها ؟

٤ - ماهي الأهمية التطبيقية لهذه الخاصية ؟

التمرين الثاني :

نسد الفوهة السفلية لأنبوب قمعي بواسطة غشاء السيلوفان ثم نملأ نصف هذا الأنبوب بمصل (محلول مكوّن من مواد متنوعة) نغمر هذا الأنبوب القمعي في حوض به ماء مقطر ( الشكل ) وبعد ساعة، كُشف عن وجود المواد التالية في ماء الحوض



- غلوكوز. - كلور الصوديوم. - عدم وجود البروتينات.
- ١ - كيف يمكن التحقق من النتائج الكشف السابقة ؟
- ٢ - بأي ظاهرة ينفذ الغلوكوز وكلور الصوديوم عبر غشاء السيلوفان ؟
- ٣ - ماهي خاصية غشاء السيلوفان التي كشفنا عنها ؟
- ٤ - ماهي الأهمية التطبيقية لهذه الخاصية ؟

### التمرين الثالث:

لدراسة خواص الغشاء السيتوبلازمي أنجزت التجارب التالية:

نعة خلايا بشرية البصل في محلول أزرق الكريزول المخفف ، فتلونت فجواتها بالازرق

القائم و بسرعة. بعد ذلك عولجت كما يلي:

- ١- سلت جيدا ووضعت في الماء فبقيت الفجوات محفظة عسلونها، كما بقي الماء عديم اللون.

٢- أضفنا للماء محلول سكروز بتركيز ٤٠% فأصبحت الخلية في حالة إنكماش و حافظت فجواتها على لونها الازرق.

٣- وضعت الخلايا السابقة في ماء ساخن جدا (٧٠°م) ، فلاحظنا تلون الماء بالازرق و زوال حالة الانكماش

فسر النتائج المحصل عليها بعد كل معاملة

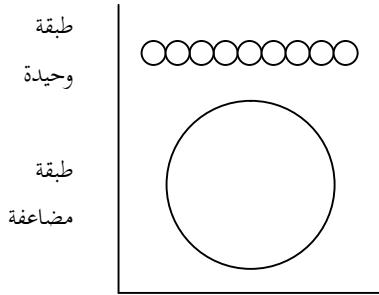
## ملحق

إرتأت مديرية البحث و التنشيط التربوي ، بالمركز الوطني للتعليم المعمم أن تضيف هذا الملحق لتوضيح بعض دروس الارسال الاول ، و هذا إستجابة لإستفسارات المراسلين .

### الموضوع الاول:الدمس (راجع ص:٣٤)

#### ١- سلوك الدمس في الماء:

بينت التجارب المخبرية أن الدمس تنتظم في طبقة أحادية الجزيئات علسطح الماء أو في تشكل طبقة مضاعفة الجزيئات تأخذ شكل حوصل أنظر الشكل المقابل :



**تصنيف الدسم :** تصنف الدسم حسب القرائن التالية :

\*نواتج الاماهة \*نوع الكحول \*نوع الحمض الدسم

### ١- تصنيف الدسم حسب نواتج الاماهة:

إذا نتج عن إماهة دسم ، كحول و حمض دسم فقط ، يدعى هذا الدسم بالبسيط أما إذا نتج بالاضافة إلى ذلك ، مواد أخرى مثل حمض الفوسفور أو قاعدة آزوتية أو كبريتية فالدسم يدعى بالمعقد

**تصنيف الدسم حسب نوع الحموض الدسمة:** نميز دسم مشبعة و أخرى غير مشبعة ، نسبةً للحموض الدسمة المكونة لها ، و الحموض الدسمة ، عبارة عن سلاسل كربونية طويلة لها عدد زوجي من ذرات الكربون:

أ- الدسم المشبعة: هي دسم تتكون من احماض دسمة لا تحتوي على روابط مزدوجة من نوع ( CH=CH ) و بذلك لا يمكن أن تتفكك بواسطة الاكسدة . تكون الدسم المحتوية على هذه الاحماض في حالة صلبة عند درجة الحرارة العادية

مثل : - حمض الزبدة: C4H8O2 و حمض الشمع: C18H36O2

ب- الدسمة غير المشبعة : هي دسم تتكون من احماض دسمة تحتوي على رابطة مزدوجة من نوع ( CH=CH ) أو أكثر و بذلك يمكن أن تتفكك بواسطة الاكسدة إلى جزئين أو أكثر تنتشر في الهواء معطية روائح مميزة. توجد في

حالة سائلة عند درجة الحرارة العادية مثل حمض الزيت : C18H34O2

**تصنيف الدسم حسب نوع الكحول :** نميز ثلاثة اقسام أساسية:

١- **الجليسيريدات وهي الدسم التي تتركب من كحول الغليسيرول** تعتبر هذه

الدسم أهم مخزن للحموض الدسمة في المادة الحية.



٢- الستيرويدات وهي دسم تحتوي على كحول من نوع الستيروول وتمثل الجزء الاساسي لبعض الفيتامينات والهرمونات ، كثيرة الانتشار في المصورة و الكبد. وتعتبر المصدر الرئيسي للكوليستيرول.

٣- السيرويدات: وهي دسم تحتوي على كحول من نوع السيروول ، وتكون صلبة مثلا شمع النحل و كيتون الاوراق النباتية ، غلاف عصيات كوخ.. إلخ  
أما أهم الدسم المعقدة :

- ١- الغليسيريدات المفسفرة وهي الدسم التي تحتوي على كحول الغليسيرول وحمض الفوسفورو الكولين ، مثل الليسيتين
  - ٢- السفنغوزينات دسم تحتوي على كحول السفنغوزين مثل النخاعين ( غمد الاعصاب) وسيريبروزين ( المادة البيضاء للمخ)
- تساهم هذه الدسم في الكثير من النشاطات الفيزيولوجية مثل النفاذية الخلوية


### الموضوع الثاني: البروتيدات (راجع الصفحة :٥٧)

الخاصية الحمقلية: نوضح نتيجة التجربة المدروسة في الصفحة ٥٧ بما يلي:  
-يسلك البروتين في وسط حمضي، سلوك قاعدة أي يكتسب شحنة موجبة (إكتساب H ) و ينتقل في مجال كهربائي نحو القطب السالب ويسلك سلوك حمض في وسط قاعدي أي يكتسب شحنة سالبة (فقدان H ) و ينتقل في مجال كهربائي نحو القطب الموجب و لذلك تعرف البروتينات بالمركبات الحمقلية أو الامفوتيرية أي يتوقف تشردها على درجة PH ، نفس الظاهرة تنطبق على الاحماض الامينية و يمكن توضيح ذلك التفاعلات التالية:

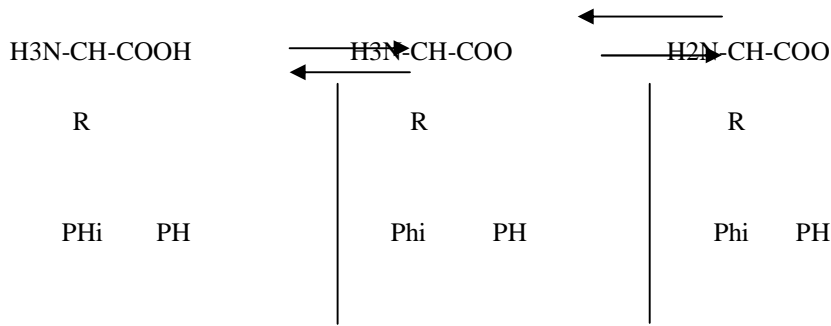
\*تفاعل حمض أميني مع حمض كلور الماء يتم بتأين الوظيفة القاعدية (NH



\*تفاعل حمض أميني مع الصودا (قاعدة) يتم بتأين الوظيفة الحمض (COOH)



كما يمكن تلخيص كل الحالات الكهربائية للحموض الامينية، وكذلك للبروتينات بواسطة المعادلات التالية:



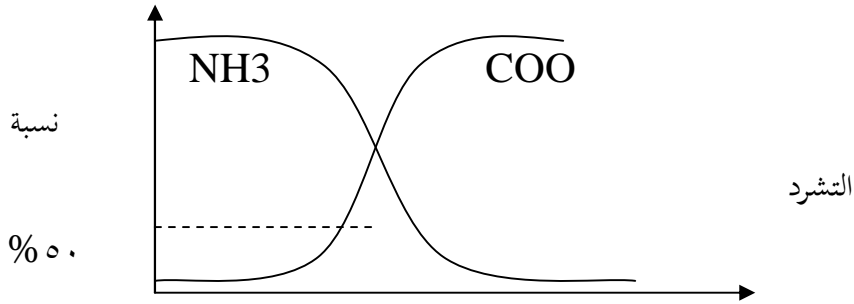
الشحنات +      الشحنات -      الشحنات +      الشحنات -  
 الشحنات -      الشحنات +

الشرح :

- في الوسط الحمضي تتأين الوظائف القاعدية للبروتين فتكسب شحنة موجبة
- في الوسط القاعدي تتأين الوظائف الحمضية للبروتين فتكسب شحنة سالبة

- عند قيمة PH معينة خاصة بنوع البروتين وتدعى  $\text{Phi}$  تتأين نصف الوظائف القاعدية ونصف الوظائف الحمضية أي أن عدد الشحنات السالبة يساوي عدد الشحنات الموجبة و بالتالي تكون شحنة هذا البروتين تساوي صفراً.  
 عند  $\text{Phi}$  PH تكون شحنة البروتين سالبة لانه يحتوي على وظائف  $\text{COOH}$  متأينة أكثر من وظائف  $\text{NH}_2$  و عكس كل ذلك يحدث عند  $\text{Phi}$  PH و بعبارة أخرى تحدد نسبة الشحن المختلفة بقيمة PH الوسط، كما يبينه المنحنى التالي:

منحنى تغير نسبة تشارد الوظائف  $\text{NH}_2$   $\text{COOH}$  في البروتين




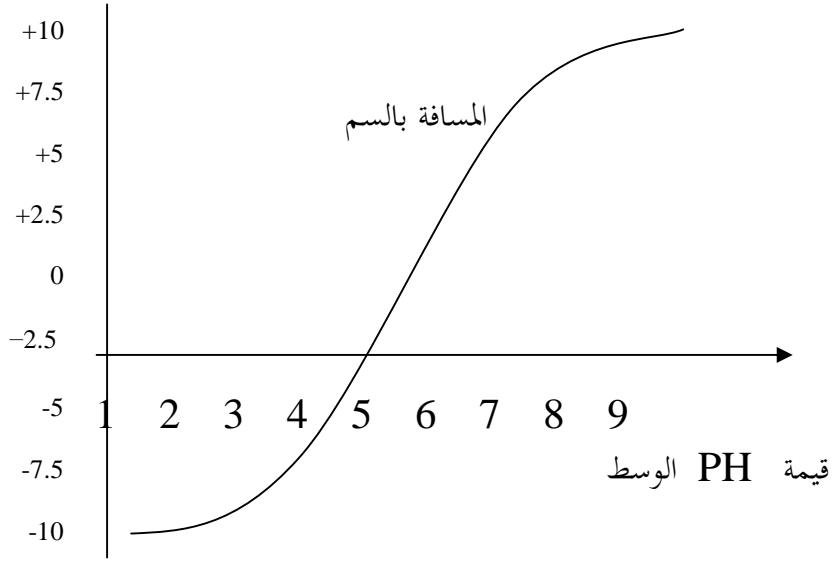
PH

قيمة PH الوسط

تمرين تطبيقي:

أمكنت تجربة خاصة من إنجاز منحنى بياني ( الشكل ١ ) لتغيرات تحرك برتين زلال البيض في مجال كهربائي بدلالة درجة PH الوسط إبتداءً من نقطة متواجدة في منتصف المسافة بين القطب (+) و القطب (-)





### الاسئلة

١- حلل و فسر المنحنى البياني-

٢- ما هي قيمة **Phi** زلال البيض ؟ علل إجابتك

٣- مثل زلال البيض في درجة  $PH = 1$  و  $PH = 8$  ،  $PH = 5,0$  مستعملا



### الاجابة توجد في نهاية الملحق

الموضوع الثالث : الحموض النووية ( راجع الصفحة ٥٨ )

ذكرنا في الدروس السابقة أن الباحثان واتسن وكريك هما اللذان عرضى نموذج ثلاثي الابعاد للـ ADN و ذلك سنة ١٩٥٣ وهنا ينبغي الاشارة أنهما

إعتمدا للوصول الى ذلك على أعمال من سبقهم من الباحثين و أشهرها أعمال ويلكينز و قرانكلين و أعمال شرغاف.

١- أعمال ويلكينز و فرانكلين : طبقا هذان العالمان أشعة ( X ) على جزيئ ال ADN ثم درسا إنكسارها فإستنتجا من ذلك أن لجزيئ ال ADN بنية حلزونية تكونت نتيجة دوران سلسلتين متقابلتين في تواز مضاد ، حول محور مركزي إفتراضي ، و أن الاسس الازوتية متوضعة عموديا على هذا المحور.

٢- أعمال شرغاف (١٩٥٠) قام الباحث شرغاف بتحليل كيميائي كمي للقواعد الازوتية المركبة لل ADN لدى أنماط مختلفة من الكائنات الحية، نذكر منها النتائج التالية:

الكائن	A	G	C	T	A + G	C + T
الانسان	30.9	19.8	19.4	29.4	1.04	1,٤٠
الحروف	29.3	21.4	21	28.3	1.03	1.20
القمح	27.3	22.8	22.8	27.1	1.00	1.25

و من النتائج المبينة في الجدول نستخرج ما يلي :

$$G = C \quad T = A$$

$$C + T = A + G \quad \text{أي عدد القواعد البيريميديية} = \text{عدد القواعد البورينية}$$

هذه النتائج و غيرها من المعطيات هي التي مكنت وتسون و كريك من إكتشاف البنية الفراغية لجزيئ ال ADN و المسماة "الحلزون المزدوج"

**تمرين تطبيقي:** إتماداً على النتائج المسجلة في الجدول السابق ، أنجز نموذجاً افتراضياً لقطعة ADN عند الإنسان تضم ١٨ قاعدة آزوتية.  
الاجابة في نهاية الملحق

### الاجابة عن سؤال البروتينات:

#### الجواب الاول

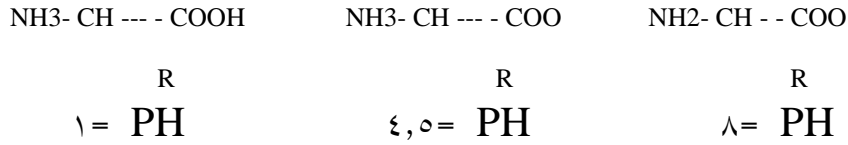
١- نلاحظ من المنحنى أنه كلما إنخفضت قيمة الـPH عن ٤,٥ ، تحرك البروتين إلى مسافة أكبر نحو القطب السالب وهذا يدل على إرتفاع للشحنة الموجبة في البروتين ، مع إنخفاض قيمة الـ PH ، ويعود ذلك إلى إرتفاع نسبة تايين الوظائف NH<sub>2</sub>

٢- نلاحظ من المنحنى أنه كلما إرتفعت قيمة الـPH عن ٤,٥ ، تحرك البروتين إلى مسافة أكبر نحو القطب الموجب وهذا يدل على إرتفاع للشحنة السالبة في البروتين ، مع إرتفاع قيمة الـ PH ، ويعود ذلك إلى إرتفاع نسبة تايين الوظائف COOH

٣- في PH = ٤,٥ بقي البروتين في نقطة البدء و لم يتحرك نحو أي قطب، مما يدل على أن حاصل شحنة البروتين "صفر" و هذا يعني أن عدد الشحنات السالبة COO يساوي عدد الشحنات الموجبة (٣ NH)

الجواب الثاني: قيمة Phi زلال البيض هي ٤,٥ لأنه فيها تساوى عدد الشحنات (+) مع عدد الشحنات (-) و لذلك لم يتحرك البروتين نحو أحد القطبين

الجواب الثالث: - تمثيل زلال البيض في درجة  $\epsilon, \theta = \text{PH}$  ،  $\lambda = \text{PH}$  ،  $\nu = \text{PH}$



### الاجابة عن سؤال الحموض النووية

لدينا المعطيات التالية

$$\begin{array}{l}
 A+C+T+G=18 \\
 A=1 \quad A=T \\
 T \\
 C=1 \quad C=G \\
 G
 \end{array}
 \left. \vphantom{\begin{array}{l} A+C+T+G=18 \\ A=1 \quad A=T \\ T \\ C=1 \quad C=G \\ G \end{array}} \right\}
 \begin{array}{l}
 2C + 2A = 18 \\
 C + A = 9
 \end{array}
 \left. \vphantom{\begin{array}{l} 2C + 2A = 18 \\ C + A = 9 \end{array}} \right\}
 \begin{array}{l}
 A + 1.40A = 9 \\
 A(1 + 1.40) = 9 \\
 2.40A = 9 \\
 A = \frac{9}{2.40} = 4 \\
 T = 4
 \end{array}$$

$$\begin{array}{l}
 C+G \\
 = 1.40 \\
 A+T \\
 C \\
 = 1.40 \\
 A
 \end{array}
 \quad
 \begin{array}{l}
 C = 1.40 A
 \end{array}$$

$$C + A = 9$$

$$C = 5 \quad G = 5$$

$$A = 4$$

$$T = 4 \quad A = 4 \quad C = 5 \quad G$$

الخلاصة:

**5** = الان وقد وجدنا عدد كل قاعدة يمكننا أن نقترح نموذجاً افتراضياً

لقطعة الـ **ADN** ( لان هناك عدة احتمالات ممكنة )

C	G	C	A	T	A	G	T	G
G	C	G	T	A	T	C	A	C